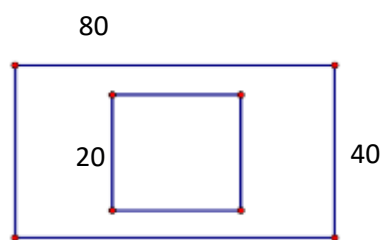




thường 3 cuốn tập. Cô chủ nhiệm của lớp đi mua tập để làm phần thưởng tại một cửa hàng văn phòng phẩm với giá sỉ 1 lốc 10 cuốn tập là 49000 đồng, nhưng mua lẻ là 5500 đồng 1 cuốn.

- Cô chủ nhiệm cần mua bao nhiêu cuốn tập để thưởng cho các học sinh khá và giỏi của lớp 6A?
- Theo em cô nên mua theo cách nào tiết kiệm nhất và số tiền phải trả là bao nhiêu?







**Bài 6. (1,5 điểm):** Bác Lan có một mảnh vườn hình chữ nhật với chiều dài 80 m và chiều rộng 40 m. Giữa mảnh vườn bác đào một cái ao hình vuông để nuôi cá có cạnh là 20 m, phần còn lại của mảnh vườn bác dùng để trồng rau.





- Tính diện tích trồng rau và chu vi mảnh vườn.

- Bác Lan cần làm rào bằng lưới B40 chiều cao là 2m xung quanh mảnh vườn, biết mỗi mét vuông giá 150 000 đồng. Tính số tiền Bác Lan phải chi để làm hàng rào?

**Bài 7. (1,0 điểm)** Hãy đọc dữ liệu thống kê từ biểu đồ tranh sau đây và trả lời các câu hỏi.

Số đồng hồ lắp ráp được tại phân xưởng A trong tuần	
Ngày	Số đồng hồ
Thứ 2	
Thứ 3	
Thứ 4	
Thứ 5	
Thứ 6	
Thứ 7	

( = 100 đồng hồ;  = 50 đồng hồ)

- Ngày nào phân xưởng lắp ráp được nhiều đồng hồ nhất? Bao nhiêu chiếc?
- Tính số lượng đồng hồ phân xưởng lắp ráp được trong tuần.

**HẾT**

