

CHÀO MỪNG CÁC EM HỌC
SINH

Địa Lí

6



**Bài 2. KÍ HIỆU VÀ CHÚ
GIẢI TRÊN MỘT SỐ BẢN
ĐỒ
THÔNG DỤNG**



Bài 2. KÍ HIỆU VÀ CHÚ GIẢI TRÊN MỘT SỐ BẢN ĐỒ THÔNG DỤNG

Nội dung 1
KÍ HIỆU BẢN ĐỒ
VÀ
CHÚ GIẢI

Nội dung 2
CÁC LOẠI KÍ
HIỆU
BẢN ĐỒ



Bài 2. KÍ HIỆU VÀ CHỦ GIẢI TRÊN MỘT SƠ BẢN ĐỒ THÔNG DỤNG

1. Kí hiệu và bảng chú

a. Kí hiệu bản đồ

- **đề** Kí hiệu bản đồ là những dấu hiệu quy ước (màu sắc, hình vẽ) dùng để thể hiện các đối tượng địa lí trên bản đồ.

cho biết các kí hiệu a,b,c,d tương ứng với nội dung các hình nào (1,2,3,4)

? *Kí hiệu bản đồ là gì?*



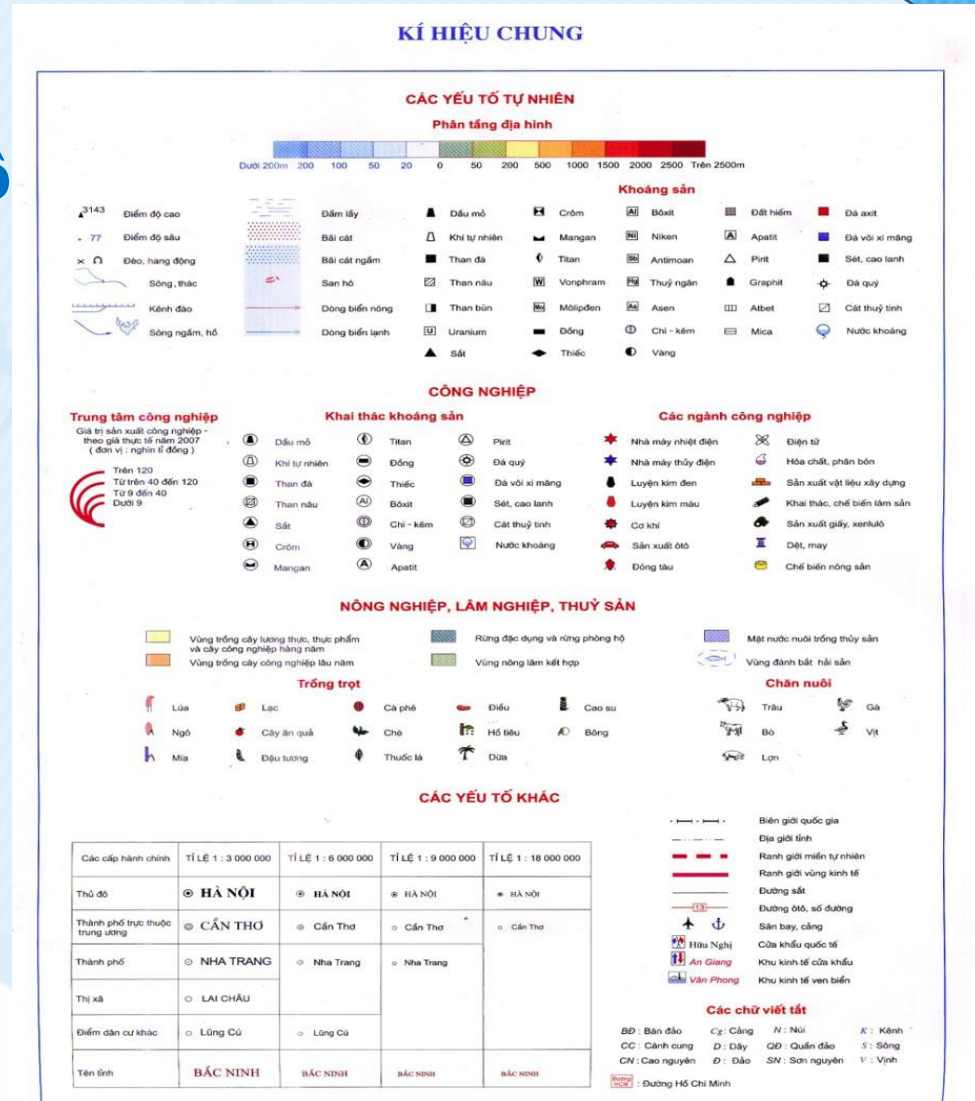
Hình 2.1. Một số đối tượng địa lí và kí hiệu quy ước của chúng trên bản đồ.

Bài 2. KÍ HIỆU VÀ CHỦ GIẢI TRÊN MỘT SƠ BẢN ĐỒ THÔNG DỤNG

1. Kí hiệu và bảng chú giải bản đồ

- KHBD giúp người đọc phân biệt được sự khác nhau của các thông tin thể hiện trên bản đồ

KHBD trong hình có đa dạng không? Kí hiệu bản đồ có tác dụng gì?



Bảng kí hiệu bản đồ trong Atlas địa lí VN

Bài 2. KÍ HIỆU VÀ CHỦ GIAI TRÊN MỘT SƠ BẢN ĐỒ THÔNG DỤNG

1. Kí hiệu và bảng chú

c. Bảng chú giải bản đồ

- Bảng chú giải giúp giải thích các thông tin kí hiệu trên bản đồ


Xác định các yếu tố sau: Bảng chú giải, kí hiệu.

2. Kí hiệu nào thể hiện các mỏ sắt, than? Kí hiệu nào thể hiện ranh giới của thành phố Hà Nội và các tỉnh lân cận?

? Bảng chú giải là gì?



Bản đồ hành chính Hà Nội



Hình 2.2. Bản đồ địa hình và sự phân bố một số mỏ sắt, mỏ than trên thế giới.

Bài 2. KÍ HIỆU VÀ CHỦ GIẢI TRÊN MỘT SƠ BẢN ĐỒ THÔNG DỤNG









2. Các loại kí hiệu bản đồ

PHIẾU HỌC TẬP

S T T	Các loại kí hiệu	Liệt kê các loại kí hiệu có trên h2.2, 2.3
1	Kí hiệu tượng hình	Sân bay
2	Kí hiệu hình học	Than, sắt
3	Màu sắc, nét chải	Phân màu độ cao, phân tầng độ sâu, Đường ranh giới quốc gia, Ranh giới tỉnh, Sông,...

Bài 2. KÍ HIỆU VÀ CHÚ GIẢI TRÊN MỘT SỐ BẢN ĐỒ THÔNG DỤNG

2. Các loại kí hiệu bản đồ

Kí hiệu	Ví dụ
Kí hiệu điểm: <i>Biểu hiện những sự vật, hiện tượng địa lí phân bố theo những điểm riêng biệt</i>	 Sân bay  Cửa khẩu  Cảng
Kí hiệu đường: <i>Biểu hiện những sự vật, hiện tượng địa lí phân bố theo chiều dài</i>	 Đường ô tô  Ranh giới quốc gia
Kí hiệu diện tích: <i>Biểu hiện những sự vật, hiện tượng địa lí phân bố theo diện tích</i>	 Đất cát  Đất phù sa  Đất phèn

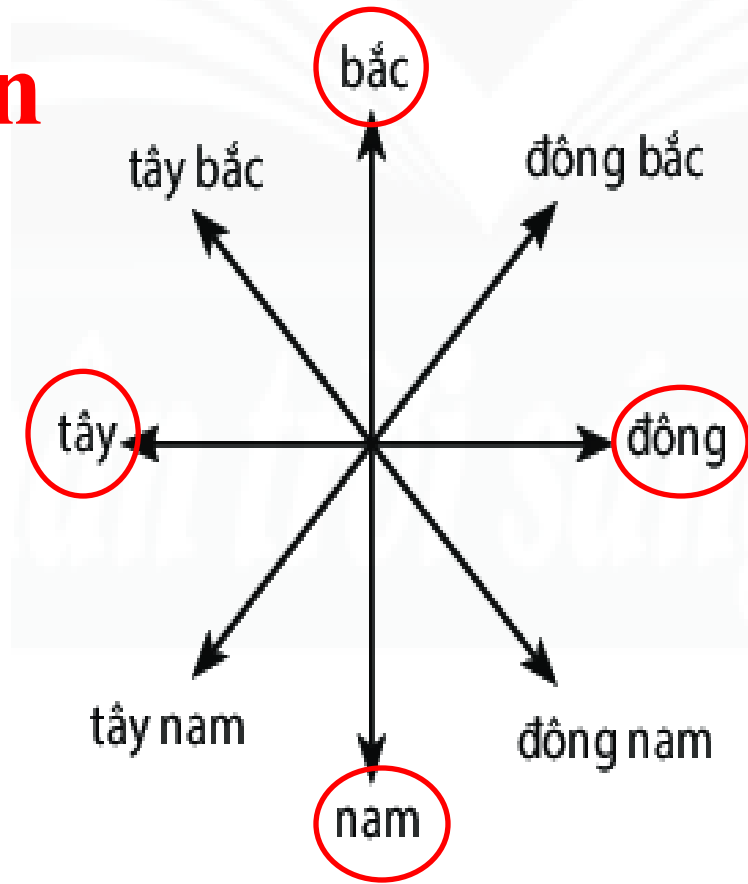
BÀI 3: TÌM ĐƯỜNG ĐI TRÊN BẢN ĐỒ



BÀI 3: TÌM ĐƯỜNG ĐI TRÊN BẢN ĐỒ

I. Phương hướng trên bản đồ

Quan sát hình 3.1.
Em hãy xác định
trên bản đồ có mấy
hướng chính?



Hình 3.1 Các hướng chính
và hướng trung gian

BÀI 3: TÌM ĐƯỜNG ĐI TRÊN BẢN ĐỒ

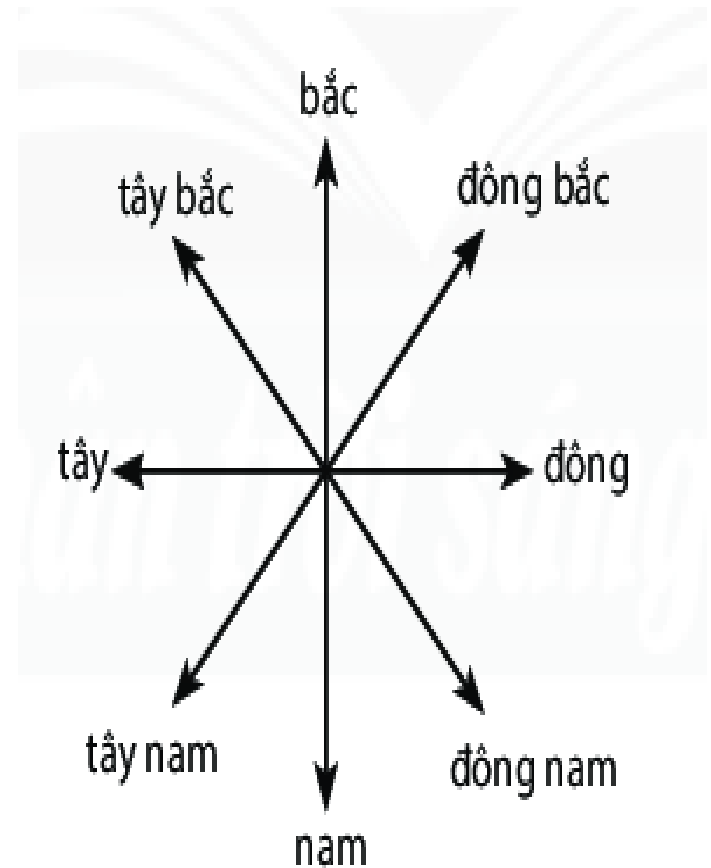
I. Phương hướng trên bản đồ

Các hướng chính:

- Bắc
- Nam
- Đông
- Tây

Các hướng trung gian:

- Đông bắc
- Tây bắc
- Đông nam
- Tây nam.



Hình 3.1 Các hướng chính và hướng trung



LÀM SAO XÁC ĐỊNH HƯỚNG TRÊN BẢN ĐỒ ?



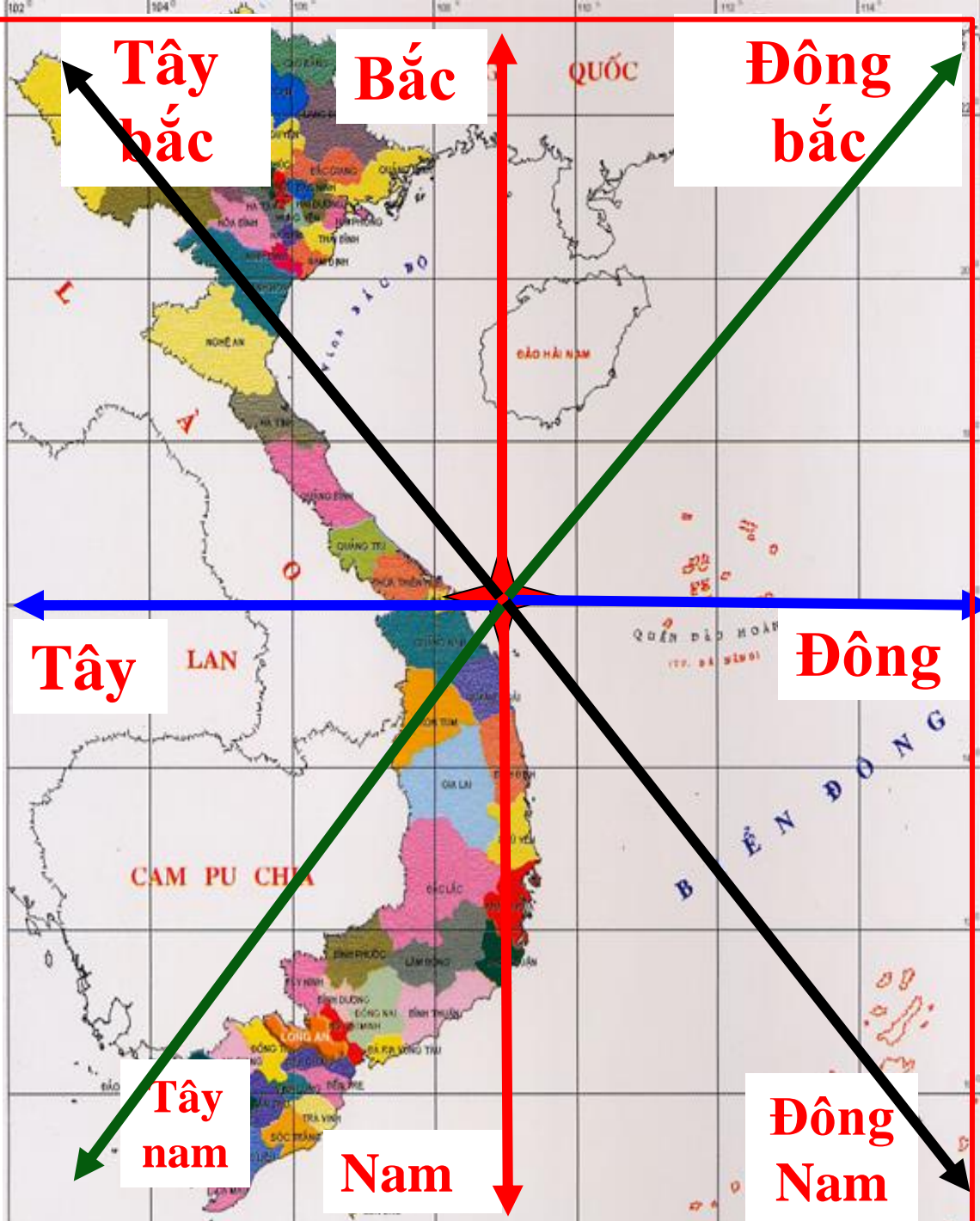
Bản đồ không có hệ thống kinh, vĩ tuyến




Bản đồ có hệ thống kinh, vĩ tuyến

Sử dụng hệ thống kinh tuyến, vĩ tuyến qui ước như sau:

- Theo qui ước, phần chính giữa bản đồ là phần trung tâm.
- Đầu trên kinh tuyến chỉ hướng Bắc. Đầu dưới chỉ hướng Nam.
- Đầu bên phải của vĩ tuyến chỉ hướng Đông. Đầu bên trái chỉ hướng Tây.



Đối với những bản đồ không thể hiện lưới kinh tuyến và vĩ tuyến



Hình 3.3. Mũi tên chỉ hướng Bắc.



Hình 3.2. Kim chỉ nam.

Từ mũi tên chỉ hướng Bắc trên Bản đồ, xác định hướng Bắc. Sau đó xác định các hướng còn lại

