

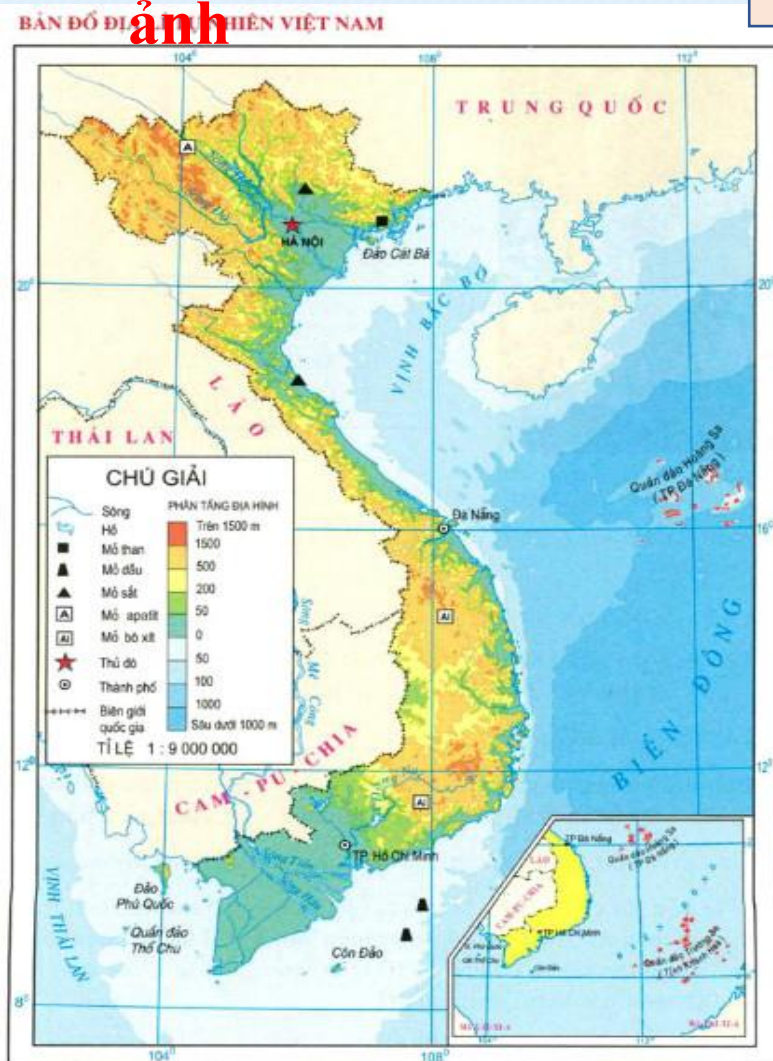


**Bài 2. KÍ HIỆU VÀ CHÚ
GIẢI TRÊN MỘT SỐ BẢN
ĐỒ
THÔNG DỤNG**

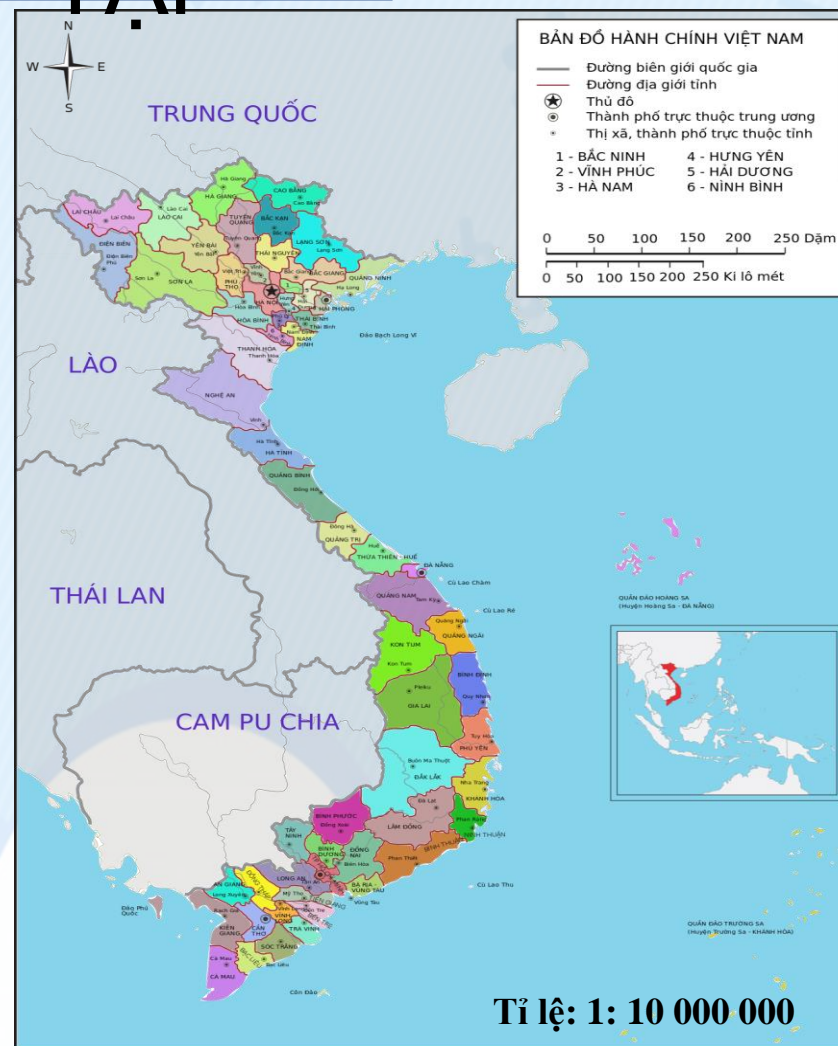
Bài 2. KÍ HIỆU VÀ CHÚ GIẢI TRÊN MỘT SỐ BẢN ĐỒ THÔNG DỤNG

Quan sát hình ảnh

LUYỆN TẬP



Hình 3. Bản đồ Địa lý tự nhiên Việt Nam



Bài 2. KÍ HIỆU VÀ CHÚ GIẢI TRÊN MỘT SỐ BẢN ĐỒ THÔNG DỤNG

LUYỆN TẬP

Nghiên cứu hình bản đồ và hoàn thành phiếu học tập vào vở cá nhân theo mẫu sau

Tên bản đồ	
Tên các kí hiệu bản đồ	
Các yếu tố được thể hiện trong bảng chú giải	

Bài 2. KÍ HIỆU VÀ CHÚ GIẢI TRÊN MỘT SỐ BẢN ĐỒ THÔNG DỤNG

LUYỆN TẬP

Bài tập 1

Dựa vào hình 2.2 và hình 2.3 em hãy:

- Xác định vị trí và độ cao của đỉnh núi Ê-vơ-rét (Everest), vị trí và độ sâu của vực biển Ma-ri-a-na (Mariana).*
- Tìm dãy núi Rốc-ki (Rocky).*
- Hãy xác định vị trí của sân bay Nội Bài.*

**Đáp án: - Đỉnh Ê-vơ-ret cao 8848m
- Vực Ma-ri-a-na sâu 10 898 m**

VẬN DỤNG

1. Mỗi học sinh tự làm các kí hiệu điểm, hình học, chữ bằng bìa cứng (Mỗi loại kí hiệu làm khoảng 3-5 kí hiệu)

2. Đọc các kí hiệu bản đồ trên bản đồ hành chính và bản đồ tự nhiên của TP HCM.

Câu 1: Để thể hiện đường ranh giới quốc gia người ta dùng kí hiệu gì?

- A . Kí hiệu điểm
- B. Kí hiệu đường
- C. Kí hiệu diện tích

Câu 2: Để thể hiện sân bay, cảng biển người ta dùng kí hiệu gì?

- A . Kí hiệu điểm
- B. Kí hiệu đường
- C. Kí hiệu diện tích

Câu 3: Kí hiệu bản đồ dùng để biểu hiện nội dung gì?

- A. Đối tượng địa lí
- B. Khái niệm địa lí
- C. Bản đồ địa lí

Câu 4: Ý nghĩa kí hiệu bản đồ?

- A. Bảng chú giải giúp giải thích các thông tin kí hiệu trên bản đồ
- B. Bảng chú giải giúp giải thích các thông tin kinh tuyến, vĩ tuyến trên bản đồ
- c. Bảng chú giải giúp giải thích các thông tin tọa độ địa lí trên bản đồ

Câu 5: Để thể hiện diện tích đất trồng lúa trên bản đồ người ta dùng kí hiệu gì?

- A . Kí hiệu điểm
- B. Kí hiệu đường
- C. Kí hiệu diện tích



BÀI 3: TÌM ĐƯỜNG ĐI TRÊN BẢN ĐỒ



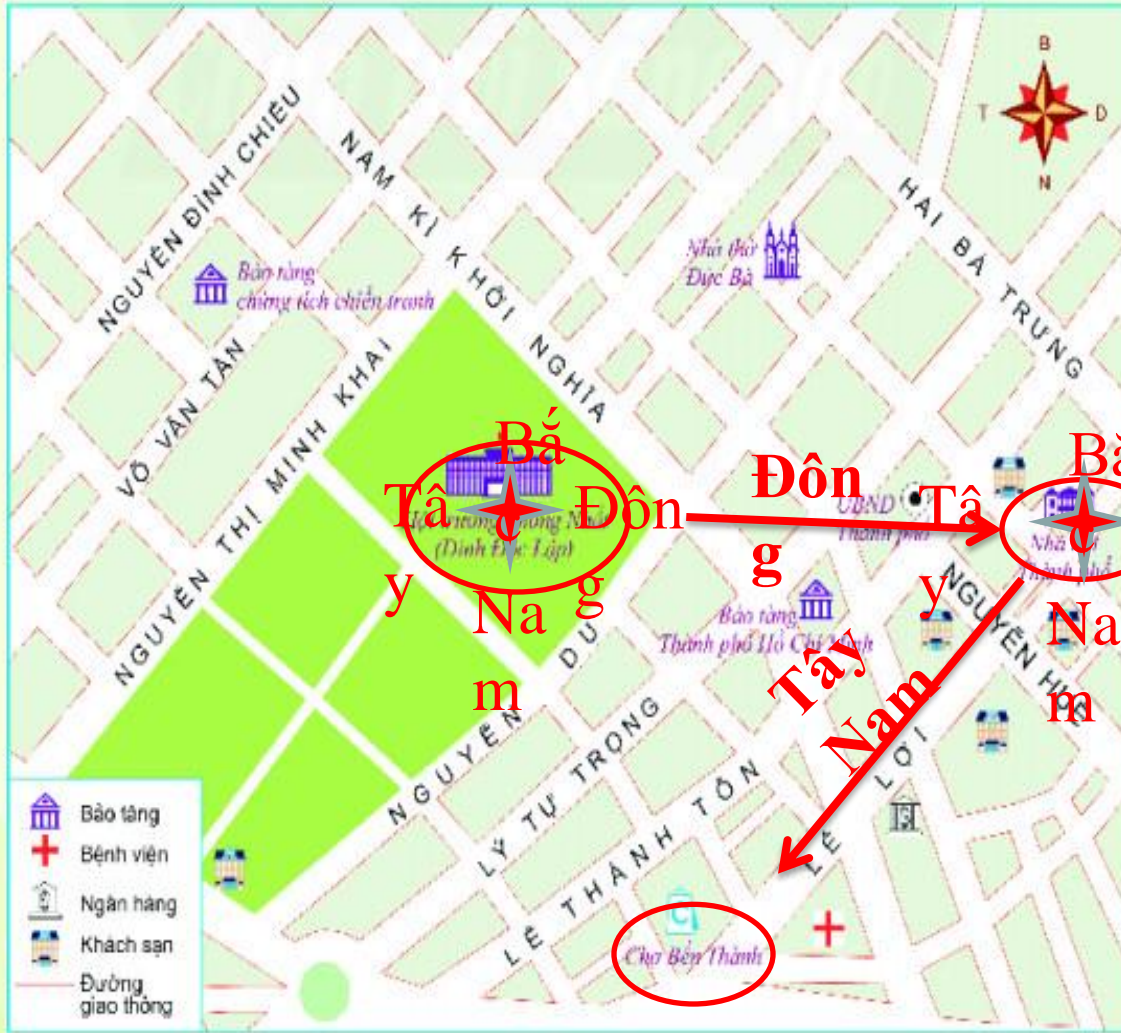
BÀI TẬP

Dựa vào hình 3.5 em hãy xác định:

- Vị trí của hội trường Thống Nhất (Dinh Độc Lập), Nhà hát Thành Phố, chợ Bến Thành?

- Nhà hát Thành Phố nằm ở phía nào của Hội trường Thống Nhất.

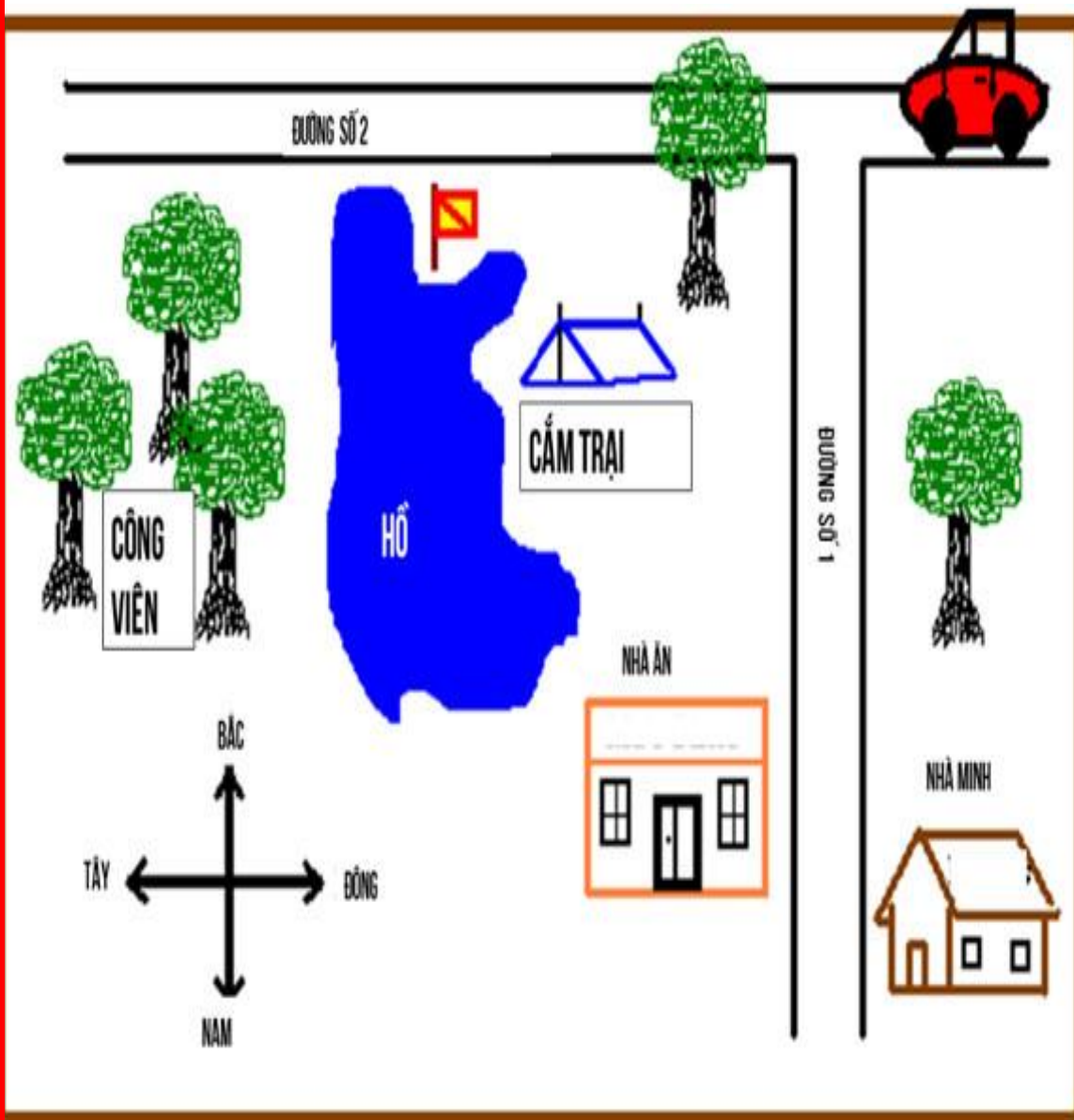
- Chợ Bến Thành nằm ở phía nào



TỈ LỆ 1: 10 000

Hình 3.5. Lược đồ khu vực trung tâm Thành phố Hồ Chí Minh.

LUYỆN TẬP



1. Đường nào chạy theo hướng đông - tây ?

2. Công viên nằm ở phía nào của hồ?

3. Cắm trại ở phía nào của hồ?

4. Nhà của ai ở phía đông của đường số 1.

5. Phía nào của hồ có một lá cờ trên

Câu 1: Trên bản đồ có hướng chính nào?

A. Đông, Tây, Nam, Bắc

B. Đông Bắc, Tây Bắc. Đông Nam, Tây Nam

Câu 2: Trên bản đồ có những hướng phụ nào?

A. Đông, Tây, Nam, Bắc

B. Đông Bắc, Tây Bắc. Đông Nam, Tây Nam

Câu 3: Người ta quy ước hướng trên của đường kinh tuyến chỉ hướng gì?

A. Bắc

B. Nam

C. Đông

D. Tây

Câu 4: Người ta quy ước hướng dưới của đường kinh tuyến chỉ hướng gì?

A. Bắc

B. Nam

C. Đông

D. Tây

Câu 5: Người ta quy ước hướng phải của đường vĩ tuyến chỉ hướng gì?

- A. Bắc
- B. Nam
- C. Đông
- D. Tây

Câu 6: Người ta quy ước hướng phải của đường vĩ tuyến chỉ hướng gì?

- A. Bắc
- B. Nam
- C. Đông
- D. Tây

Câu 7: Nằm giữa hướng Bắc và Đông dọc là hướng gì?

- A. Đông Bắc
- B. Đông Nam

Câu 8: Nằm giữa hướng Nam và Đông dọc là hướng gì?

- A. Đông Bắc
- B. Đông Nam

Câu 9: Nằm giữa hướng Bắc và Tây dọc là hướng gì?

- A. Tây Bắc
- B. Tây Nam

Câu 10: Nằm giữa hướng Nam và Tây dọc là hướng gì?

- A. Tây Bắc
- B. Tây Nam