

CHỦ ĐỀ: BẢN ĐỒ - PHƯƠNG TIỆN THỂ HIỆN BỀ MẶT TRÁI ĐẤT

I. Hệ thống kinh, vĩ tuyến và tọa độ địa lí

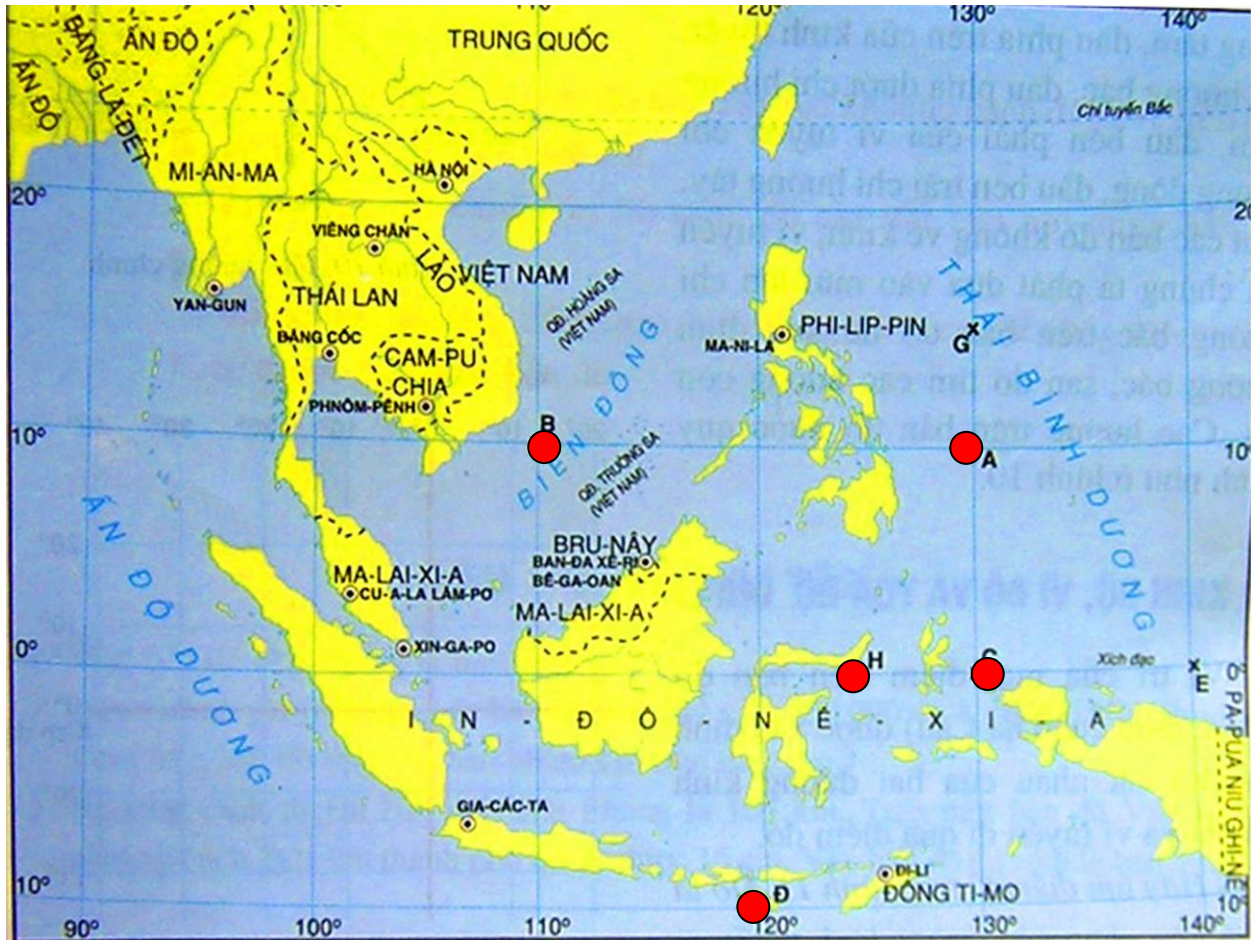
1/ Hệ thống kinh, vĩ tuyến.

Quan sát hình 1.2, hãy xác định tọa độ địa lí của các điểm A, B, C, D.

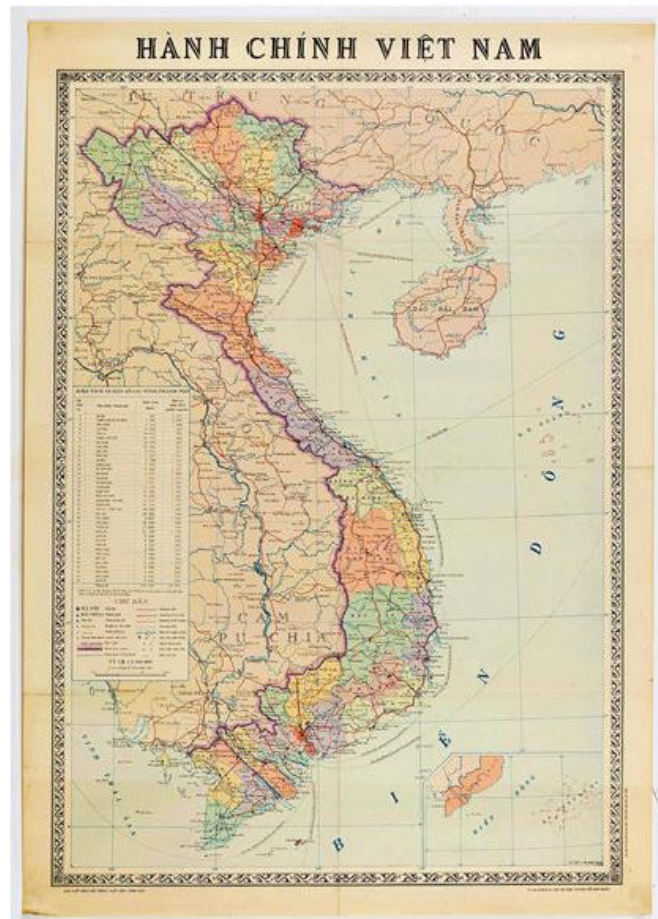


Hình 1.2. Vị trí của các điểm A, B, C, D trên quả Địa Cầu

Quan sát lược đồ khu vực Đông Nam Á. Viết tọa độ địa lí điểm A, B, C, D, H



Quan sát bản đồ hành chính Việt Nam qua các thời kì và so sánh sự thay đổi số lượng cấp tỉnh.





Bản đồ VN qua các thời kì

III. Tìm đường đi trên bản đồ.

1/ Xác định hướng đi từ điểm 0 đến các điểm A, B, C, D ?



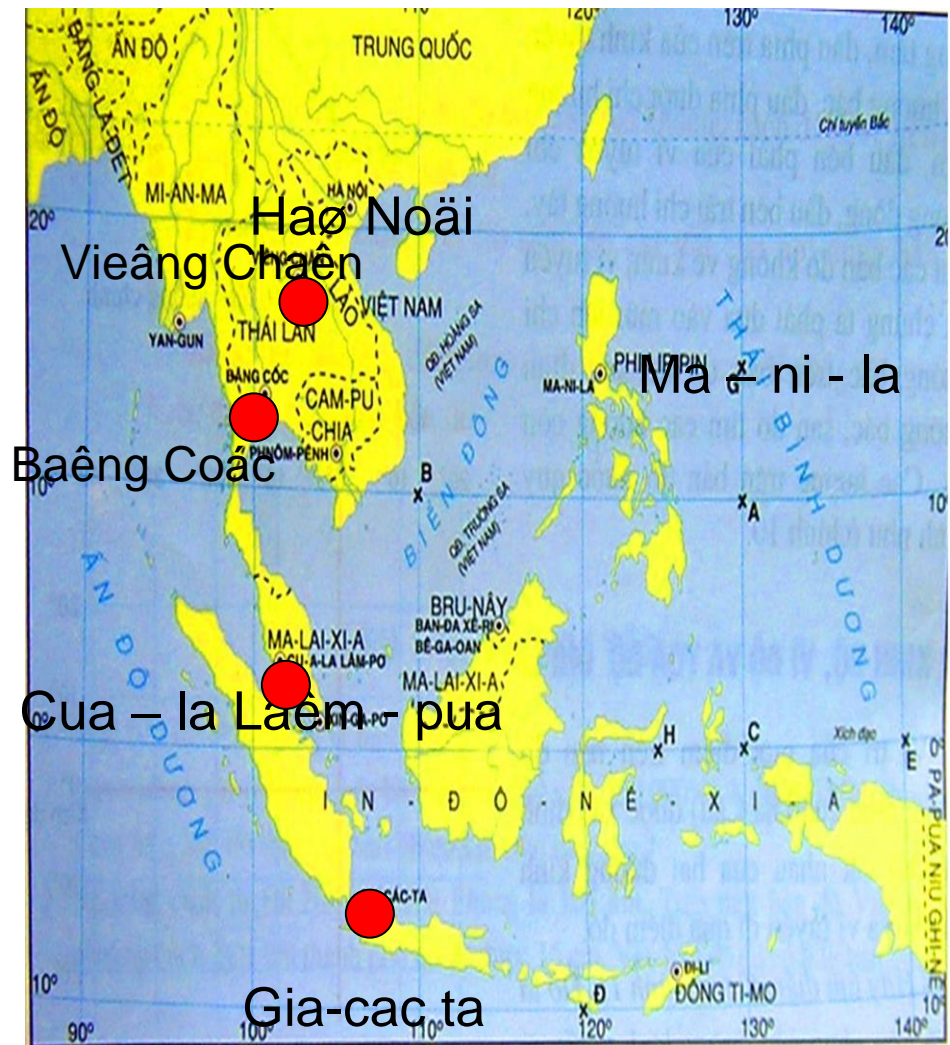
Gợi ý: HS dựa vào các kí hiệu :

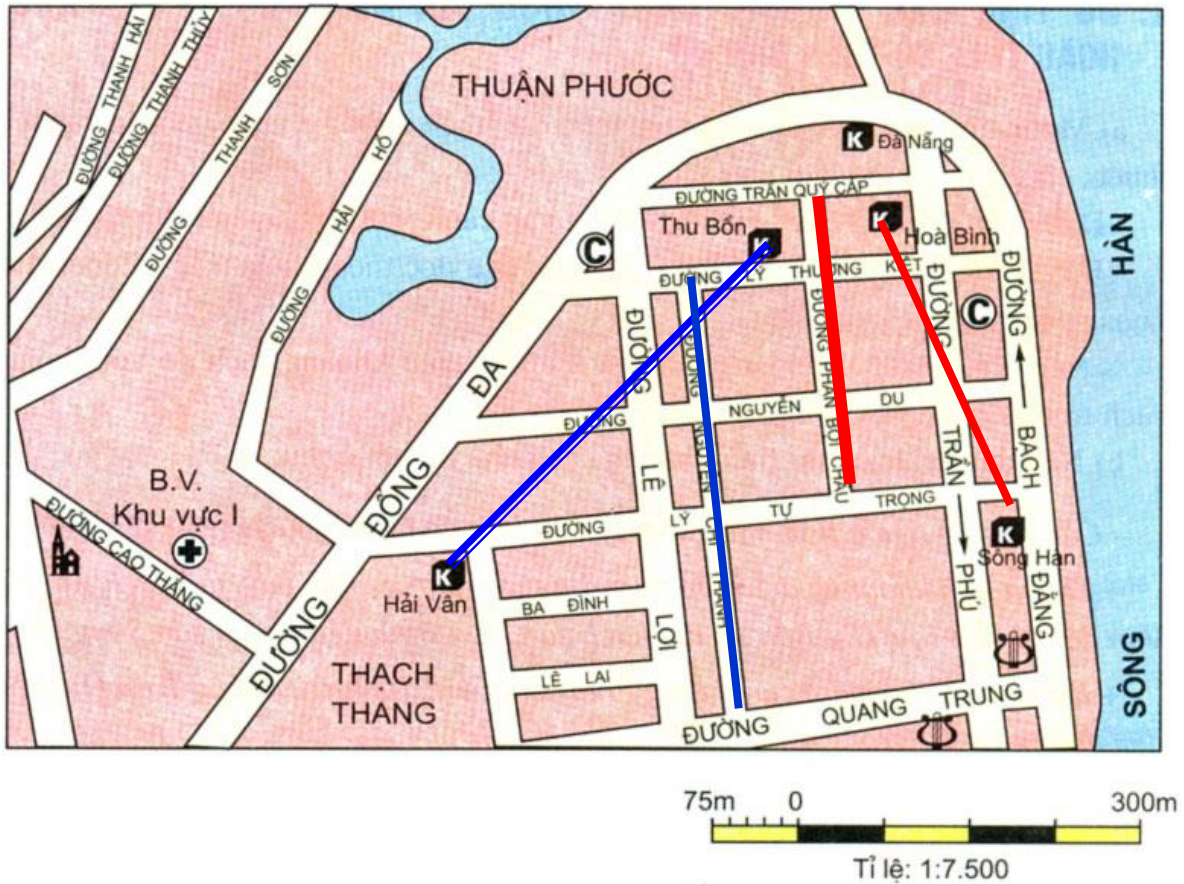
vĩ độ (), Kinh độ ()

Bắc băng dương...

2/ Cho biết hướng của các chuyến bay sau:

1. Hà Nội đến Viêng Chăn:
2. Hà Nội đến Gia-các-ta :
3. Hà Nội đến Ma - ni - la:
4. Cua - la Lăm - pua đến Băng Cốc :
5. Cua - la Lăm - pua đến Ma - ni - la :
6. Ma - ni - la đến Băng Cốc





Hình 8- Bản đồ một khu vực của thành phố Đà Nẵng

3/ Quan sát lược đồ em hãy:

- Tính khoảng cách thực tế từ khách sạn Hải Vân đến khách sạn Thu Bồn?
- Tính khoảng cách thực tế từ khách sạn Hoà Bình đến khách sạn Sông Hàn?

4/ Khoảng cách từ Hà Nội đến TP. HCM là 105 Km. Trên bản đồ Việt Nam, khoảng cách đo được giữa 2 thành phố là 15cm. Vậy bản đồ đó có tỉ lệ bao nhiêu? (Em hãy đặt phép tính)