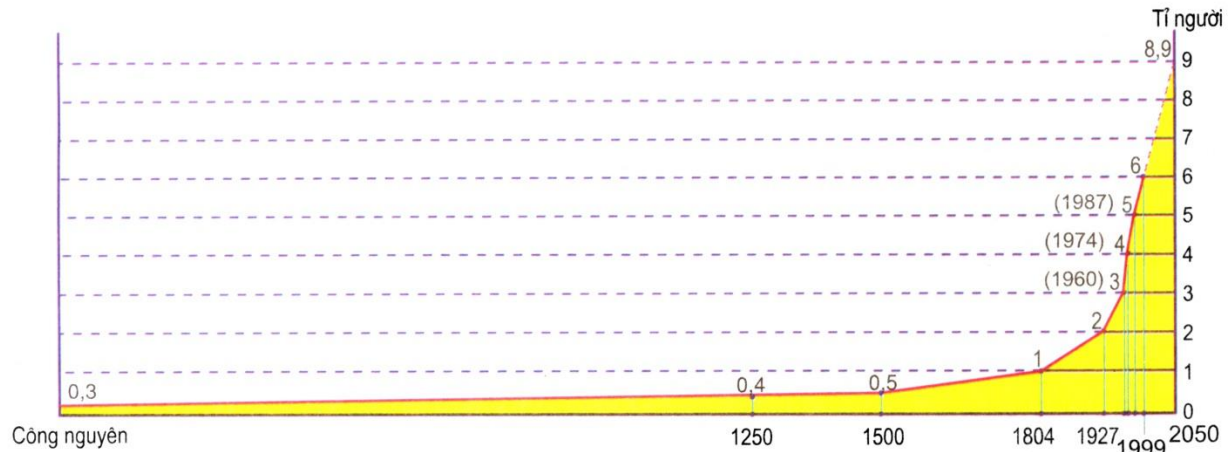


## BÀI TẬP ĐỊA LÍ 7

### CHỦ ĐỀ 1: THÀNH PHẦN NHÂN VĂN CỦA MÔI TRƯỜNG.

#### Bài 1: DÂN SỐ .

**Câu hỏi:** Quan sát hình 1.2 , nhận xét tình hình gia tăng dân số thế giới từ đầu thế kỉ XIX đến cuối thế kỉ XX ?

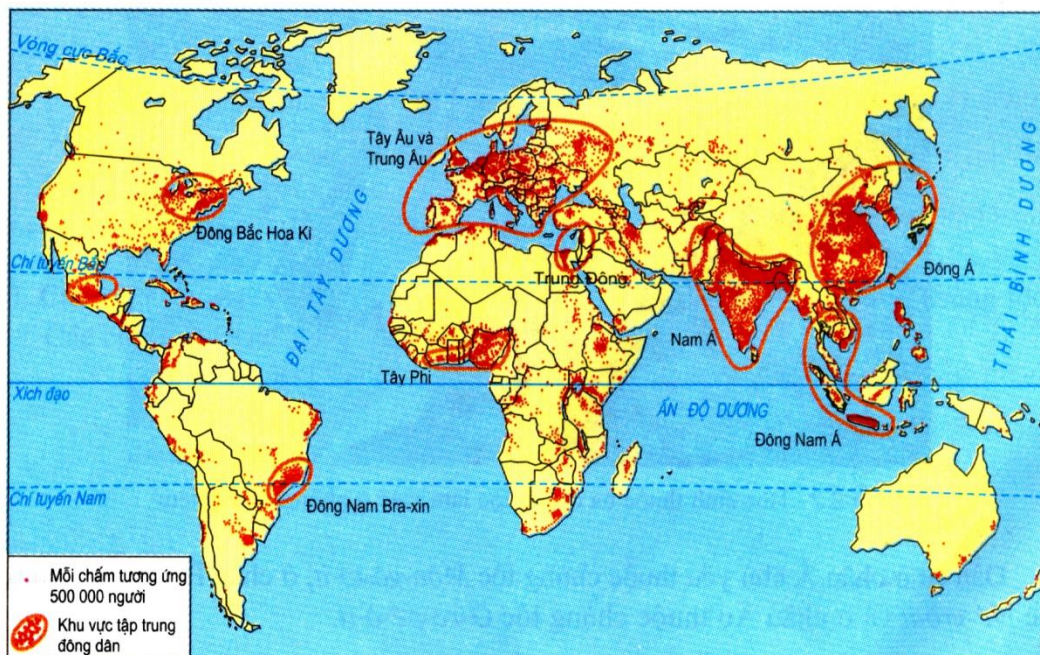


Hình 1.2 - Biểu đồ dân số thế giới từ đầu Công nguyên và dự báo đến năm 2050

#### BÀI 2: SỰ PHÂN BỐ DÂN CƯ .CÁC CHỨNG TỘC TRÊN THẾ GIỚI

**Câu hỏi 1:** Quan sát H2.1 lược đồ phân bố dân cư trên thế giới.Em hãy

- + Kể tên những khu vực đông dân, thưa dân.
- + Kể tên 3 khu vực đông dân nhất của châu Á.
- + Giải thích sự phân bố dân cư?



Hình 2.1 - Lược đồ phân bố dân cư trên thế giới

**Câu hỏi 2:** Tính Mật độ dân số dựa vào số liệu bảng sau.

**DIỆN TÍCH VÀ DÂN SỐ MỘT SỐ QUỐC GIA Ở NĂM 2018**

Nước	Diện tích(km <sup>2</sup> )	Dân số(triệu người)
Việt Nam	331 210	96,9
Nhật Bản	377 973	126,3

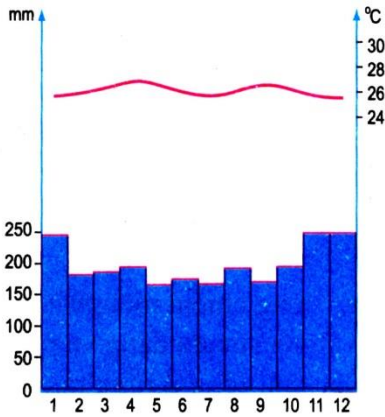
**BÀI 3: QUẦN CƯ.ĐÔ THỊ HÓA.**

**Câu hỏi:** Em hãy so sánh 2 loại hình quần cư nông thôn và đô thị về mật độ dân số, nhà cửa, lối sống, hoạt động kinh tế?

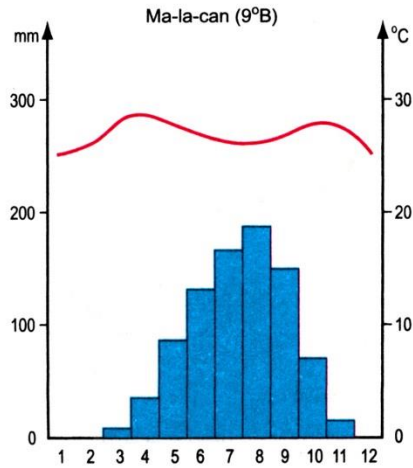
**Câu hỏi:** Nêu những tác động tích cực và tiêu cực của quá trình đô thị hóa đến cuộc sống của con người?

**CHỦ ĐỀ 2: MÔI TRƯỜNG ĐỐI NÓNG VÀ HOẠT ĐỘNG CỦA CON NGƯỜI Ở ĐỐI NÓNG.**

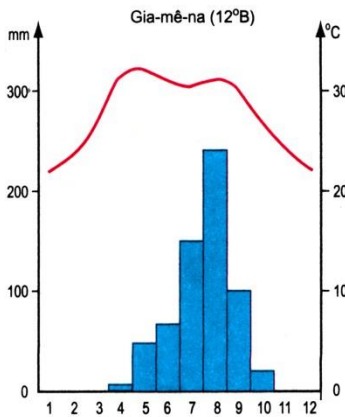
**Câu hỏi 1:** Phân tích biểu đồ nhiệt độ lượng mưa Hình 5.2, Hình 6.1, H 6.2



Hình 5.2 - Biểu đồ nhiệt độ và lượng mưa của Xin-ga-po



Hình 6.1 - Biểu đồ nhiệt độ và lượng mưa ở Ma-la-can (Xu-đăng)



Hình 6.2 - Biểu đồ nhiệt độ và lượng mưa ở Gia-mê-na (Sát)

**Câu hỏi 2:** Trình bày sự thay đổi của cảnh quan môi trường nhiệt đới từ xích đạo về 2 chí tuyến?

**Câu hỏi 3:** Tại sao đất ở vùng nhiệt đới lại có màu đỏ vàng?

**Câu hỏi 4:** Tại sao diện tích xavan và nửa hoang mạc ở vùng nhiệt đới đang ngày càng mở rộng?

**Câu hỏi 5:** Nêu sự khác biệt của khí hậu giữa 2 mùa gió của khí hậu nhiệt đới gió mùa?

**Câu hỏi 6:** Vì sao Hà Nội và Mum –Bai nằm gần vĩ độ, nhưng mùa đông Hà Nội rất lạnh, còn Mum Bai thì ấm áp?

**Câu hỏi 7:** Nêu 1 vài dẫn chứng để thấy rõ sự khai thác rừng quá mức sẽ có tác động xấu đến môi trường?

### **CHỦ ĐỀ 3: MÔI TRƯỜNG ĐỚI ÔN HÒA.**

**Câu hỏi:** Nêu vai trò của dòng biển nóng và gió Tây ôn đới đối với khí hậu ở đới ôn hòa?

**Câu hỏi:** Tại sao sự tập trung với mật độ cao các đô thị ở ven biển đới ôn hòa lại dẫn tới ô nhiễm nước biển ven bờ?