

Khối 6 - Âm nhạc - Bài Ôn tập thi HKI - Bài KTTX số 2

Bài kiểm tra có ghi nhận kết quả.

***Bắt buộc**

1. Số thứ tự của em trong danh sách lớp? *

2. Họ và tên học sinh *

3. Học sinh lớp? *

Chỉ đánh dấu một hình ôvan.

6/1

6/2

6/3

6/4

6/5

6/6

6/7

Phần trắc nghiệm

Học sinh trả lời đủ 20 câu.

4. 1. Bài hát Mùa khai trường do nhạc sĩ nào sáng tác? *

1 điểm

Chỉ đánh dấu một hình ôvan.

- NS. Lê Minh Châu
- NS. Bùi Anh Tôn
- NS. Phạm Tuyên
- NS. Phan Việt Phương

5. 2. Bài hát Mùa khai trường mang tính chất gì? *

1 điểm

Chỉ đánh dấu một hình ôvan.

- Vui tươi, hồn nhiên.
- Chậm rãi, nhẹ nhàng.
- Nhanh, khỏe.
- Nhịp đi

6. 3. Bài đọc nhạc số 1 gồm những nốt có cao độ nào? *

1 điểm

Bài đọc nhạc số 1

Moderato (vừa phải)




Chỉ đánh dấu một hình ôvan.

- Đô, rê, mi, son, la.
- Đô, rê, mi, pha, son, la.
- Đô, rê, son, la.
- Đô, rê, pha, son, la

7. 4. Hình ảnh khung nhạc gồm các nốt nhạc sau được gọi là gì? *

1 điểm



Chỉ đánh dấu một hình ôvan.

- Gam.
- 8 nốt nhạc.
- Khung nhạc
- Gam Đô trưởng.

8. 5. Âm thanh có tính nhạc có mấy thuộc tính cơ bản? *

1 điểm

Chỉ đánh dấu một hình ôvan.

5

4

3

2

9. 6. Các thuộc tính đó là gì? *

1 điểm

Chỉ đánh dấu một hình ôvan.

Cao độ, trường độ, cường độ, âm sắc.

Cao độ, trường độ.

Cao độ, âm sắc, cường độ, màu sắc.

Cao độ

10. 7. Nhạc sĩ Lưu Hữu Phước có các tác phẩm nào cho thiếu nhi? *

1 điểm

Chỉ đánh dấu một hình ôvan.

Múa vui.

Reo vang bình minh.

Thiếu nhi thế giới liên hoan.

Cả 3 câu trên đều đúng.

11. 8. Bài hát Lên đàng được sáng tác năm nào? *

1 điểm

Chỉ đánh dấu một hình ôvan.

- 1954.
- 1944
- 1934
- Cả 3 câu trên đều sai.

12. 9. Nội dung bài hát Tiếng chuông và ngọn cờ nói lên điều gì? *

1 điểm

Chỉ đánh dấu một hình ôvan.

- Nói lên ước vọng của tuổi thơ mong muốn cuộc sống hòa bình, hữu nghị, đoàn kết giữa các dân tộc trên thế giới.
- Thể hiện niềm hân hoan của các em học sinh khi bước vào năm học mới.
- Thể hiện tình cảm yêu mến, lòng biết ơn của học sinh đối với Thầy cô giáo.
- Nói lên niềm vui khi đi cắt lúa, sự phấn khởi mừng vui mùa màng bội thu.

13. 10. Bài đọc nhạc số 2 gồm những nốt có cao độ nào? *

1 điểm

ĐỌC NHẠC

Bài đọc nhạc số 2

Moderato (vừa phải)



Chỉ đánh dấu một hình ôvan.

- Đô, rê, mi, son, la.
- Đô, rê, mi, pha, son, la, si.
- Đô, rê, son, la.
- Đô, rê, pha, son, la

14. 11. Ngoài các kí hiệu âm bằng nốt nhạc ghi trên khuông, ta còn có kí hiệu nào để chỉ tên 7 nốt nhạc? *

1 điểm

Chỉ đánh dấu một hình ôvan.

- Kí hiệu bằng hệ thống chữ cái Latin.
- Kí hiệu bằng chữ Hy Lạp.
- Kí hiệu bằng số từ 1 đến 7.

15. 12. Nhạc sĩ Văn Cao có các tác phẩm tiêu biểu nào? *

1 điểm

Chỉ đánh dấu một hình ôvan.

- Làng tôi
- Tiến về Hà Nội
- Suối mơ
- Cả 3 câu trên đều đúng

16. 13. Bài hát Quốc ca còn có tên là gì?

1 điểm

Chỉ đánh dấu một hình ôvan.

- Tiến quân ca.
- Lên đàng.
- Tiến về Hà Nội.
- Chiến sĩ Việt Nam.

17. 14. Bài hát Niềm tin thấp sáng trong tim em do nhạc sĩ nào sáng tác? *

1 điểm

Chỉ đánh dấu một hình ôvan.

- NS. Bùi Anh Tôn
- NS. Phạm Tuyên
- NS. Lưu Hữu Phước
- NS. Văn Cao

18. 15. Nhịp 4/4 là nhịp gì? *

1 điểm

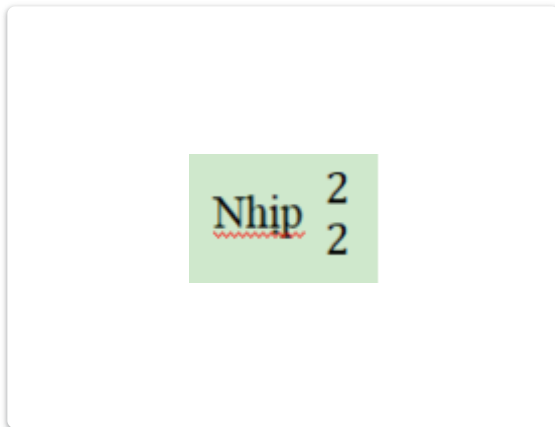
Chỉ đánh dấu một hình ôvan.

- Là nhịp có 4 phách.
- Mỗi phách có giá trị bằng một nốt đen.
- Còn có kí hiệu là C
- Cả 3 ý trên đều đúng.

19. 16. Bài đọc nhạc số 3 được viết ở nhịp gì? *

1 điểm

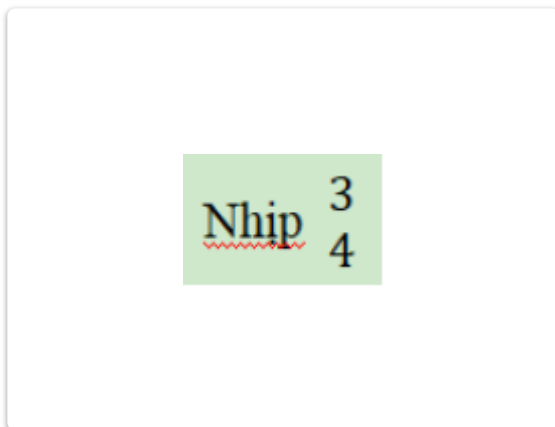
Chỉ đánh dấu một hình ôvan.



a.



b.



c.



d.

20. 17. Nhạc sĩ Antonio Vivaldi là nhà soạn nhạc người nước nào? *

1 điểm

Chỉ đánh dấu một hình ôvan.

- Nước Pháp
- Nước Ý
- Nước Đức
- Nước Áo

21. 18. Bài hát Đi cắt lúa là dân ca của dân tộc nào? *

1 điểm

Chỉ đánh dấu một hình ôvan.

- Dân ca Thái
- Dân ca Nùng
- Dân ca Hrê
- Dân ca Tày

22. 19. Cung và nửa cung là gì? *

1 điểm

Chỉ đánh dấu một hình ôvan.

- Là đơn vị thường dùng để xác định khoảng cách giữa hai cao độ trong âm nhạc.
- Là đơn vị thường dùng để xác định khoảng cách giữa hai âm sắc trong âm nhạc.
- Là đơn vị thường dùng để xác định khoảng cách giữa hai trường độ trong âm nhạc.
- Là đơn vị thường dùng để xác định khoảng cách giữa hai cường độ trong âm nhạc.

23. 20. Nhạc cụ nào sau đây là nhạc cụ truyền thống của Việt Nam? *

1 điểm

Chỉ đánh dấu một hình ôvan.

- Đàn bầu, đàn nhị
- Đàn piano, đàn nguyệt
- Đàn đá, sáo
- Cả 3 ý trên đều sai

Phần tự
luận

Học sinh chỉ trả lời 4 trong 8 câu sau. Cần luyện tập trả lời các câu tự luận nhiều lần để ôn tập.

24. 1. Em hãy ghi lại đoạn đầu lời bài hát Mùa khai trường?

25. 2. Em hãy cho biết cụ thể các thuộc tính của âm thanh có tính nhạc?

26. 3. Em hãy ghi lại đoạn 2 lời bài hát Tiếng chuông và ngọn cờ?

27. 4. Em hãy ghi cụ thể kí hiệu 7 nốt nhạc bằng kí hiệu hệ thống chữ cái Latin?

28. 5. Em hãy ghi lại đoạn 2 lời bài hát Niềm tin thấp sáng trong tim em?

29. 6. Em hãy nêu định nghĩa nhịp 4/4?

30. 7. Em hãy ghi lại lời bài hát Đi cắt lúa?

31. 8. Em hãy nêu khoảng cách cung và nửa cung giữa các bậc âm cơ bản? Ví dụ Đô-Rê: 1 cung . . .

Nội dung này không phải do Google tạo ra hay xác nhận.

Google Biểu mẫu