

**Những hình ảnh sau đây gợi cho em nhớ về quốc gia nào? Trình bày những hiểu biết của em về quốc gia này?**



# LƯỢC ĐỒ CHÂU MỸ



- Gồm 3 bộ phận lãnh thổ:
- + Lục địa Bắc Mỹ
- + Tiểu bang Alaska
- + Quần đảo Hawaii.

Diện tích: 9.155.898 km<sup>2</sup>

Dân số: 327.361.568 (02/10/2018)

-1776 Tuyên ngôn độc lập được công bố .1783 Hợp chủng quốc Mĩ thành lập.

- Mĩ là nước cộng hòa liên bang.

CANADA

HOA KÌ

★ Oasinhton

Thái Bình Dương

Đại Tây Dương

MÊHICÔ



TIẾT 27-BÀI 18

NUỚC MĨ GIỮA HAI CUỘC  
CHIẾN TRANH THẾ GIỚI  
(1918-1939)

---



# TIẾT 27-BÀI 18 : NƯỚC MỸ GIỮA HAI CUỘC CHIẾN TRANH THẾ GIỚI (1918-1939)

I/NƯỚC MỸ TRONG THẬP NIÊN 20 CỦA THẾ KỈ XX

II/ NƯỚC MỸ TRONG NHỮNG NĂM 1929-1939

# TIẾT 27-BÀI 18 : NƯỚC MỸ GIỮA HAI CUỘC CHIẾN TRANH THẾ GIỚI (1918-1939)

## I/NƯỚC MỸ TRONG THẬP NIÊN 20 CỦA THẾ KỈ XX

### 1. Tình hình kinh tế

**Đọc thông tin sách giáo khoa, đoạn thông tin, quan sát hình ảnh ,  
hãy :**

- 1. Theo em, hai bức ảnh trên phản ánh điều gì?**
- 2. Trình bày tình hình kinh tế Mĩ trong thập niên 20 của thế kỉ XX**



Hình 65. Bãi đỗ ô tô ở Niu Oóc năm 1928



Hình 66.  
Công nhân xây dựng  
cao ốc ở Mĩ

Trong những năm 1923-1929, sản lượng công nghiệp của Mĩ tăng 69% ; năm 1928, vượt quá sản lượng của toàn châu Âu và chiếm 48% tổng sản lượng công nghiệp thế giới. Mĩ đứng đầu thế giới về các ngành công nghiệp sản xuất ô tô, dầu lửa, thép... Về tài chính, Mĩ nắm 60 % dự trữ vàng của thế giới

# TIẾT 27-BÀI 18 : NƯỚC MỸ GIỮA HAI CUỘC CHIẾN TRANH THẾ GIỚI (1918-1939)

## I/NƯỚC MỸ TRONG THẬP NIÊN 20 CỦA THẾ KỈ XX

### 1. Tình hình kinh tế

Phát triển phồn vinh, trở thành trung tâm kinh tế, tài chính số một của thế giới.

**Thảo luận nhóm ( 3 phút )**  
**Những nguyên nhân nào làm cho nền  
kinh tế Mỹ phát triển nhanh chóng?**

- Nguyên nhân khách quan**
- Nguyên nhân chủ quan**

# TIẾT 27-BÀI 18 : NƯỚC MỸ GIỮA HAI CUỘC CHIẾN TRANH THẾ GIỚI (1918-1939)

## I/NƯỚC MỸ TRONG THẬP NIÊN 20 CỦA THẾ KỈ XX

### 1. Tình hình kinh tế

Phát triển phồn vinh, trở thành trung tâm kinh tế, tài chính số một của thế giới.

#### \*Nguyên nhân phát triển :

+ Chú trọng cải tiến kĩ thuật, thực hiện phương pháp sản xuất dây chuyền.

+ Tăng cường độ lao động và bóc lột công nhân.

# TIẾT 27-BÀI 18 : NƯỚC MỸ GIỮA HAI CUỘC CHIẾN TRANH THẾ GIỚI (1918-1939)

## I/NƯỚC MỸ TRONG THẬP NIÊN 20 CỦA THẾ KỈ XX

### 1. Tình hình kinh tế

### 2. Tình hình xã hội

## HOẠT ĐỘNG CẶP ĐÔI ( 1 PHÚT )

Đọc thông tin sách giáo khoa, quan sát hình ảnh,  
hãy :

1. Em có nhận xét gì về những hình ảnh khác nhau của nước Mỹ qua H65, H66, H67?
2. Trình bày tình hình xã hội Mỹ trong thập niên 20 của thế kỉ XX?
3. Đảng Cộng Sản Mỹ ra đời trong hoàn cảnh nào?



H67. Nhà ở của người lao  
động Mỹ



H65



H66




Một người Mỹ gốc Phi uống nước từ máy lạnh với bảng thông báo "**dành cho người da màu**" tại một bến tàu điện ở Mỹ .

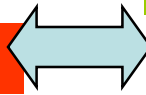
## HOẠT ĐỘNG CẶP ĐÔI ( 1 PHÚT )

Đọc thông tin sách giáo khoa, quan sát hình ảnh,  
hãy :

1. Em có nhận xét gì về những hình ảnh khác nhau của nước Mỹ qua H65, H66, H67?
2. Trình bày tình hình xã hội Mỹ trong thập niên 20 của thế kỉ XX?
3. Đảng Cộng Sản Mỹ ra đời trong hoàn cảnh nào?



**Nghèo đói**




**Giàu có**



**H65**

**H67. Nhà ở của người lao động Mỹ**



**H66**

# TIẾT 27-BÀI 18 : NƯỚC MỸ GIỮA HAI CUỘC CHIẾN TRANH THẾ GIỚI (1918-1939)

## I/NƯỚC MỸ TRONG THẬP NIÊN 20 CỦA THẾ KỈ XX

### 1. Tình hình kinh tế

### 2. Tình hình xã hội

- Nhân dân bị bóc lột, thất nghiệp ; tồn tại nhiều bất công, nạn phân biệt chủng tộc.
- Phong trào công nhân phát triển.
- Tháng 5-1921, Đảng Cộng sản Mỹ thành lập.

# **TIẾT 27-BÀI 18 : NƯỚC MỸ GIỮA HAI CUỘC CHIẾN** **TRANH THẾ GIỚI (1918-1939)**

## **I/NƯỚC MỸ TRONG THẬP NIÊN 20 CỦA THẾ KỈ XX**

### **II/ NƯỚC MỸ TRONG NHỮNG NĂM 1929-1939**

**Dựa vào thông tin SGK kết hợp quan sát đoạn videoclip, hình ảnh hãy cho biết:**


- 1. Tình hình nước Mỹ trong giai đoạn 1929-1933 ?**
- 2. Theo em, gánh nặng của cuộc khủng hoảng ở Mỹ chủ yếu đè lên vai của tầng lớp nào?**
- 3. Để đưa đất nước ra khỏi cuộc khủng hoảng, chính phủ Mỹ đã làm gì ?**

**Mời các em xem một đoạn clip về tình hình nước Mỹ năm 1929-1933 .**





Ru-dơ-ven



**Chính sách mới** bao gồm những biện pháp nhằm giải quyết nạn thất nghiệp, khôi phục sự phát triển của các ngành kinh tế-tài chính. Chính phủ Ru-dơ-ven đã ban hành các đạo luật phục hưng công nghiệp, nông nghiệp và ngân hàng với những quy định chặt chẽ, dưới sự kiểm soát của Nhà nước. Nhà nước tư sản đã tăng cường vai trò của mình trong việc cải tổ hệ thống ngân hàng, tổ chức lại sản xuất, cứu trợ người thất nghiệp, tạo thêm việc làm mới và ổn định tình hình xã hội.


# TIẾT 27-BÀI 18 : NƯỚC MỸ GIỮA HAI CUỘC CHIẾN TRANH THẾ GIỚI (1918-1939)

## I/NƯỚC MỸ TRONG THẬP NIÊN 20 CỦA THẾ KỈ XX

### II/ NƯỚC MỸ TRONG NHỮNG NĂM 1929-1939

- Cuối tháng 10/1929, nước Mỹ lâm vào khủng hoảng kinh tế chưa từng thấy. Nền kinh tế- tài chính bị chấn động dữ dội
- Cuối năm 1932, Tổng thống Ru-dơ-ven đã thực hiện Chính sách mới.

Ru-dơ-ven (1882 – 1945), là tổng thống thứ 32 của Hoa Kỳ, là người duy nhất trúng cử 4 nhiệm kỳ liên tiếp. Ông sinh ở Niu Oóc trong một gia đình khá giả. Là một trong những người sáng lập Liên hợp quốc, đề xướng sự hợp tác chặt chẽ giữa các nước Đồng minh chống phát xít trong chiến tranh thế giới thứ II. Là tổng thống được nhận giải Nô-ben về hòa bình. Ông mất sau vài tháng tái trúng cử ở nhiệm kỳ thứ tư.



Ru-dơ-ven

- **Trao đổi cặp đôi ( 1 phút)**

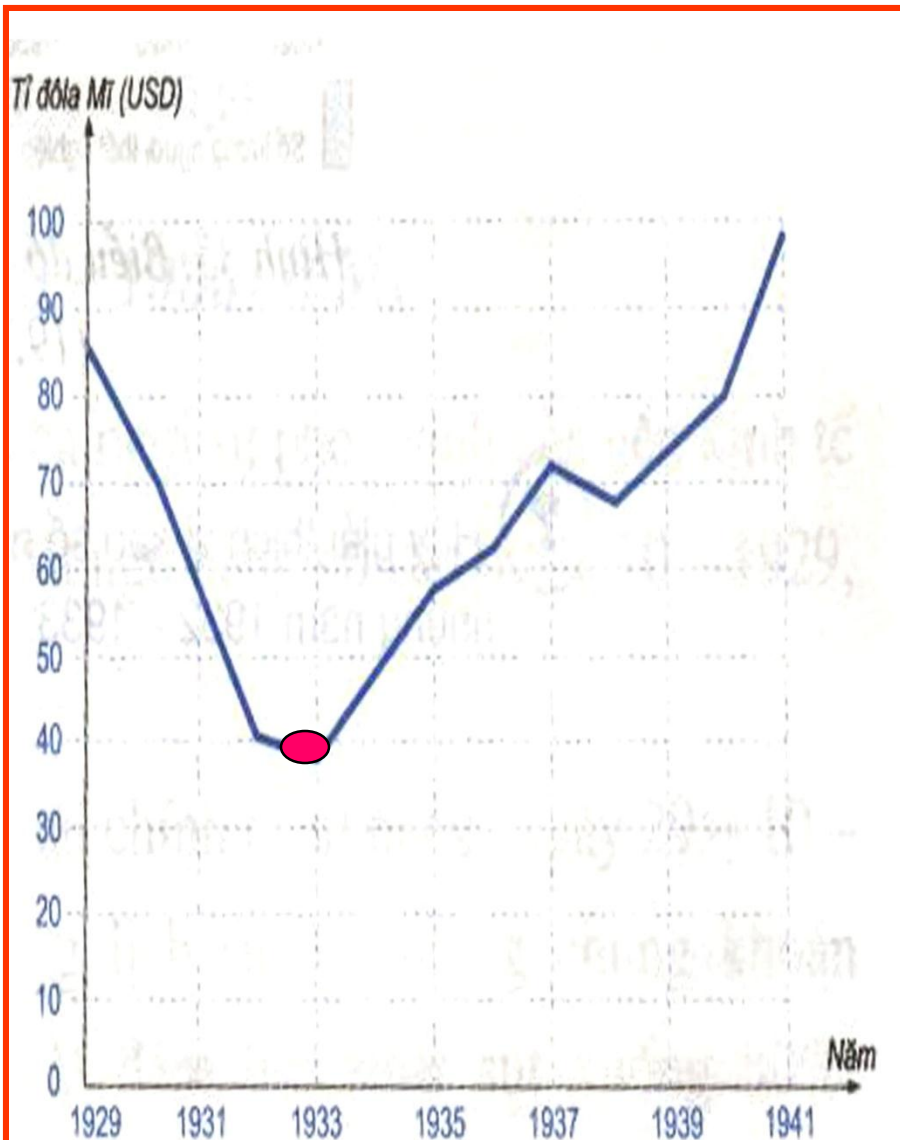
Quan sát hình ảnh và biểu đồ sau, hãy:

1. Nêu nhận xét của em về Chính sách mới qua hình 69
2. Tác dụng của Chính sách mới đối với nước nước Mỹ.

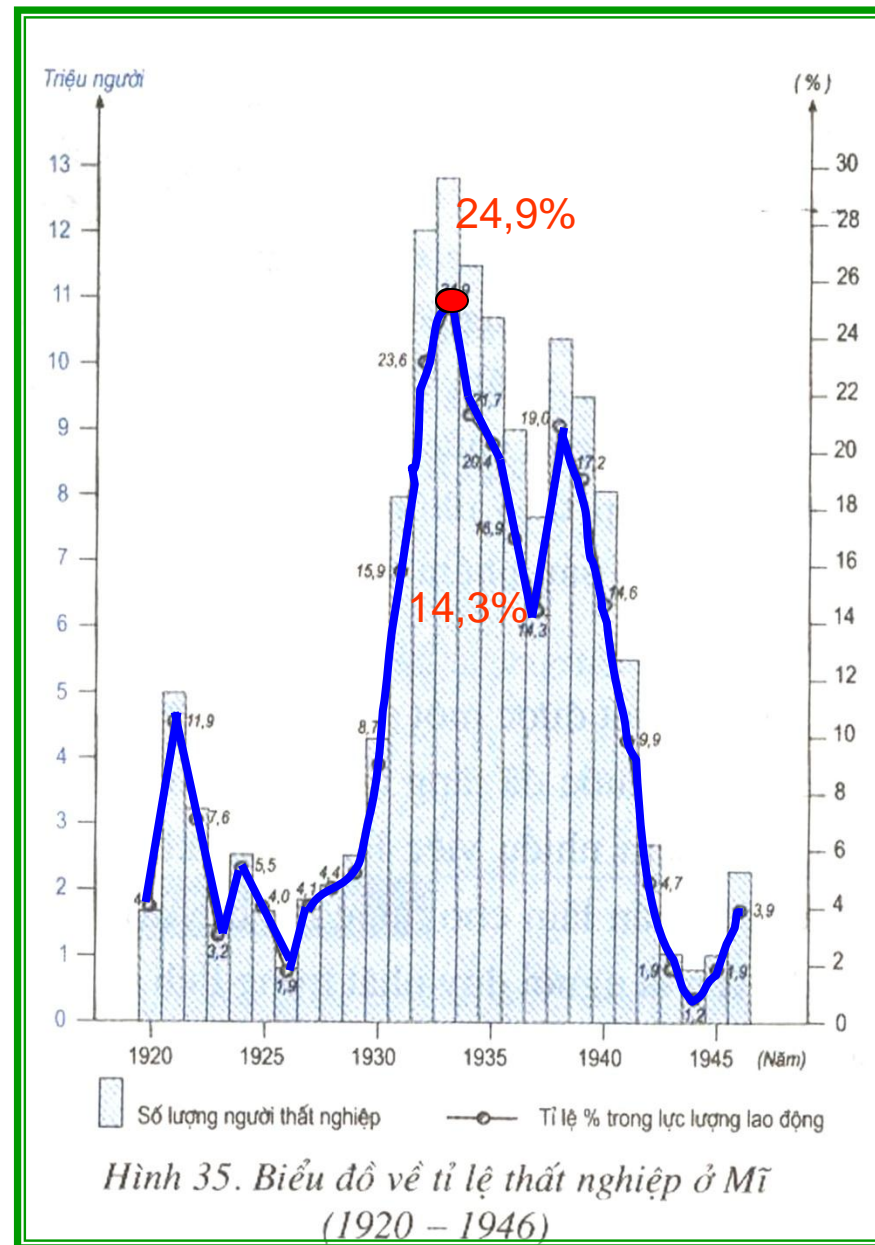
**Chính sách mới** bao gồm những biện pháp nhằm giải quyết nạn thất nghiệp, khôi phục sự phát triển của các ngành kinh tế-tài chính. Chính phủ Ru-đơ-ven đã ban hành các đạo luật phục hưng công nghiệp, nông nghiệp và ngân hàng với những quy định chặt chẽ, dưới sự kiểm soát của Nhà nước. Nhà nước tư sản đã tăng cường vai trò của mình trong việc cải tổ hệ thống ngân hàng, tổ chức lại sản xuất, cứu trợ người thất nghiệp, tạo thêm việc làm mới và ổn định tình hình xã hội.



**H69. Bức tranh đương thời mô tả Chính sách mới (Người khổng lồ tượng trưng cho Nhà nước)**



**Biểu đồ : Sự phát triển kinh tế Mĩ sau năm 1933**

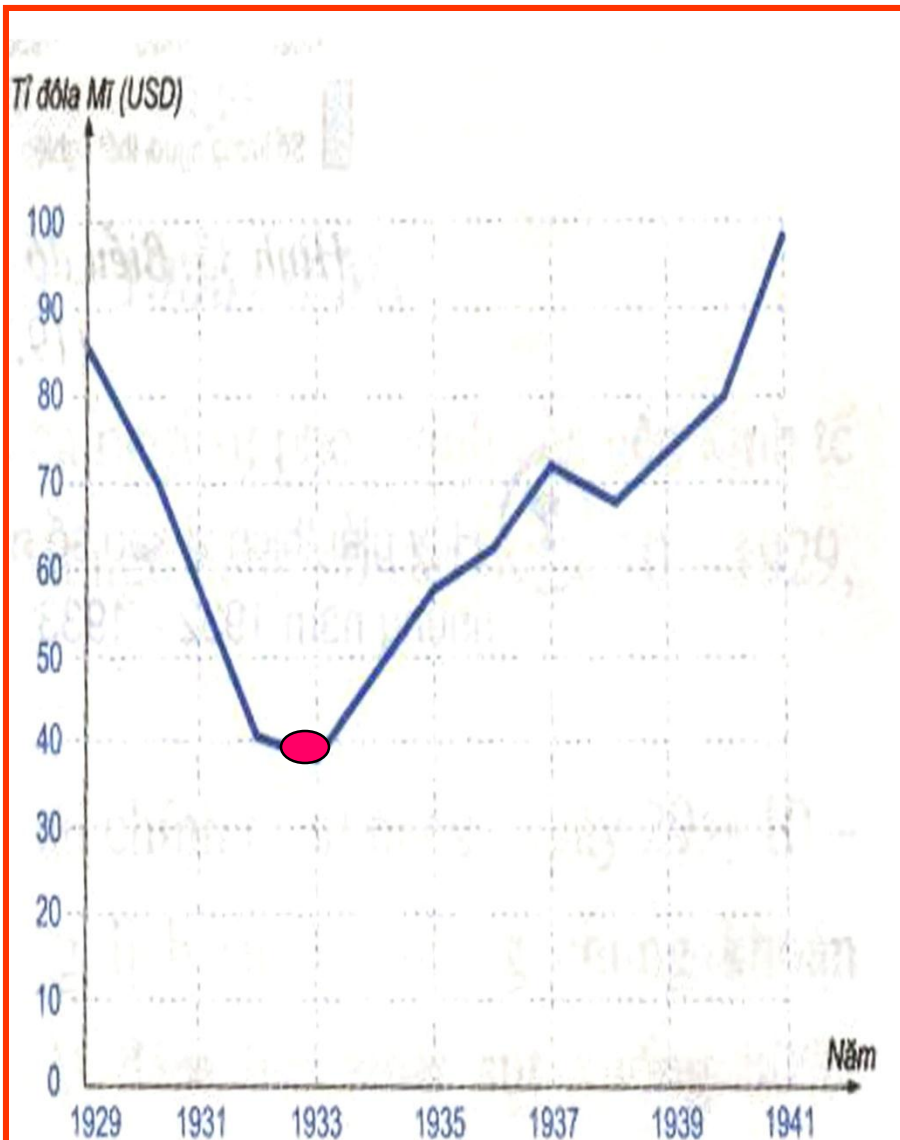


*Hình 35. Biểu đồ về tỉ lệ thất nghiệp ở Mĩ (1920 - 1946)*

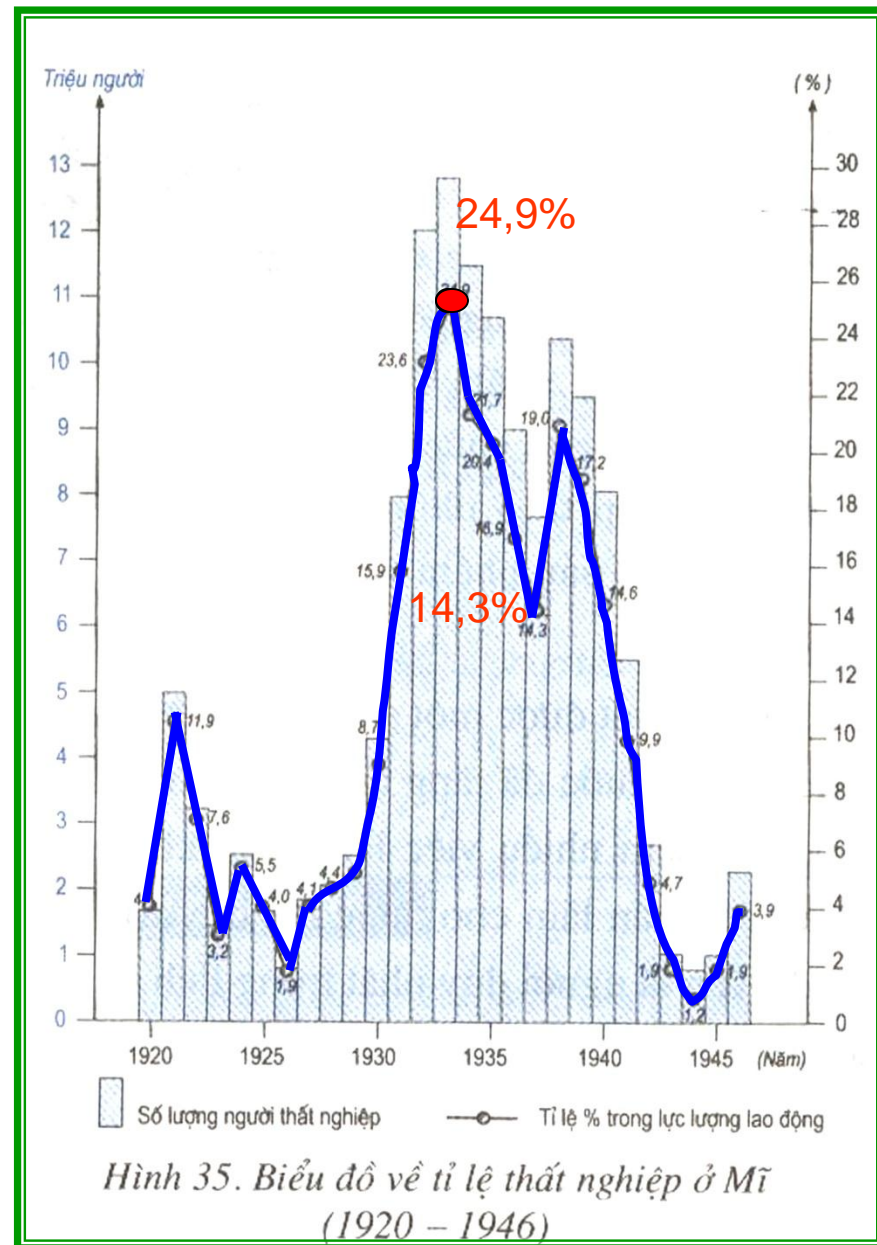
**Chính sách mới** bao gồm những biện pháp nhằm giải quyết nạn thất nghiệp, khôi phục sự phát triển của các ngành kinh tế-tài chính. Chính phủ Ru-đơ-ven đã ban hành các đạo luật phục hưng công nghiệp, nông nghiệp và ngân hàng với những quy định chặt chẽ, dưới sự kiểm soát của Nhà nước. Nhà nước tư sản đã tăng cường vai trò của mình trong việc cải tổ hệ thống ngân hàng, tổ chức lại sản xuất, cứu trợ người thất nghiệp, tạo thêm việc làm mới và ôn định tình hình xã hội.



H69. Bức tranh đương thời mô tả Chính sách mới (Người khổng lồ tượng trưng cho Nhà nước)



**Biểu đồ : Sự phát triển kinh tế Mĩ sau năm 1933**



*Hình 35. Biểu đồ về tỉ lệ thất nghiệp ở Mĩ (1920 - 1946)*

# TIẾT 27-BÀI 18 : NƯỚC MỸ GIỮA HAI CUỘC CHIẾN TRANH THẾ GIỚI (1918-1939)

## I/NƯỚC MỸ TRONG THẬP NIÊN 20 CỦA THẾ KỈ XX

### II/ NƯỚC MỸ TRONG NHỮNG NĂM 1929-1939

- Cuối tháng 10/1929, nước Mỹ lâm vào khủng hoảng kinh tế chưa từng thấy. Nền kinh tế- tài chính bị chấn động dữ dội

- Cuối năm 1932, Tổng thống Ru-dơ-ven đã thực hiện Chính sách mới.

\* Nội dung : (SGK)

\* Tác dụng :

+ Đưa nước Mỹ thoát khỏi cuộc khủng hoảng

+ Duy trì nền dân chủ tư sản

# THẢO LUẬN NHÓM : (2 PHÚT)

Hãy so sánh cách thoát ra cuộc khủng hoảng kinh tế thế giới của Mỹ có gì giống và khác so với các quốc gia châu Âu như Anh, Pháp, Đức và I-ta-li-a ? Lí giải điều đó.

Mỹ	Anh - Pháp	Đức, I-ta-li-a
Bằng những chính sách cải cách kinh tế - xã hội (Thông qua “ <i>Chính sách mới</i> ” của Ru-dơ-ven)	Bằng những chính sách cải cách kinh tế - xã hội	Bằng cách phát xít hóa chế độ thống trị và phát động cuộc chiến tranh để phân chia lại thế giới

- Anh, Pháp, Mỹ có hệ thống thuộc địa, thị trường tiêu thụ, nguồn tài nguyên thiên nhiên phong phú, rộng lớn.  
→ Cách thoát ra cuộc khủng hoảng của Mỹ giống với Anh, Pháp và khác với nước Đức, I-ta-li-a

- Đức, I-ta-li-a thiếu tài nguyên thiên nhiên, ít thuộc địa. Đồng thời bản chất quân phiệt đã tồn tại ngay trong lòng chế độ chính trị của các nước này.

# TRÌNH BÀY ( 1 PHÚT)

Đánh giá của em về tổng thống Ru-dơ-ven.



Ru-dơ-ven

# TIẾT 27-BÀI 18 : NƯỚC MỸ GIỮA HAI CUỘC CHIẾN TRANH THẾ GIỚI (1918-1939)

## I/NƯỚC MỸ TRONG THẬP NIÊN 20 CỦA THẾ KỈ XX

### 1. Tình hình kinh tế

Phát triển phồn vinh, trở thành trung tâm kinh tế, tài chính số một của thế giới.

#### \*Nguyên nhân phát triển :

- + Chú trọng cải tiến kỹ thuật, thực hiện phương pháp sản xuất dây chuyền.
- + Tăng cường độ lao động và bóc lột công nhân.

### 2. Tình hình xã hội

- Phong trào công nhân phát triển.
- Tháng 5-1921, Đảng Cộng sản Mỹ thành lập.

## II/ NƯỚC MỸ TRONG NHỮNG NĂM 1929-1939

- Cuối tháng 10/1929, nước Mỹ lâm vào khủng hoảng kinh tế chưa từng thấy. Nền kinh tế- tài chính bị chấn động dữ dội
- Cuối năm 1932, Tổng thống Ru-dơ-ven đã thực hiện Chính sách mới.
  - \* Nội dung : (SGK)
  - \* Tác dụng :
    - + Đưa nước Mỹ thoát khỏi cuộc khủng hoảng
    - + Duy trì nền dân chủ tư sản

# LUYỆN TẬP



## Trong các ý sau, ý nào đúng, ý nào sai? Em hãy sửa lại các ý sai cho đúng.

<p>Trong thập niên 20 của thế kỉ XX, Mĩ là nước đứng thứ 2 TG về kinh tế.  <span style="color: blue;">trung tâm kinh tế, tài chính số một thế giới.</span></p>	Đ
<p>Cải tiến kĩ thuật, sản xuất dây chuyền, tăng cường độ lao động và bóc lột công nhân là nguyên nhân chính dẫn tới sự phát triển của kinh tế Mĩ.</p>	Đ
<p>Xã hội Mĩ tồn tại nhiều bất công, nạn phân biệt chủng tộc gây gắt.</p>	Đ
<p>Cuộc khủng hoảng kinh tế 1929-1933 <span style="color: blue;">đã tác động đến toàn bộ kinh tế, chính trị, xã hội</span></p>	Đ
<p>Chính sách mới của Ru-đơ-ven <span style="color: blue;">đã tăng cường vai trò của Nhà nước công nghiệp quản lí nền kinh tế.</span></p>	Đ
<p>Chính sách mới góp phần đưa nước Mĩ thoát khỏi cuộc khủng hoảng, duy trì nền dân chủ tư sản .</p>	Đ

- Câu 1 :Từ nội dung của Chính sách mới,theo em Việt Nam có thể học tập được gì trong công cuộc xây dựng và phát triển đất nước hiện nay?
- Câu 2: So sánh Chính sách mới của Ru-dơ-ven với chính sách Kinh tế mới của Lê-nin theo 3 nội dung : Biện pháp , kết quả, vai trò của nhà nước

- Câu 1 : Từ nội dung của Chính sách mới, theo em Việt Nam có thể học tập được gì trong công cuộc xây dựng và phát triển đất nước hiện nay?
- - Tăng cường vai trò điều tiết của Nhà nước , chú ý đến giải quyết việc làm
- - Nhà nước đưa ra các chính sách mũi nhọn để phát triển nền kinh tế
- - Tăng cường quan hệ hợp tác.

**Câu 2: So sánh Chính sách mới của Ru-dơ-ven với chính sách Kinh tế mới của Lê-nin theo 3 nội dung : Biện pháp , kết quả, vai trò của nhà nước**

<b>Nội dung</b>	<b>Chính sách Kinh tế mới</b>	<b>Chính sách mới</b>
<b>Biện pháp</b>	-Thu thuế lương thực -Tập trung công nghiệp nặng,cho phép tư nhân mở các xí nghiệp vừa và nhỏ, kêu gọi đầu tư nước ngoài,tự do buôn bán..	-Phục hồi kinh tế thông qua các đạo luật -Giải quyết việc làm, thất nghiệp...
<b>Kết quả</b>	Kinh tế nước Nga Xô viết phục hồi và phát triển	Nền kinh tế Mĩ phục hồi sau khủng hoảng
<b>Vai trò của Nhà nước</b>	Nhà nước can thiệp tích cực vào đời sống kinh tế	Nhà nước nắm các mạch máu kinh tế

# Hướng dẫn về nhà

## 1. Bài vừa học :

- Lập bảng so sánh nền kinh tế Mỹ trong hai giai đoạn: 1918-1929 và 1929-1933.
- Hậu quả của cuộc khủng hoảng kinh tế 1929-1933 với nước Mỹ.
- Chính sách mới của Ru-dơ-ven và tác dụng của nó

## 2. Bài sắp học : NHẬT BẢN GIỮA HAI CUỘC CHIẾN TRANH THẾ GIỚI (1918 - 1939)

- Nêu tình hình nước Nhật sau chiến tranh thế giới thứ nhất.
- Vì sao giới cầm quyền Nhật tiến hành chiến tranh xâm lược ra bên ngoài ?

