




Bài 57:



KHU VỰC TÂY VÀ TRUNG ẬU



1. Khái quát tự nhiên: (HS tự đọc)

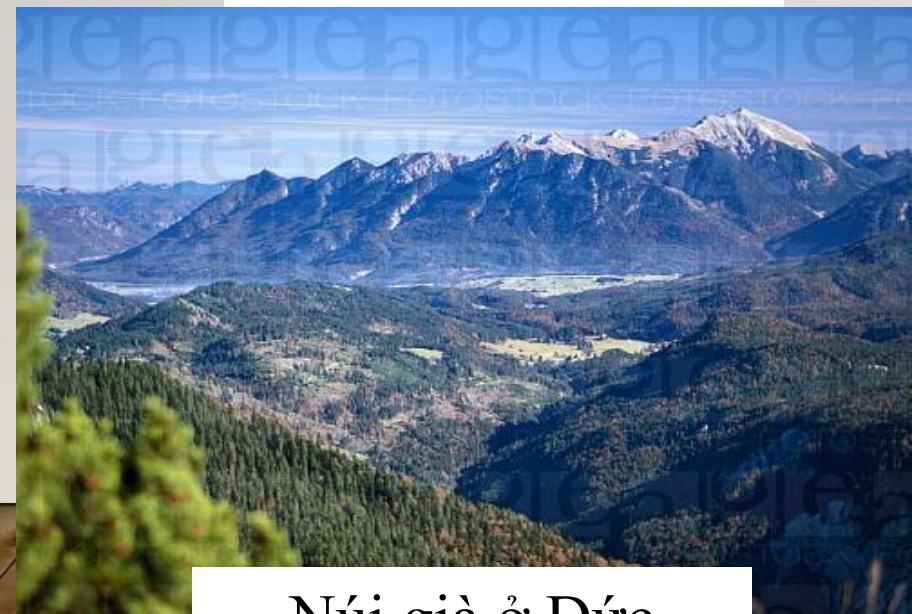
MỘT SỐ HÌNH ẢNH ĐỊA HÌNH KHU VỰC TÂY VÀ TRUNG ÂU



Đầm lầy phía Bắc



Đồng bằng ở Pháp



Núi già ở Đức



Dãy Anpơ

2. KINH TẾ



1: *Tìm hiểu sự phát triển và phân bố công nghiệp*

3 : *Tìm hiểu sự phát triển và phân bố các ngành dịch vụ*

2: *Tìm hiểu sự phát triển và phân bố nông nghiệp*

- 1: Tìm hiểu sự phát triển và phân bố công nghiệp khu vực Tây và Trung Âu:

- + Kể tên các ngành CN ở Tây và Trung Âu?
- + Kể tên các trung tâm CN Tây và Trung Âu?
- + Phân bố CN?

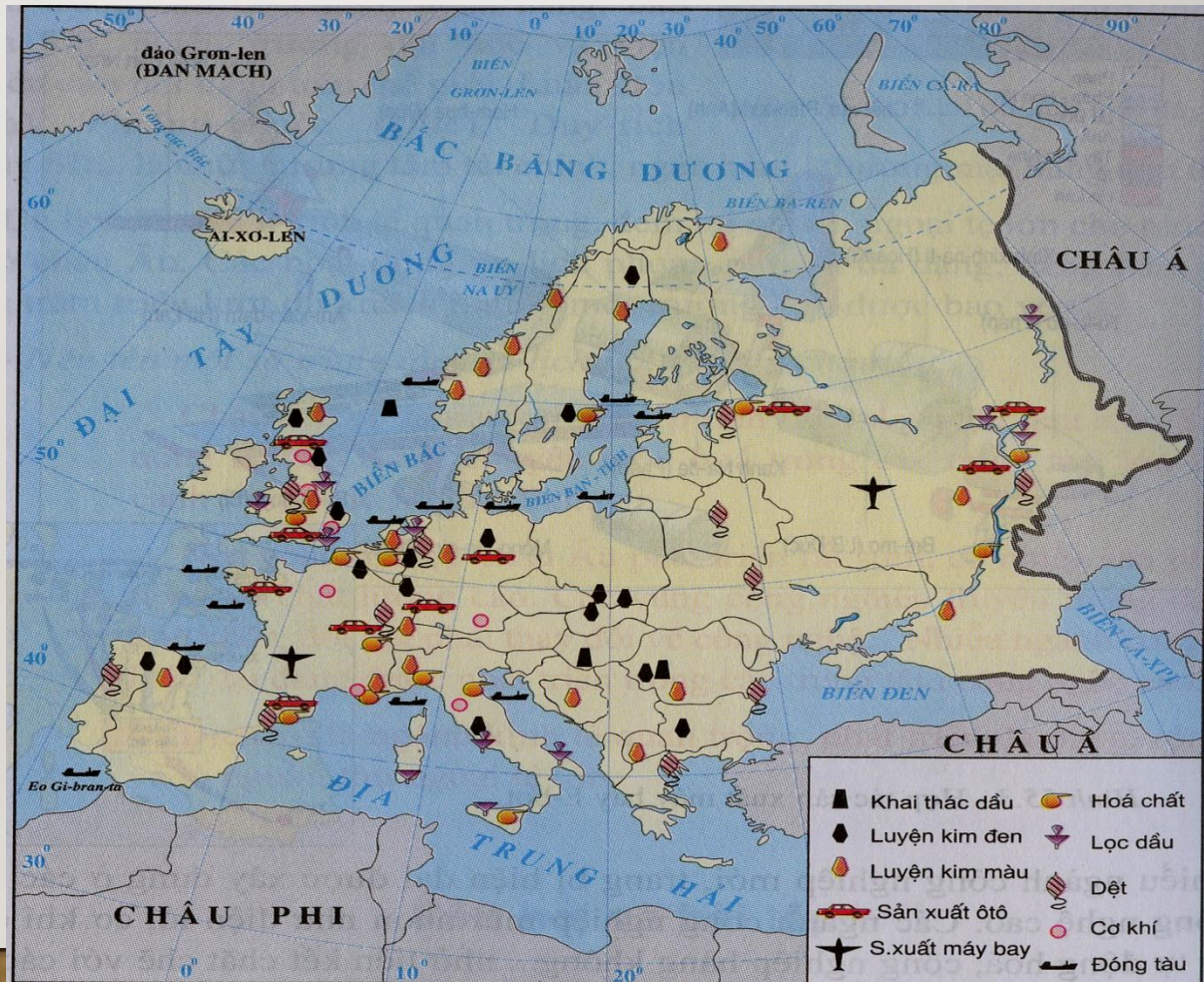
a. Công nghiệp

- Các cường quốc CN lớn: Anh, Pháp, Đức...

- Các ngành CN:

+ CN truyền thống: Luyện kim, dệt, may mặc, hàng tiêu dùng...

+ CN hiện đại: cơ khí chính xác, điện tử, hóa dược...



Hình 55.2 - Lược đồ công nghiệp châu Âu

Dựa vào hình 55.2, trình bày sự phân bố các ngành công nghiệp ở châu Âu.

MỘT SỐ HÌNH ẢNH VỀ CÔNG NGHIỆP KHU VỰC TÂY ÂU VÀ TRUNG ÂU



Một cơ sở công nghiệp công nghệ cao kiểu mới ở Tây Âu với thảm cỏ xanh bao quanh



Khai thác than ở Anh



Nhà máy luyện kim



Cảng rôt-téc-đam (Hà Lan)

2: Tìm hiểu sự phát triển và phân bố nông nghiệp khu vực Tây và Trung Âu

- + Trình độ SX nông nghiệp?
- + Kể tên các sp nông nghiệp chủ yếu?
- + Đặc điểm phân bố sp nông nghiệp?

b. Nông nghiệp:

- Trình độ SX nông nghiệp tiên tiến, hiện đại, áp dụng rộng rãi KHKT vào SX nông nghiệp, năng suất cao

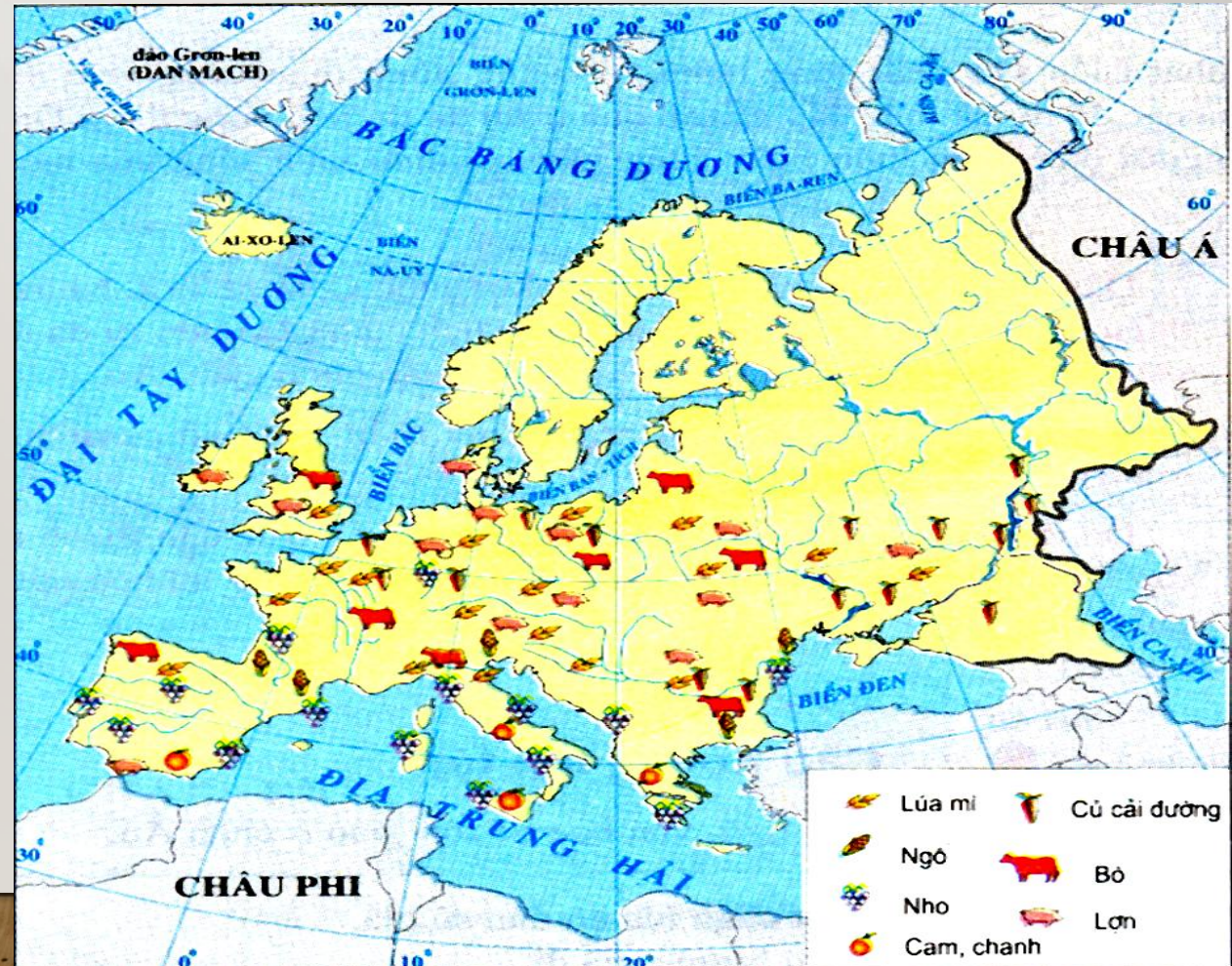
- Các sp nông nghiệp:

+ Phía bắc đb: lúa mạch, khoai tây

+ Phía nam đb: lúa mì, củ cải đường

+ Vùng đất thấp ven biển Bắc: Rau, hoa, chăn nuôi bò sữa

+ Trên các đồng cỏ vùng núi: chăn nuôi bò, cừu



Lịch ả n«ng nghiÖp Ch©u ư



Đê chắn sóng biển
Đập chắn nước tự động





Trung tâm nghiên cứu giống cây, hoa



Hoa tuylip ở Hà Lan



Đậu Hà Lan



Chăn nuôi bò sữa ở Hà Lan

- Nhóm 3: Quan sát bảng số liệu sau, cho biết ngành dịch vụ đóng vai trò như thế nào trong nền kinh tế các nước ở khu vực Tây và Trung Âu?

- Dịch vụ rất quan trọng, chiếm 2/3 tổng sản phẩm quốc dân

- Du lịch phát triển mạnh ở miền núi trẻ An- pơ nhờ lợi thế về phong cảnh núi non hùng vĩ thu hút nhiều du khách đến nghỉ ngơi, leo núi, trượt tuyết,... đem lại nguồn thu lớn.

- Có nhiều trung tâm tài chính lớn: Luân Đôn, Pa-ri, Duy-rich.



Thủ đô Luân Đôn(Anh) trong sương mù



Thủ đô Pa-ri(Pháp)



Vùng núi An-pơ và hoạt động du lịch trên vùng núi An-pơ



Kinh tế

Công nghiệp

- Nhiều cường quốc công nghiệp
- Nhiều vùng công nghiệp, hải cảng lớn
- Các ngành công nghiệp hiện đại và truyền thống phát triển song song

Nông nghiệp

- Vùng đồng bằng có nền nông nghiệp thâm canh, phát triển đa dạng, năng suất cao
- Vùng núi phát triển chăn nuôi

Dịch vụ

- Rất phát triển
- Các trung tâm tài chính lớn
- Phát triển hoạt động du lịch



Tiết học kết thúc!
Chúc quý thầy cô sức khỏe!
các em vui và học giỏi!