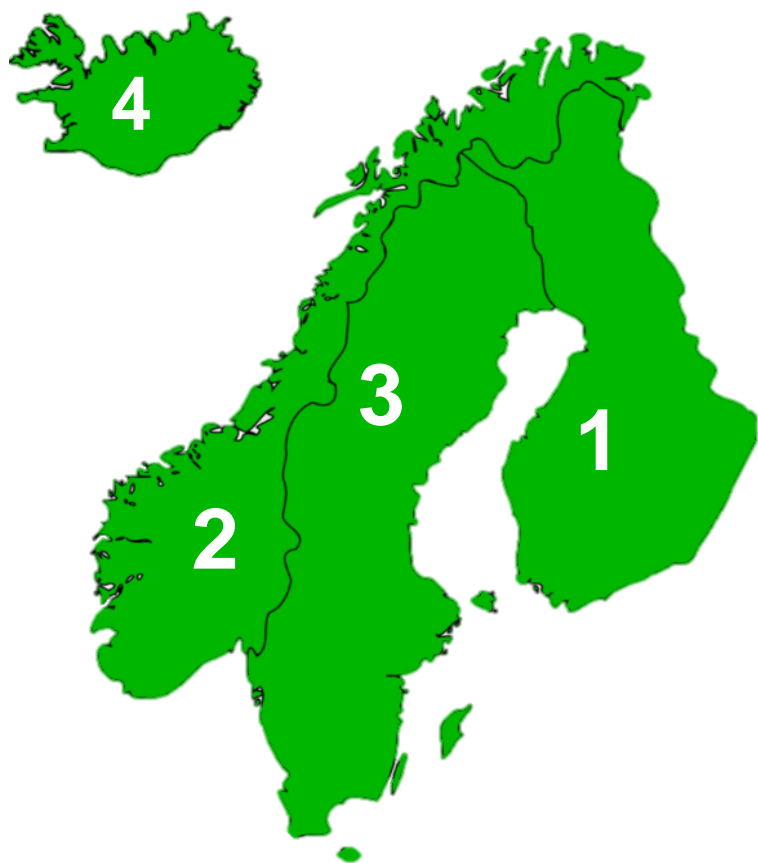


# Tớ là chuyên gia bản đồ

Có 4 bản đồ - Cho biết đó là bản đồ nước nào? Ghi thông tin lên bảng nhóm trong 1p >>> 10 điểm/đáp án đúng



**Câu 1:** Xứ sở được mệnh danh nghìn hồ là quốc gia nào?

PHẦN LAN

**Câu 2:** Đất nước có đường bờ biển ngoạn mục nhất hành tinh?

NA UY

**Câu 3:** Thủ đô Stoc-khom?

THỤY ĐIỂN

**Câu 4:** Đất nước của băng và lửa?

AI - XƠ - LEN



REYKJAVIK ICELAND



NORWAY

OSLO

SWEDEN

STOCKHOLM

FINLAND

HELSINKI

DENMARK

COPENHAGEN



# Em có biết?

Đất nước Iceland được gọi là “Vương quốc mặt băng dạ lửa” do bên trong lòng còn nhiều núi lửa, suối nước nóng nhưng trên bề mặt lại bao phủ bởi băng tuyết.



# Em có biết ?

Đất nước Phần Lan được gọi là “Đất nước nghìn hồ” do có tới 60000 hồ, chiếm 1/8 diện tích toàn đất nước. Các hồ đa số hình thành do băng hà.



The background of the slide is a photograph of the Aurora Borealis (Northern Lights) over a snowy, mountainous landscape. The aurora is visible as a vibrant, greenish-yellow glow in the dark blue sky. The snow-covered ground and mountains are reflected in a body of water in the foreground. The entire scene is framed by a white double-line border.

BÀI 56

**CÁC NƯỚC BẮC ÂU**



Trình bày những đặc điểm vị trí, tự nhiên của các nước Bắc Âu



Đánh giá đặc điểm kinh tế các nước Bắc Âu



Giải thích đặc điểm kinh tế Bắc Âu và liên hệ Việt Nam

M  
Ụ  
C  
T  
I  
Ê  
U

# 1. Khái quát tự nhiên

2:00



Hình 56.1 - Lược đồ các nước khu vực Bắc Âu

- ❑ Làm PHT trong 2 phút
- ❑ Chia sẻ 1 phút với bạn
- ❑ Lên chỉ bản đồ

Tiêu chí	Thông tin
Phạm vi	
Tên quốc gia	
Thuận lợi	
Khó khăn	

- Nằm ở phía Bắc châu Âu
- Nằm từ  $55^{\circ}\text{B}$  –  $71^{\circ}\text{B}$

**Thuận lợi:** Trao đổi kinh tế với châu Âu. Phát triển kinh tế biển.

**Khó khăn:** Khí hậu khắc nghiệt, di chuyển xa, chi phí lớn

# 1. Khái quát tự nhiên

*Quan sát lược đồ bên, hãy xác định đặc điểm địa hình, khí hậu, tài nguyên của Bắc Âu.*

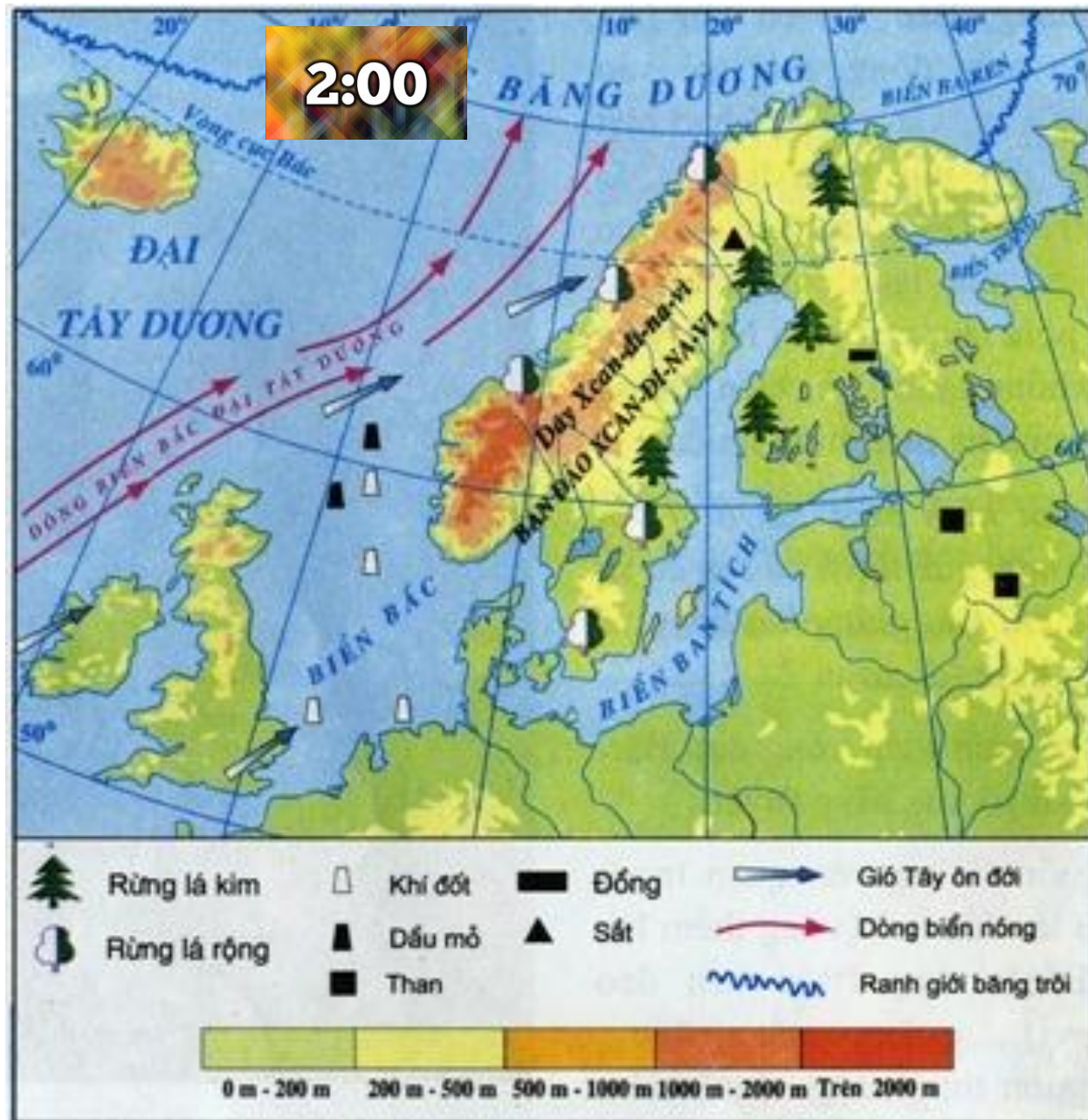
**Nhóm 6 thành viên:**

**+ Số 1,2: Tìm hiểu địa hình**

**+ Số 3,4: Tìm hiểu khí hậu**

**+ Số 5,6: Tìm hiểu tài nguyên**


**Nghiên cứu lược đồ trong 2 phút, hoàn thành sơ đồ**



Hình 56.4 - Lược đồ tự nhiên khu vực Bắc Âu

2:00

# TỰ NHIÊN BẮC ÂU



Địa hình

A large, empty rectangular box with a light orange background and a thin black border, intended for notes on topography.

Khí hậu

A large, empty rectangular box with a light orange background and a thin black border, intended for notes on climate.

Tài nguyên

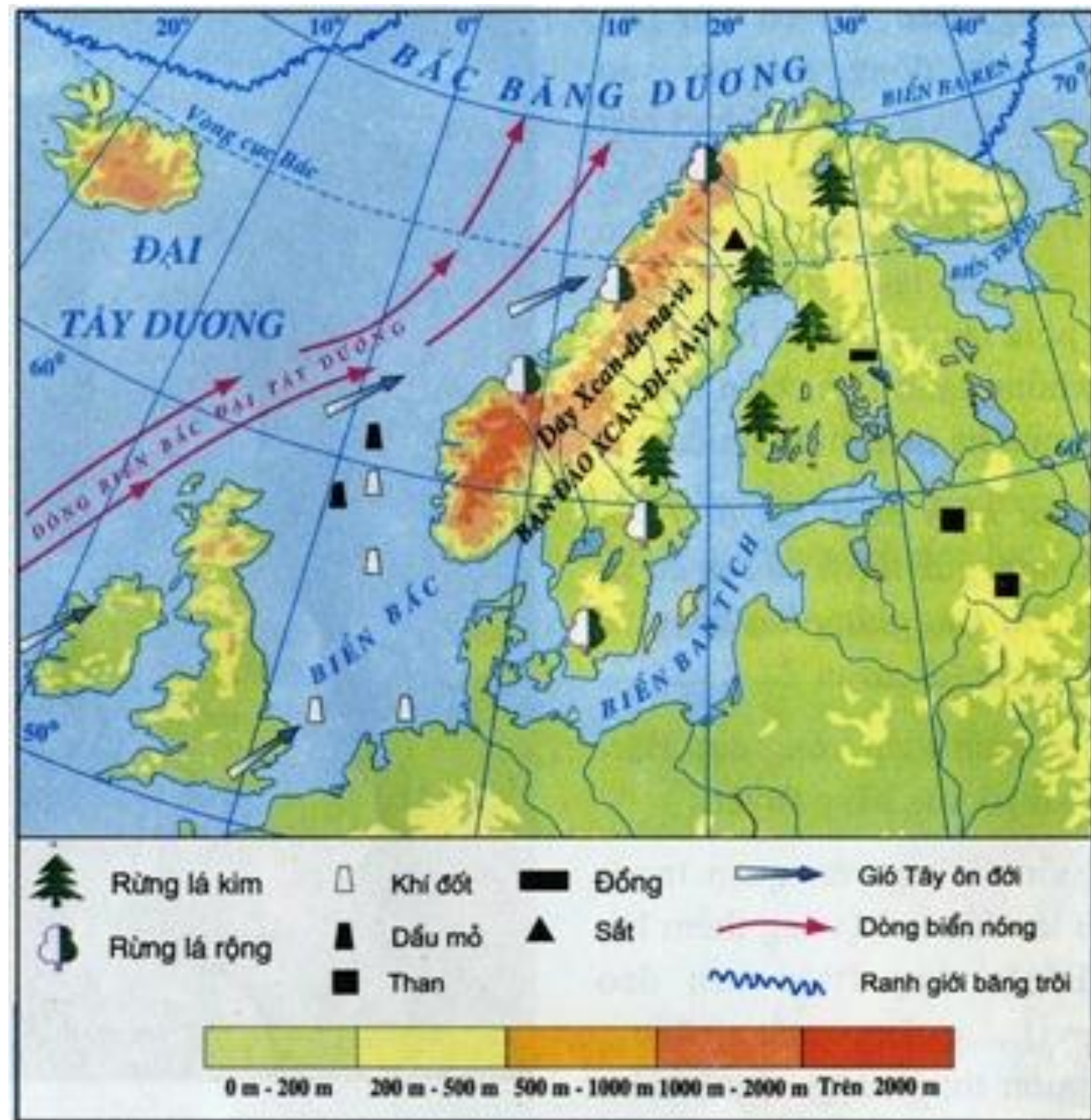
A large, empty rectangular box with a light orange background and a thin black border, intended for notes on resources.

Nhóm 6 thành viên: Số 1,2: Tìm hiểu địa hình; Số 3,4: Tìm hiểu khí hậu; Số 5,6: Tìm hiểu tài nguyên


Nghiên cứu lược đồ trong 2 phút, hoàn thành sơ đồ

# 1. Khái quát tự nhiên

- **Địa hình:** địa hình bằng hà cổ, núi già, thấp, bờ biển khúc khuỷu.
- **Khí hậu:** lạnh giá, phía tây ẩm áp. Đông lạnh, hè mát



Hình 56.4 - Lược đồ tự nhiên khu vực Bắc Âu






MỘt fi-o Ở Na Uy



Thiên nhiên Iceland

# 1. Khái quát tự nhiên



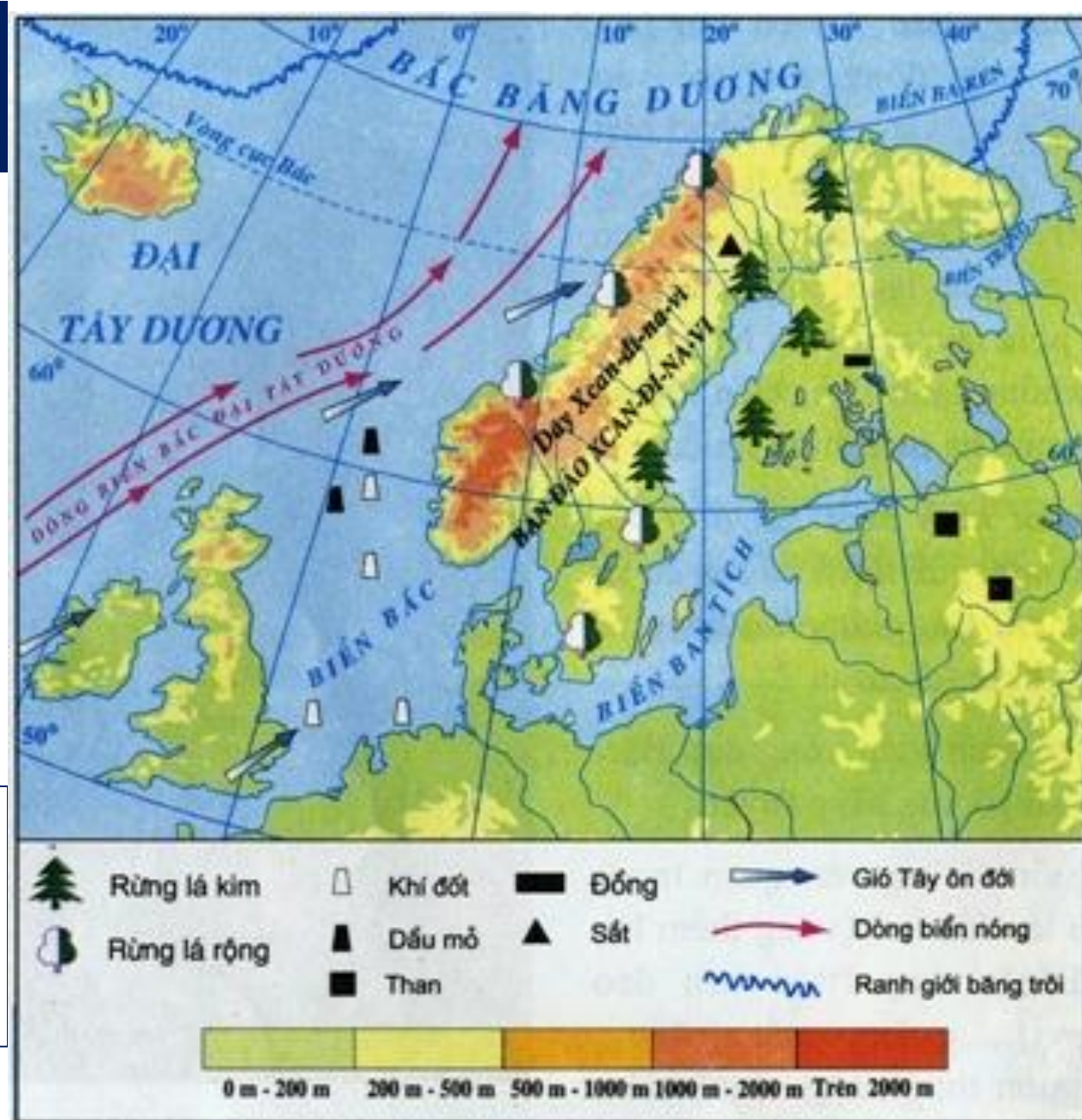
Quick Pair Share

2:00



**Giải thích tại sao có sự khác nhau rõ nét về khí hậu ở hai sườn núi Xcan-đi-na-vi?**

**Yếu tố gió TÂY và DÒNG BIỂN**



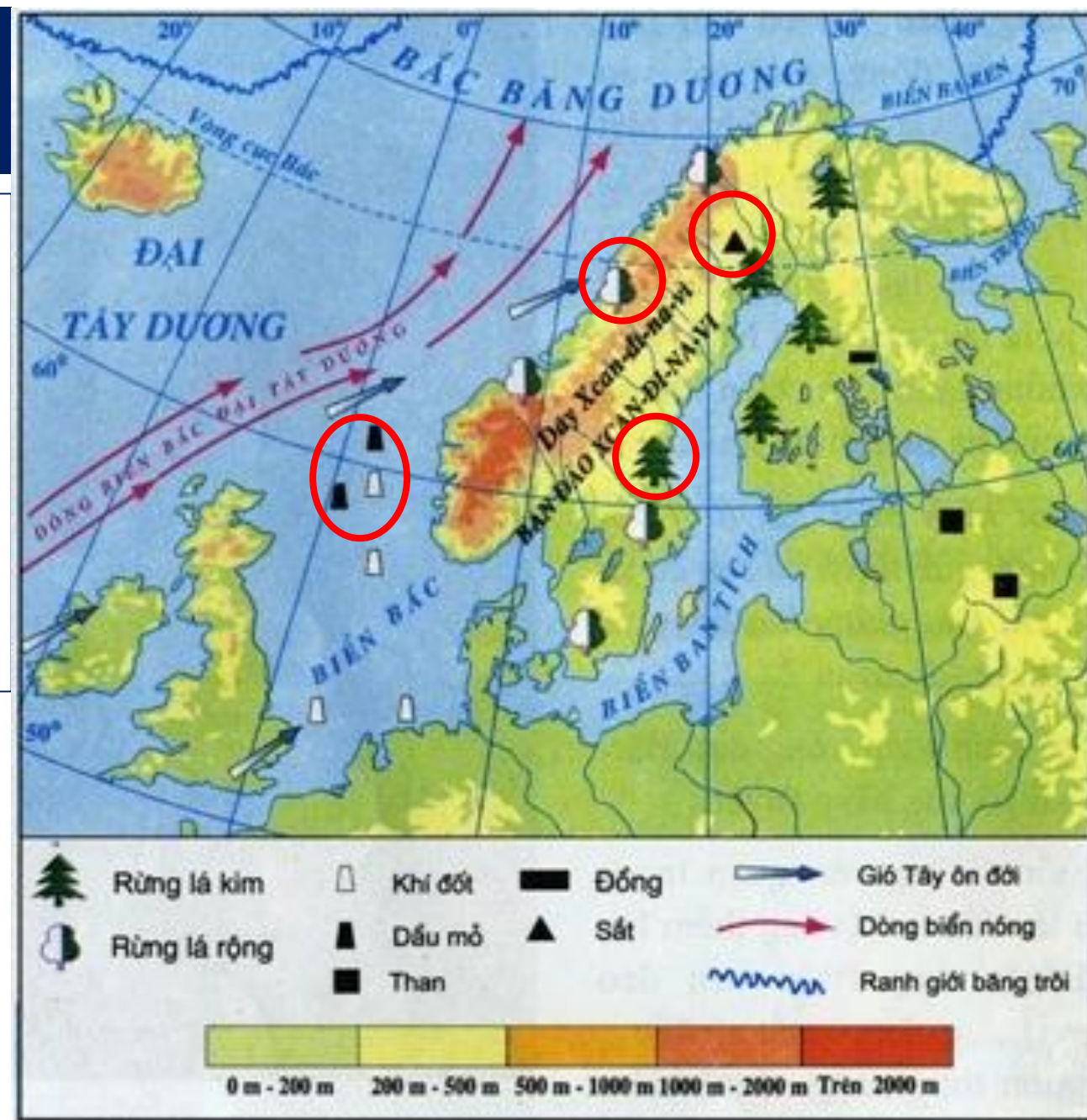
Hình 56.4 - Lược đồ tự nhiên khu vực Bắc Âu

# Mùa Đông phương Bắc



# 1. Khái quát tự nhiên


- **Sông hồ:** dày đặc, giàu tiềm năng thủy điện.
- **Thảm thực vật:** Rừng lá rộng, rừng lá kim.
- **Khoáng sản:** Dầu khí



Hình 56.4 - Lược đồ tự nhiên khu vực Bắc Âu


2:00

# TỰ NHIÊN BẮC ÂU



## Địa hình

Đa dạng: băng hà cổ, núi già, thấp, bờ biển khúc khuỷu.



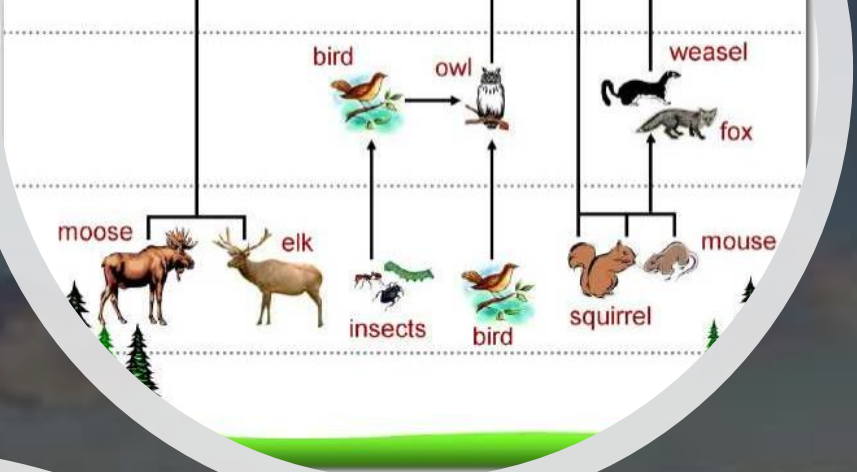
## Khí hậu

Lạnh giá, phía tây ấm áp. Đông lạnh, hè mát



## Tài nguyên

- Sông hồ: dày đặc, giàu tiềm năng thủy điện.
- Thảm thực vật: Rừng lá rộng, rừng lá kim.
- Khoáng sản: Dầu khí



# Thiên nhiên Bắc Âu



# EM CÓ NHẬN XÉT GÌ VỀ CUỘC SỐNG VÀ KINH TẾ CÁC NƯỚC BẮC ÂU?



VYC TRAVEL



# KỂ TÊN CÁC QUỐC GIA BẮC ÂU CÓ CHỈ SỐ HDI CAO

BÁO CÁO PHÁT TRIỂN CON NGƯỜI 2019 đã xếp hạng chỉ số HDI năm 2018 của 189 quốc gia theo 4 nhóm. Nhóm 1 là nhóm có chỉ số HDI rất cao với giá trị chỉ số HDI ở mức trên 0,8. Có 62/189 quốc gia/vùng lãnh thổ trên thế giới được xếp vào nhóm này. Giá trị HDI trung bình của nhóm này là 0,892. Trong đó, 10 quốc gia/vùng lãnh thổ đứng đầu bảng xếp hạng bao gồm Na Uy, Thụy Sĩ, Phần Lan, Đức, Hồng Kông,

Chỉ số Phát triển Con người: 0,944

Thu nhập bình quân đầu người: 63.909 USD (đứng thứ 6)

Tuổi thọ trung bình: 81,5 tuổi (đứng thứ 13)


Số năm học dự kiến: 17,6 năm (đứng thứ 6)

Theo chỉ số Phát triển Con người, không có quốc gia nào đáng để ở hơn Na Uy. Cũng như nhiều nước phát triển khác và các nước thuộc bán đảo

- Nghiên cứu SGK và bài đọc
- Tại sao các nước Bắc Âu có được chất lượng cuộc sống cao? Dựa vào SGK hãy kể tên các ngành kinh tế quan trọng của Bắc Âu.



- Viết ý cá nhân 1 phút
- Chia sẻ trong nhóm 2 phút
- Thống nhất ý kiến chung nhóm





## 2. Kinh tế

- CN khai thác: rừng, thủy sản, khoáng sản.
- Công nghiệp chế biến: gỗ, giấy, chế biến nông sản...
- Trình độ phát triển cao >>> Phát triển kinh tế bền vững là xu hướng chung của các nước.



Đất nước Na  
Uy

# Em có biết?

## GLOBAL HDI RANKINGS



### TOP 5 COUNTRIES

NORWAY  
2017 Rank **1**

SWITZERLAND **2**

AUSTRALIA **3**

IRELAND **4**

GERMANY **5**

INDIA  
**130**

### BOTTOM 5 COUNTRIES

BURUNDI **185**

CHAD **186**

NIGER **189**

CENTRAL  
AFRICAN REPUBLIC  
**188**

SOUTH SUDAN **187**



## Chỉ số phát triển con người Na-uy 2017





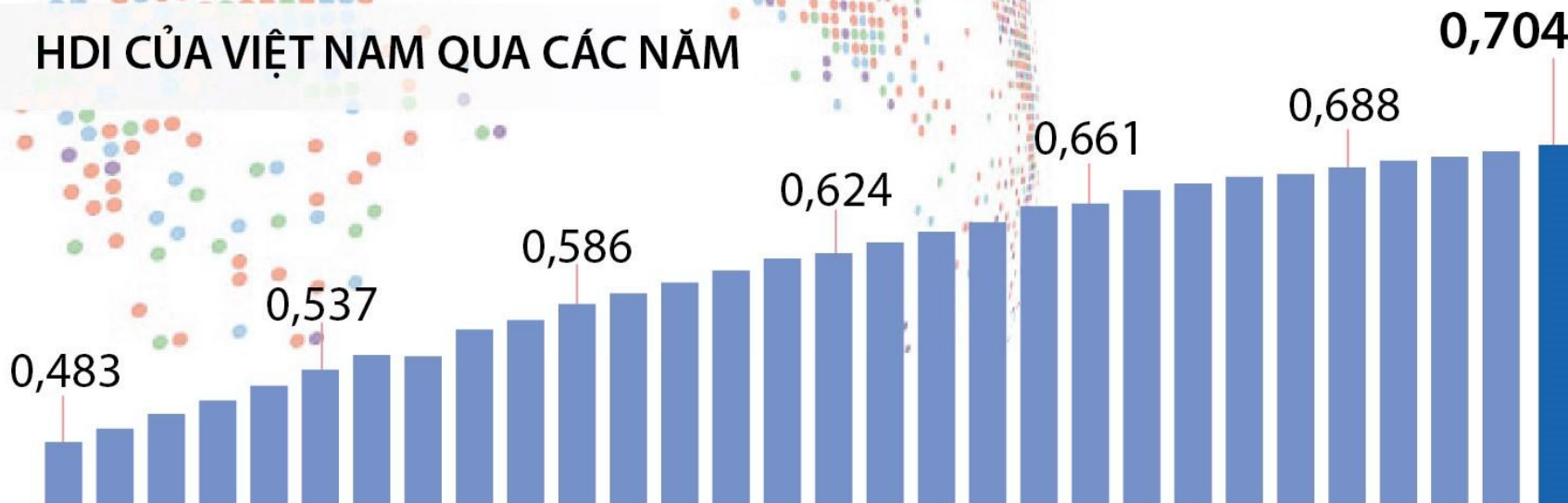
# VN có thể học tập điều gì từ các nước Bắc Âu?



## LẦN ĐẦU TIÊN VIỆT NAM VÀO NHÓM NƯỚC CÓ CHỈ SỐ PHÁT TRIỂN CON NGƯỜI CAO

Chỉ số phát triển con người (HDI) của Việt Nam năm 2019 là 0,704, đứng ở vị trí 117 trên 189 quốc gia/vùng lãnh thổ và lần đầu tiên vào nhóm chỉ số cao. Trong giai đoạn 1990-2019, Việt Nam ghi nhận HDI tăng gần 46%, thuộc những nước có mức tăng cao nhất thế giới.

HDI CỦA VIỆT NAM QUA CÁC NĂM



PHÁT TRIỂN  
BỀN VỮNG

Quan sát bảng số liệu, rút ra nhận xét về sản lượng và bình quân đầu người giấy, bì 3 nước Bắc Âu. Tại sao họ sản xuất mạnh?

Tên nước	Sản lượng giấy, bì (nghìn tấn)		Bình quân đầu người (kg)	
	Năm 1999	Năm 2017	Năm 1999	Năm 2017
Na Uy	2242	1097	502,7	206,9
Thụy Điển	10071	10261	1137,1	1015,9
Phần Lan	12947	10276	2506,7	1868,4

- Sản lượng giấy, bì và bình quân đầu người các nước có sự thay đổi
- Phần Lan là nước có giá trị cao nhất, thấp nhất là Na Uy
- Sản lượng Thụy Điển có tăng nhẹ nhưng bình quân lại giảm
- Sản xuất giấy, bì nhằm tăng giá trị sản phẩm gỗ, tạo việc làm...

# HIỂU Ý ĐỒNG ĐỘI

+ Có **10 từ khóa** liên quan về kinh tế

+ **2 HS** đại diện nam và nữ sẽ bốc thăm từ khóa và **gợi ý** cho các thành viên trong lớp đoán. Gợi ý phải dùng **ngôn ngữ địa lí** để diễn đạt.

+ HS dưới lớp **ghi 10 từ khóa** vào ô tương ứng trong PHT (lưu ý không sửa, không trao đổi, nhìn bạn)

+ Thời gian gợi ý và ghi đáp án **15s/từ**

Fi-o

Phần Lan

RỪng lá kim

ThỦy sản

Dầu khí

BắC Âu

Na uy

Núi già

Thụy ĐiểN

Ai-xO'-len

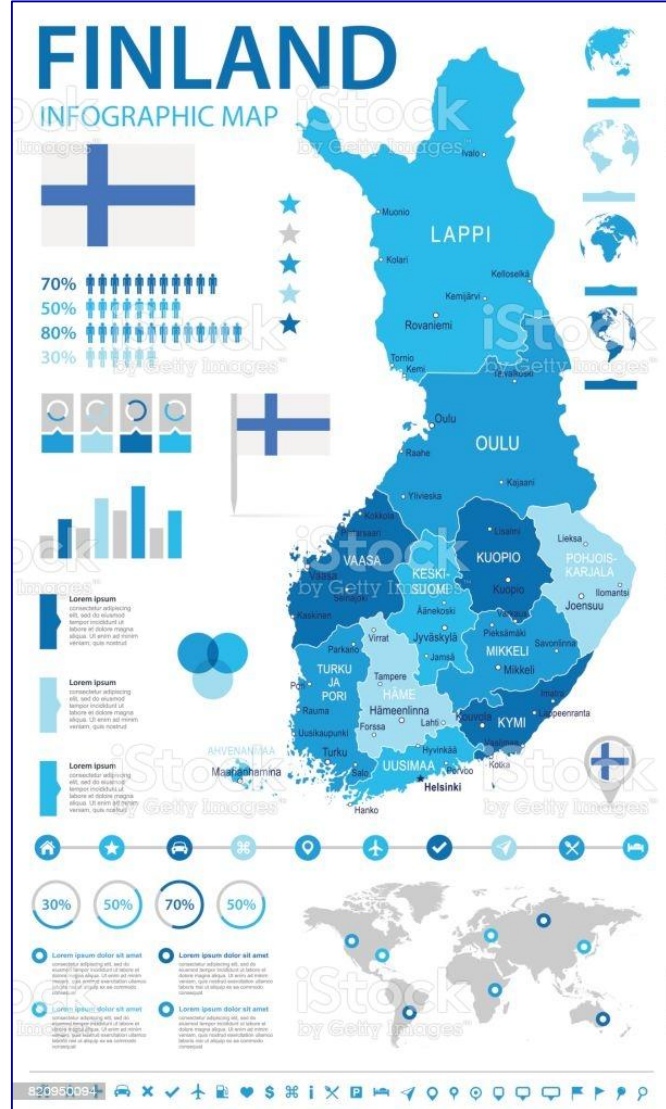
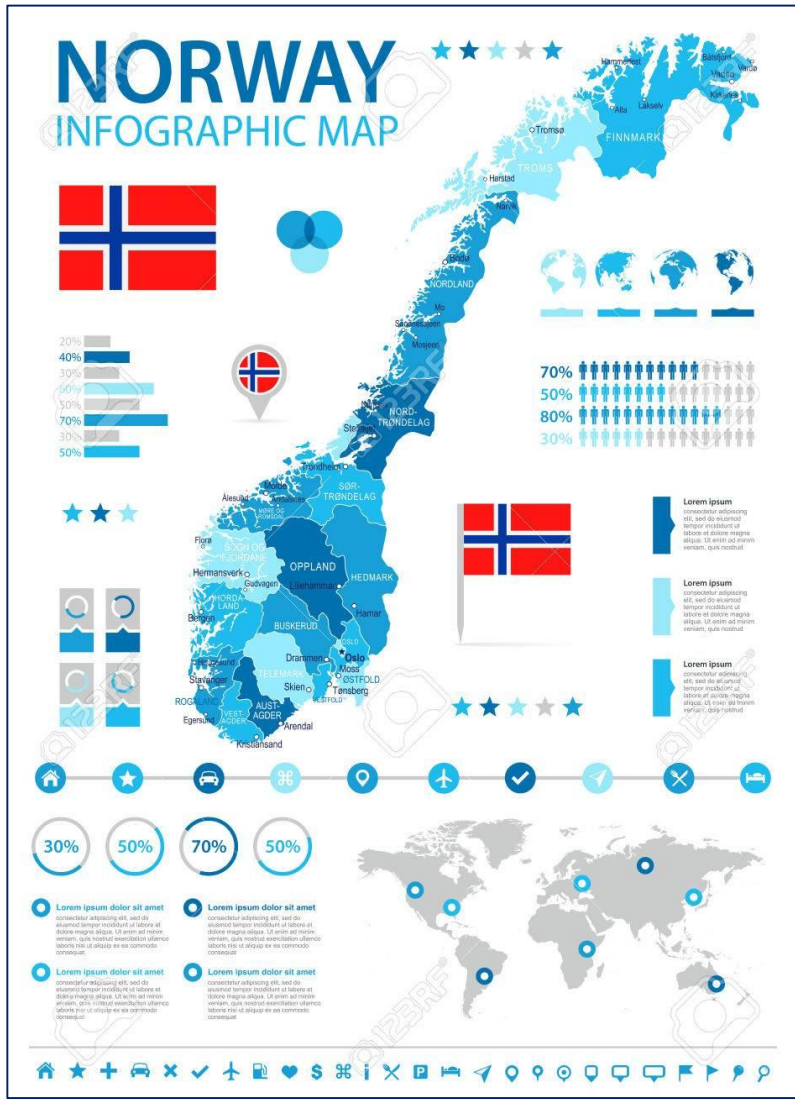


Chọn 1 trong 2 sản phẩm sau:

- Thiết kế mindmap/sản phẩm tóm tắt về Bắc Âu
- Viết 1 bài cảm nhận dưới 100 chữ về 1 quốc gia em ấn tượng nhất ở Bắc Âu

- ✓ Hạn nộp: 1 tuần
- ✓ Tiêu chí: Ngắn gọn, khoa học, có bản đồ, hình ảnh, số liệu
- ✓ Trình bày trên 1 mặt A4

# NHIỆM VỤ CHO EM



*Thank You*

