

CÂU HỎI ÔN TẬP TẠI NHÀ KHỐI 6

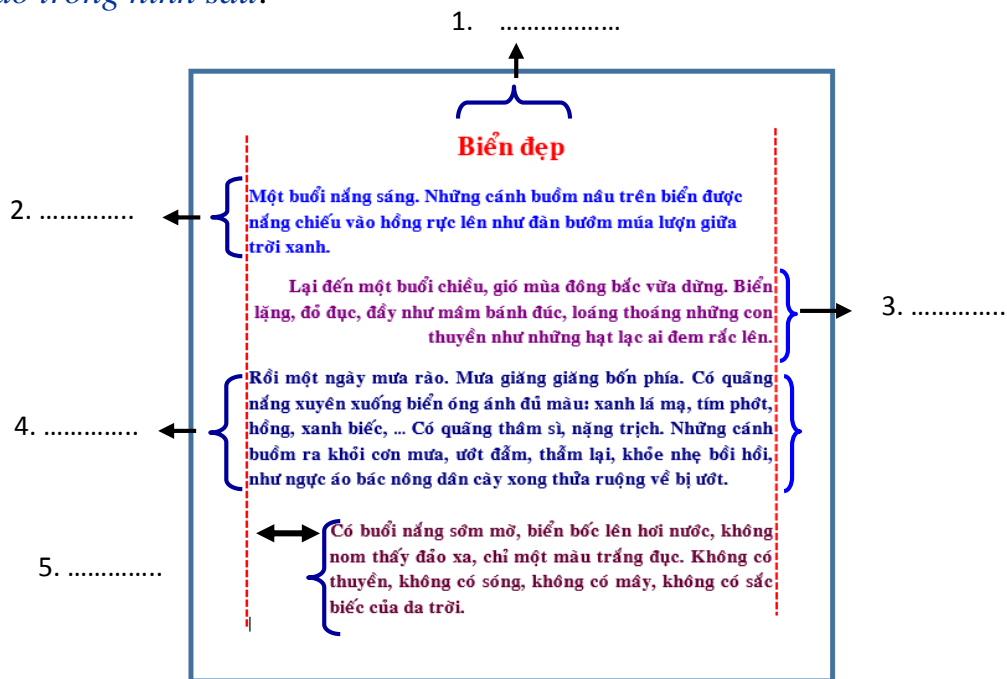
Từ ngày 16/03/2020 đến 28/03/2020

(Lần 3)

Bài 17: ĐỊNH DẠNG ĐOẠN VĂN BẢN

1) Định dạng đoạn văn bản.

Trong định dạng đoạn văn có phần định dạng căn lề, học sinh cho biết có những loại căn lề nào trong hình sau:

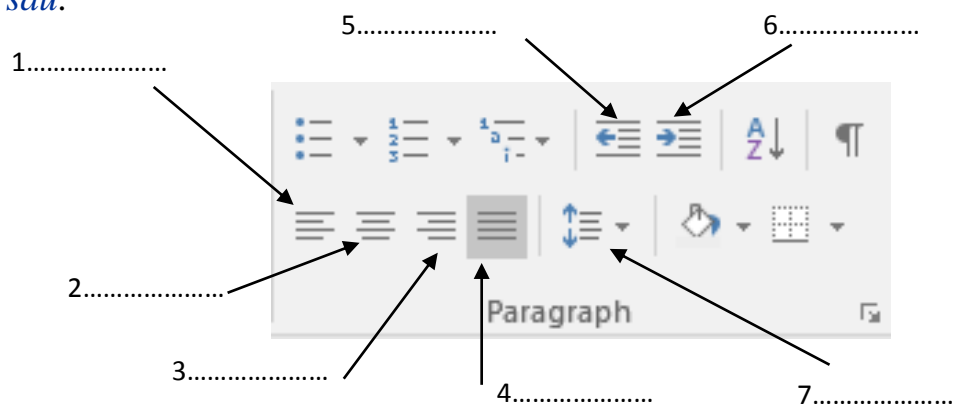


2) Sử dụng các nút lệnh định dạng đoạn văn bản.

B1: Đưa con trỏ soạn thảo vào đoạn văn cần định dạng

B2: Sử dụng các lệnh trong nhóm **Paragraph** trên dải lệnh **Home**








Học sinh đọc sách giáo khoa (tìm trên máy tính) điền vào chỗ trống công dụng các nút lệnh định dạng sau:



3) Vận dụng kiến thức đã nghiên cứu, học sinh thực hiện bài tập sau:

Hãy nối cột A và B sao cho đúng:

Cột A
1. Căn thẳng lề trái
2. Căn giữa
3. Căn thẳng lề phải
4. Căn thẳng hai lề
5. Tăng khoảng cách thụt lề trái
6. Giảm khoảng cách thụt lề trái
7. Tăng/giảm khoảng cách giữa các dòng trong đoạn

Cột B
A 
B 
C 
D 
E 
F 
G 

1..... 2..... 3..... 4..... 5..... 6..... 7.....

4) Trắc nghiệm:

1. Nút lệnh nào sau đây có chức năng **giảm** mức thụt lùi trái?

- a.  b.  c.  d. 





2. Nút lệnh dùng để căn thẳng 2 lề văn bản:

- a.  b.  c.  d. 

3. Nút lệnh dùng để căn giữa văn bản:

- a.  b.  c.  d. 

4. Nút lệnh nào sau đây có chức năng **tăng** mức thụt lùi trái?

- a.  b.  c.  d. 

5. Nút lệnh nào có chức năng thay đổi khoảng cách giữa các dòng trong đoạn

- a.  b.  c.  d. 