

LỜI NÓI ĐẦU

Bản đồ địa lí, tập bản đồ địa lí (atlat địa lí) là phương tiện giảng dạy và học tập rất cần thiết và hữu ích đối với môn Địa lí. Cùng với sách giáo khoa, tập bản đồ địa lí là tài liệu hỗ trợ thiết thực cho các thầy giáo, cô giáo trong khi soạn giáo án và quá trình dạy học, là một tài liệu sinh động, phong phú, hấp dẫn học sinh khi học bài, ôn bài và làm các bài tập Địa lí.

Tập bản đồ Địa lí 9 được biên soạn nhằm phục vụ cho giảng dạy và học tập môn Địa lí ở lớp 9. Vì thế, cấu trúc nội dung của Tập bản đồ Địa lí 9 một mặt thống nhất với cấu trúc chương trình và nội dung sách giáo khoa Địa lí 9 mặt khác, đáp ứng về tính thẩm mỹ, tính chính xác và tận dụng những ưu thế của ngôn ngữ hội họa, ngôn ngữ nhiếp ảnh và nhất là ngôn ngữ bản đồ - ngôn ngữ đặc thù của Địa lí học.

Nội dung của Tập bản đồ Địa lí 9 được sắp xếp theo trình tự các bài trong sách giáo khoa Địa lí 9. Để thuận tiện cho các thầy giáo, cô giáo và học sinh sử dụng Tập bản đồ Địa lí 9 trong giảng dạy và học tập, trên mỗi trang sách còn có các câu hỏi hướng vào các nội dung được thể hiện trên từng trang bản đồ.

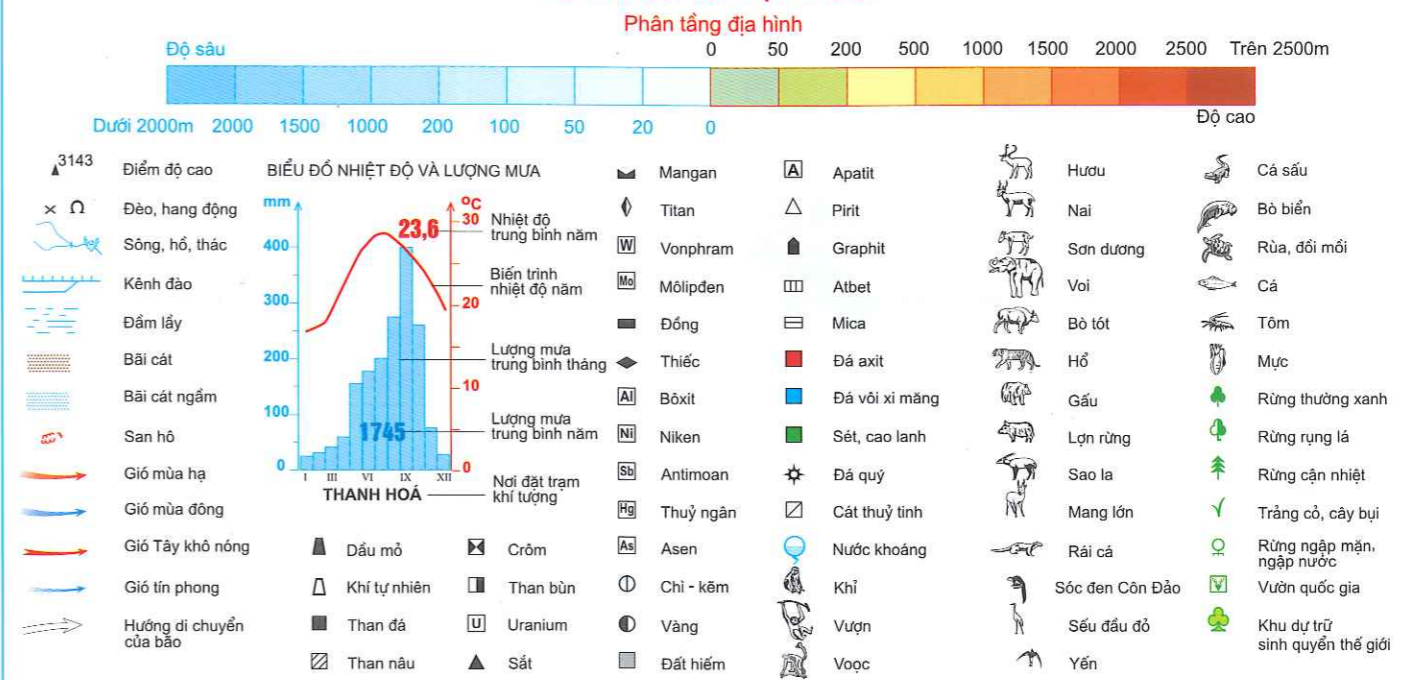
Tập thể tác giả xin chân thành cảm ơn các nhà khoa học, các chuyên gia, ông Vũ Việt Chính, ông Nguyễn Việt Hùng đã đóng góp những ý kiến quý báu để bổ sung, hoàn thiện nội dung và phương pháp trình bày, nhằm nâng cao chất lượng Tập bản đồ Địa lí 9 khi xuất bản.

Tập thể tác giả đã cố gắng bám sát mục tiêu, yêu cầu đối với Tập bản đồ Địa lí 9 cố gắng lựa chọn, bổ sung để nội dung sách thêm phong phú, hấp dẫn học sinh trong học tập môn Địa lí, song không tránh khỏi những thiếu sót (hoặc về nội dung, hoặc về phương pháp trình bày, thể hiện). Tập thể tác giả rất mong nhận được những ý kiến đóng góp của quý độc giả để bổ sung, sửa chữa, hoàn thiện khi tái bản Tập bản đồ này.

Các tác giả

KÍ HIỆU CHUNG

CÁC YẾU TỐ TỰ NHIÊN



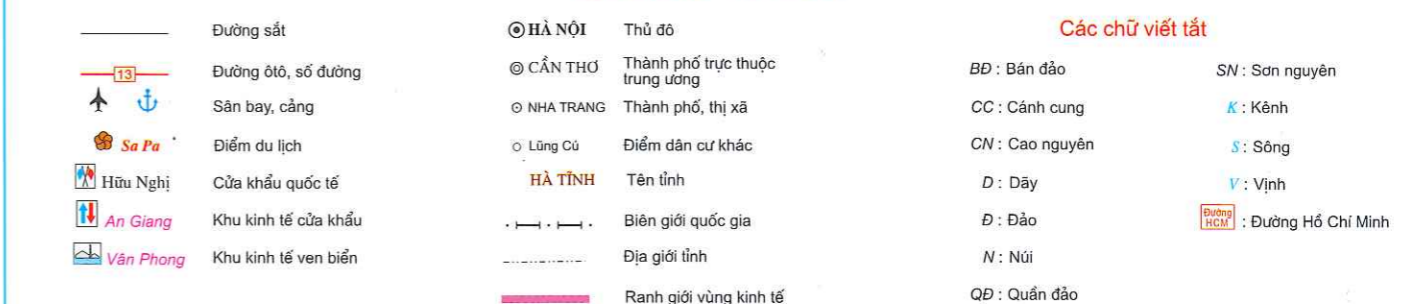
CÁC YẾU TỐ KINH TẾ CÔNG NGHIỆP



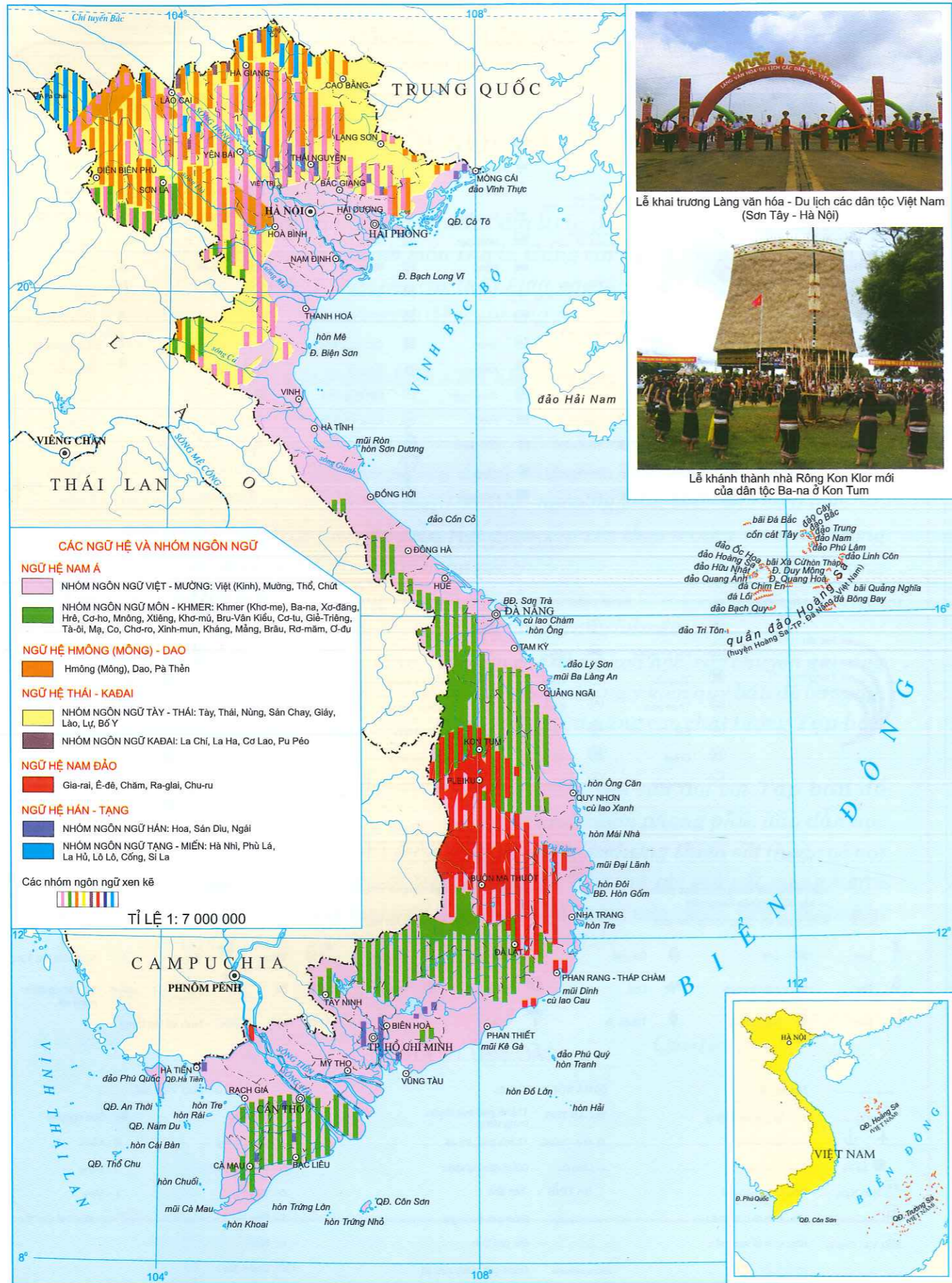
NÔNG NGHIỆP, LÂM NGHIỆP, THỦY SẢN



CÁC YẾU TỐ KHÁC



DÂN TỘC



Lễ khai trương Làng văn hóa - Du lịch các dân tộc Việt Nam (Sơn Tây - Hà Nội)

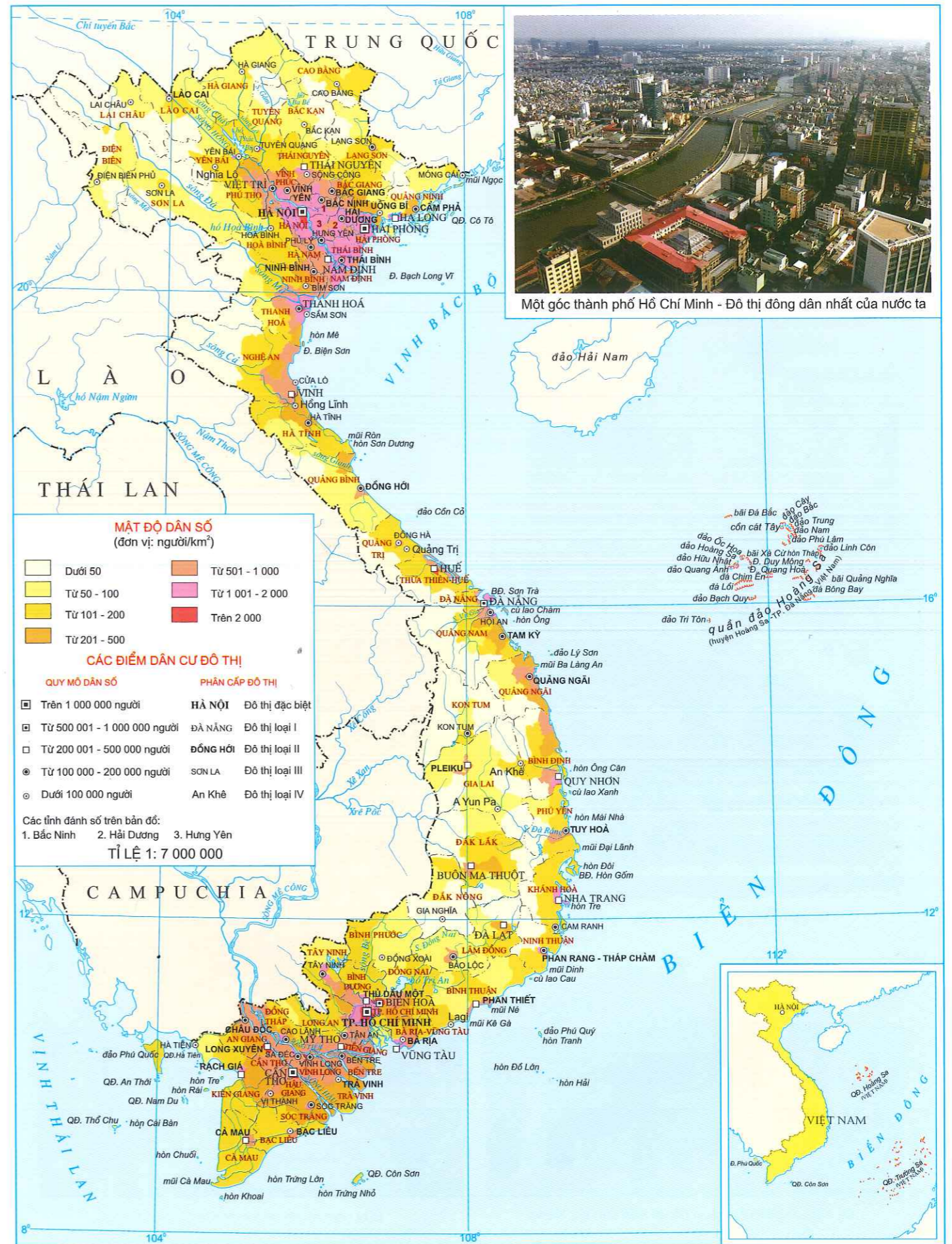


Lễ khánh thành nhà Rông Kon Klor mới của dân tộc Ba-na ở Kon Tum



quần đảo Hoàng Sa (huyện Hoàng Sa - TP. Đà Nẵng)

DÂN SỐ



Một góc thành phố Hồ Chí Minh - Đô thị đông dân nhất của nước ta

4 ? Dựa vào bản đồ, trình bày tình hình phân bố dân tộc ở nước ta.
 ? Trung du và miền núi Bắc Bộ là địa bàn cư trú của các dân tộc thuộc các ngữ hệ và nhóm ngôn ngữ chủ yếu nào ?

? Hãy giải thích vì sao dân cư tập trung đông ở đồng bằng và thưa thớt ở miền núi.
 ? Dựa vào bản đồ, hãy kể tên các đô thị loại đặc biệt và các đô thị loại I ở nước ta. Những đô thị nào trực thuộc tỉnh ? 5

HÌNH ẢNH VỀ MỘT SỐ DÂN TỘC Ở VIỆT NAM



Lễ hội ở đình làng của dân tộc Việt (Kinh)



Nhà sàn dân tộc Mường ở Hoà Bình



Thiếu nữ dân tộc Hmông (Mông) trong lễ hội Gầu tào ở Lào Cai



Tục đi hỏi vợ của dân tộc Dao



Cối giã gạo bằng sức nước của dân tộc Thái



Dệt thổ cẩm của dân tộc Tày



Lễ hội Lồng tồng (xống đồng) của dân tộc Nùng



Bữa cơm mừng nhà mới của dân tộc Cống



Nhạc cụ của dân tộc Ê-đê ở Tây Nguyên



Dân tộc Ba-na ở Gia Lai với nhạc cụ đồng chiêng



Nhà dài của dân tộc Mông



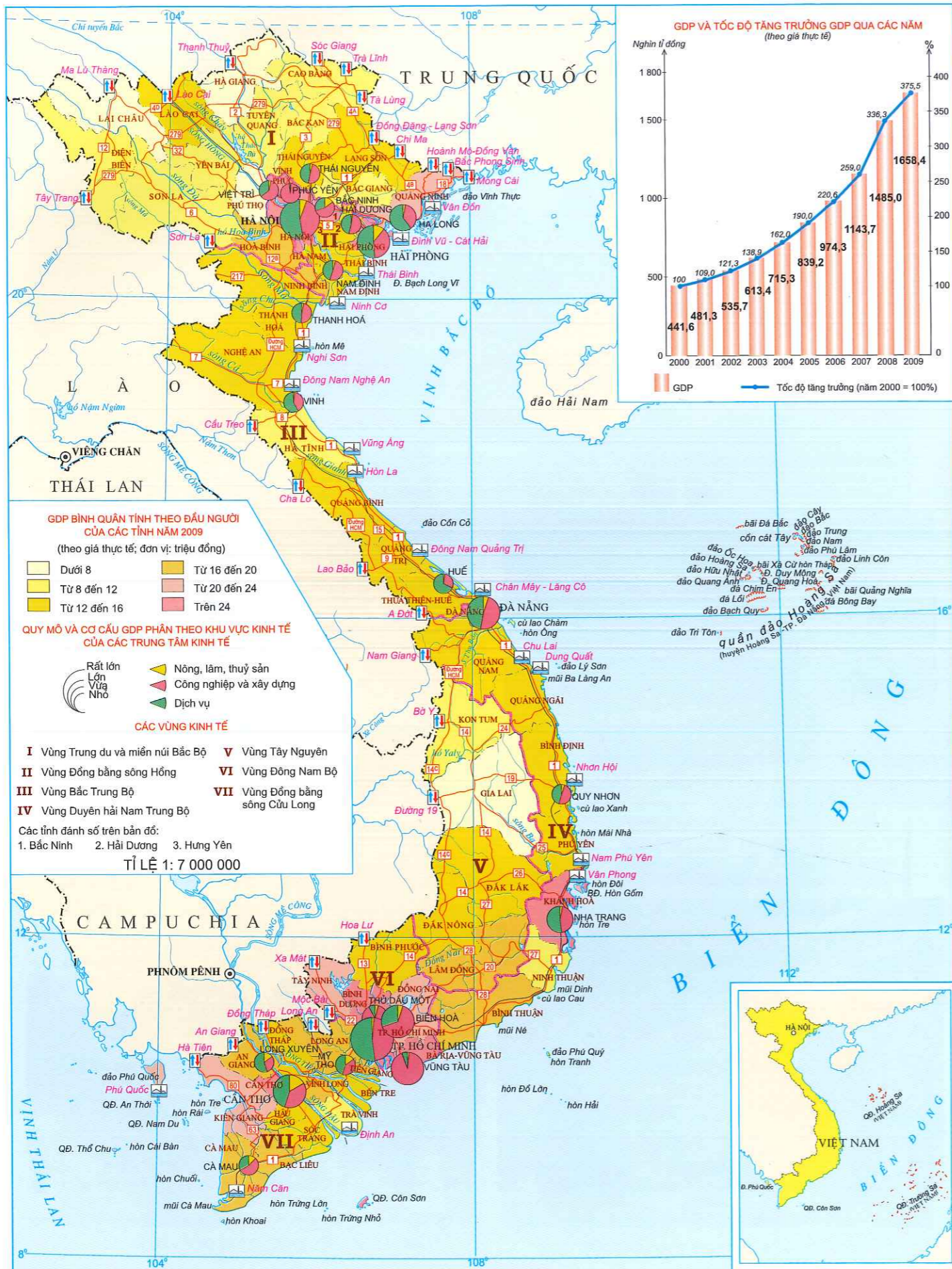
Lễ cúng tế của dân tộc Chăm trong đền Pô Tâm ở Hàm Thuận Bắc - Bình Thuận



Lễ hội ở sân chùa của người Hoa



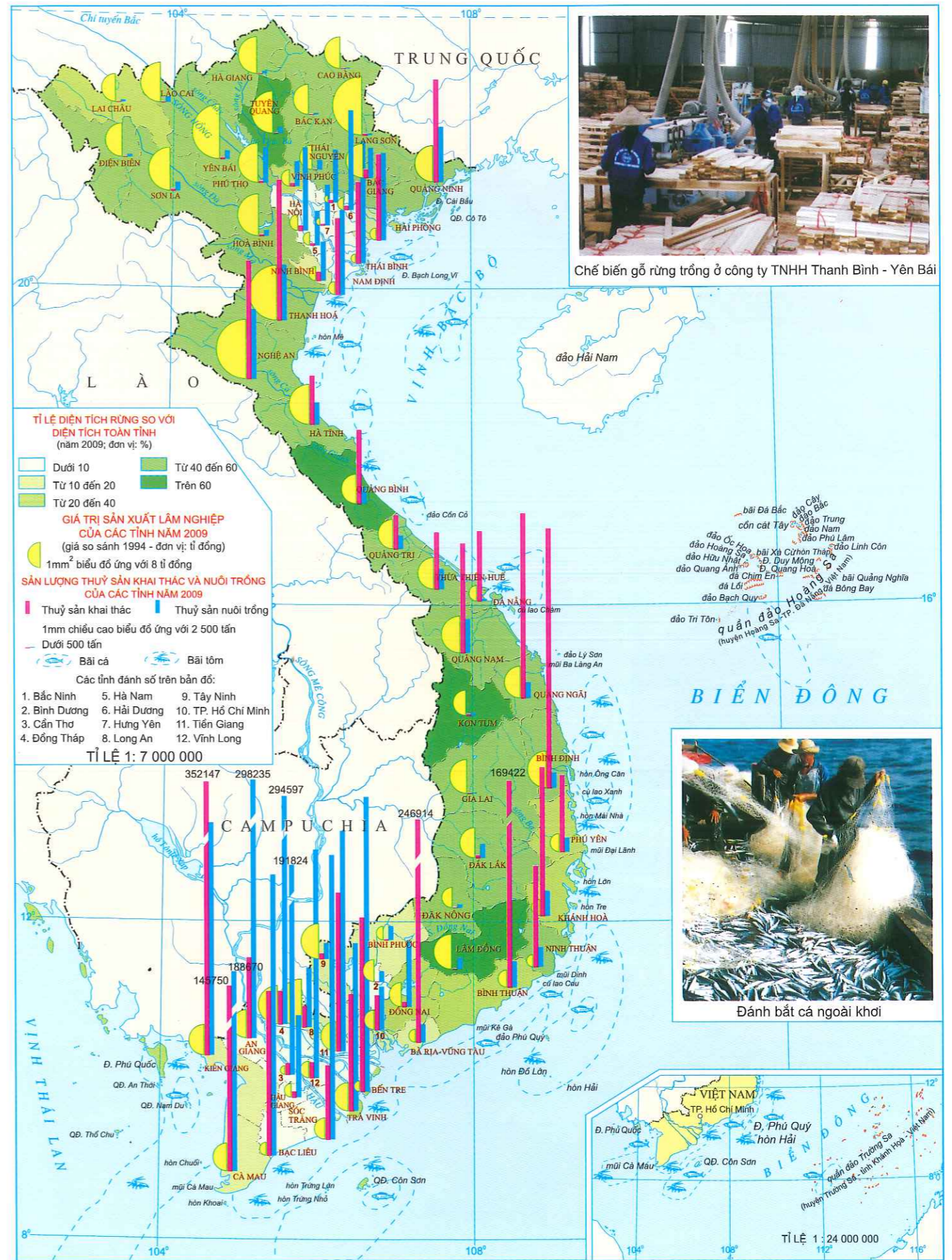
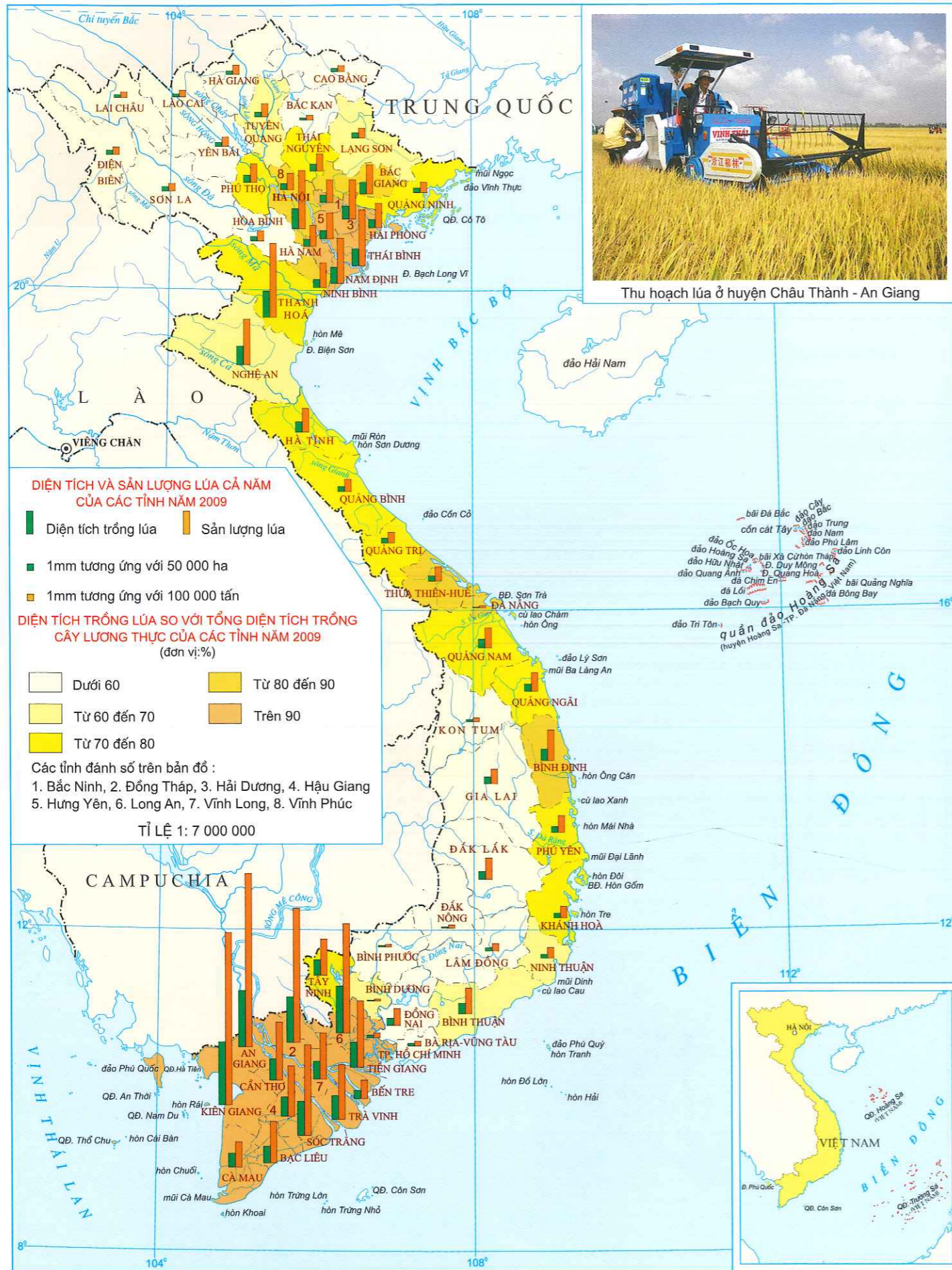
Người dân Khmer (Kơ-me) làm đất cấy lúa nước bằng cày bừa đôi



? Sự khác biệt về mức độ phát triển kinh tế ở các vùng được thể hiện như thế nào qua bản đồ?

? Dựa vào bản đồ, hãy chỉ ra sự khác biệt của hoạt động nông nghiệp ở đồng bằng và miền núi.

? Kể tên các vùng nông nghiệp có cà phê là sản phẩm chuyên môn hóa của vùng.

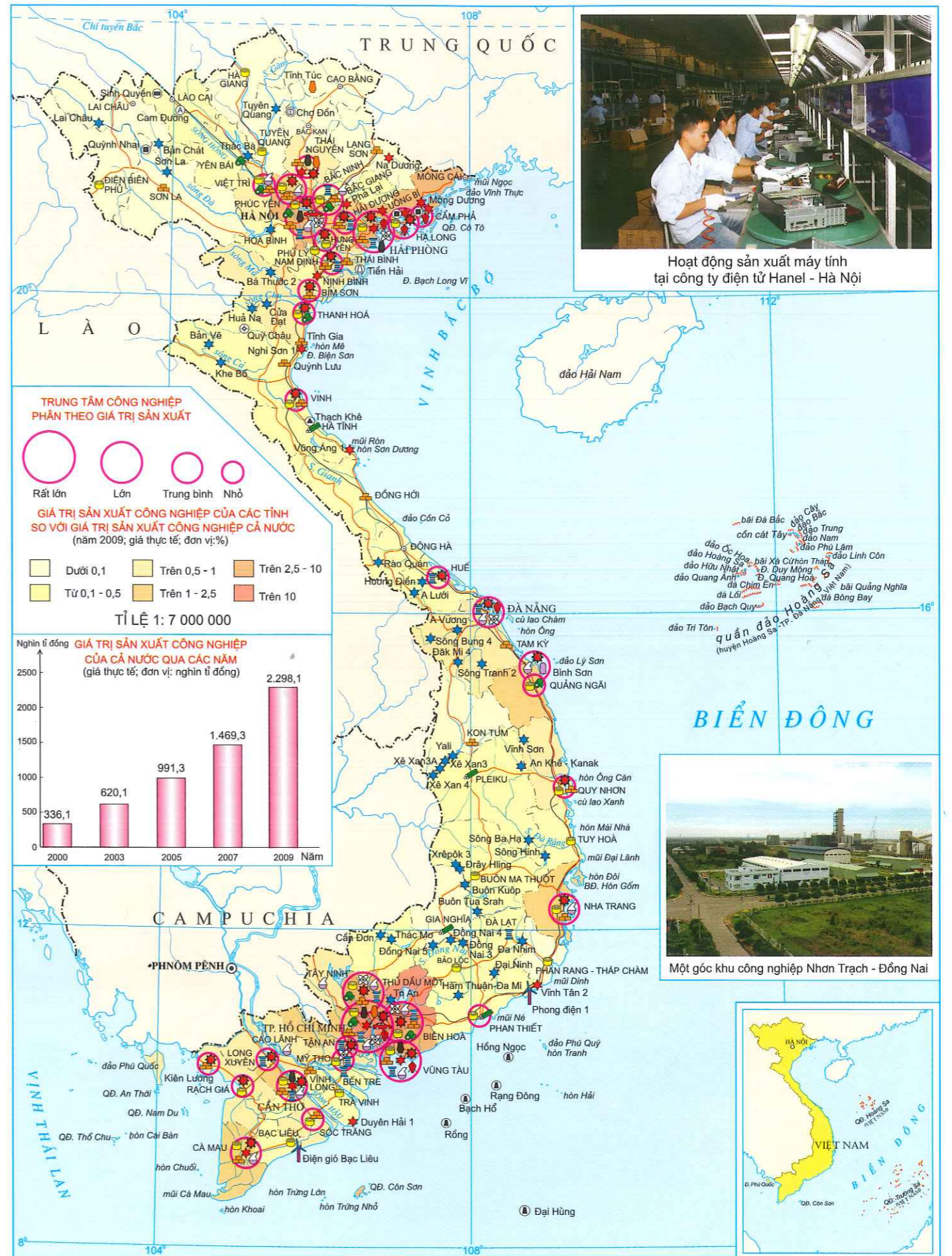


10 ? Dựa vào bản đồ, hãy nêu những tỉnh có sản lượng lúa lớn của nước ta.

? So sánh diện tích trồng lúa của các tỉnh Đồng bằng sông Cửu Long và Tây Nguyên. Giải thích nguyên nhân.

? Hãy kể tên các tỉnh có diện tích rừng chiếm tỉ lệ trên 60% so với diện tích toàn tỉnh.

? Hãy nêu các tỉnh có sản lượng thủy sản đánh bắt nhiều nhất, các tỉnh có sản lượng thủy sản nuôi trồng nhiều nhất.



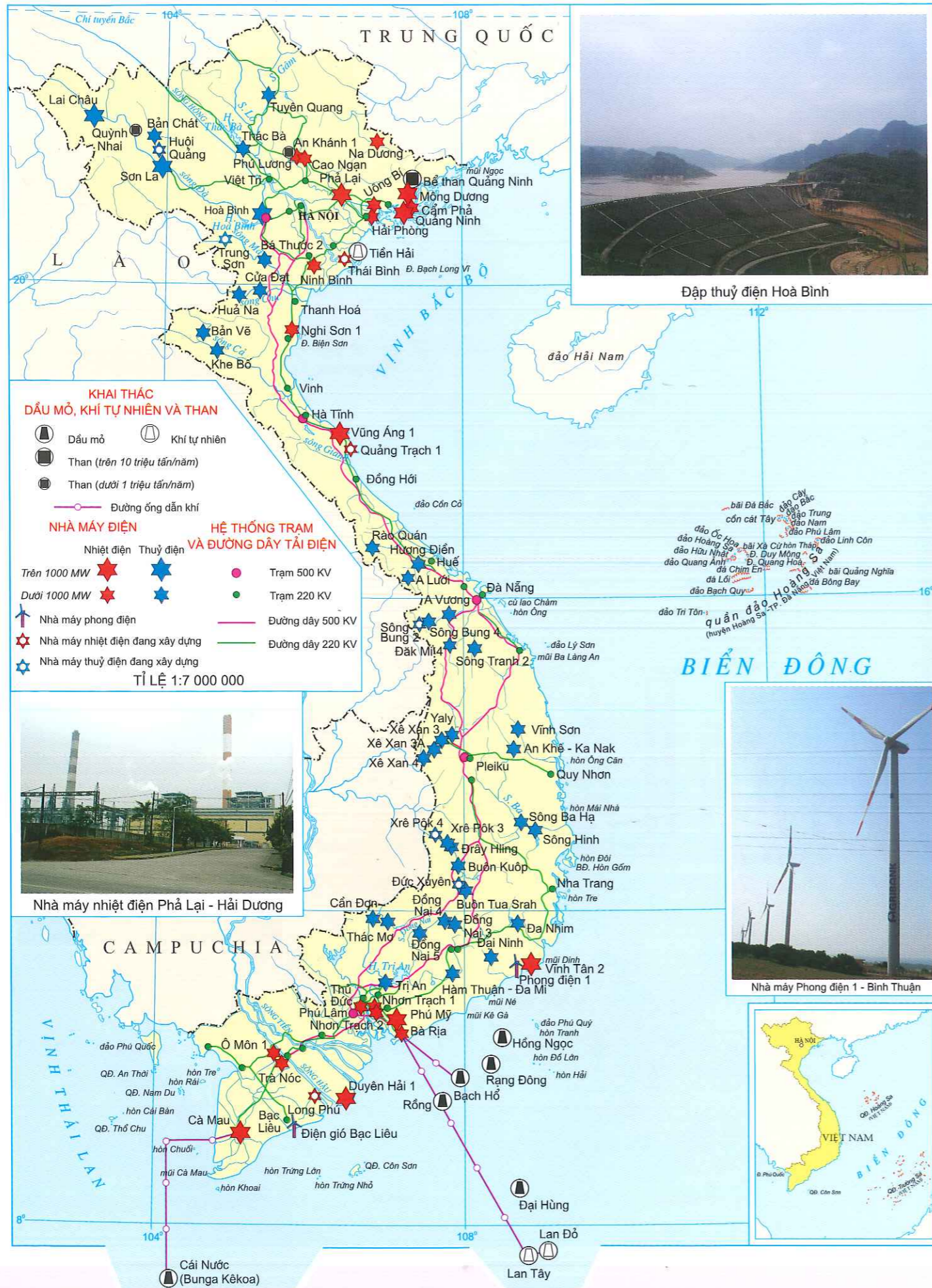
❓ Dựa vào bản đồ, hãy nhận xét đặc điểm địa lí nguồn tài nguyên khoáng sản của nước ta.

❓ Tại sao Đông Nam Bộ và Đồng bằng sông Hồng lại là các khu vực tập trung công nghiệp lớn nhất cả nước ?

12 ❓ Dựa vào bản đồ, hãy xác định địa bàn phân bố của các khoáng sản có trữ lượng lớn: dầu mỏ, than đá, apatit, sắt, bôxít.

❓ Hãy kể tên các trung tâm công nghiệp rất lớn và các trung tâm công nghiệp lớn của nước ta.

CÔNG NGHIỆP NĂNG LƯỢNG

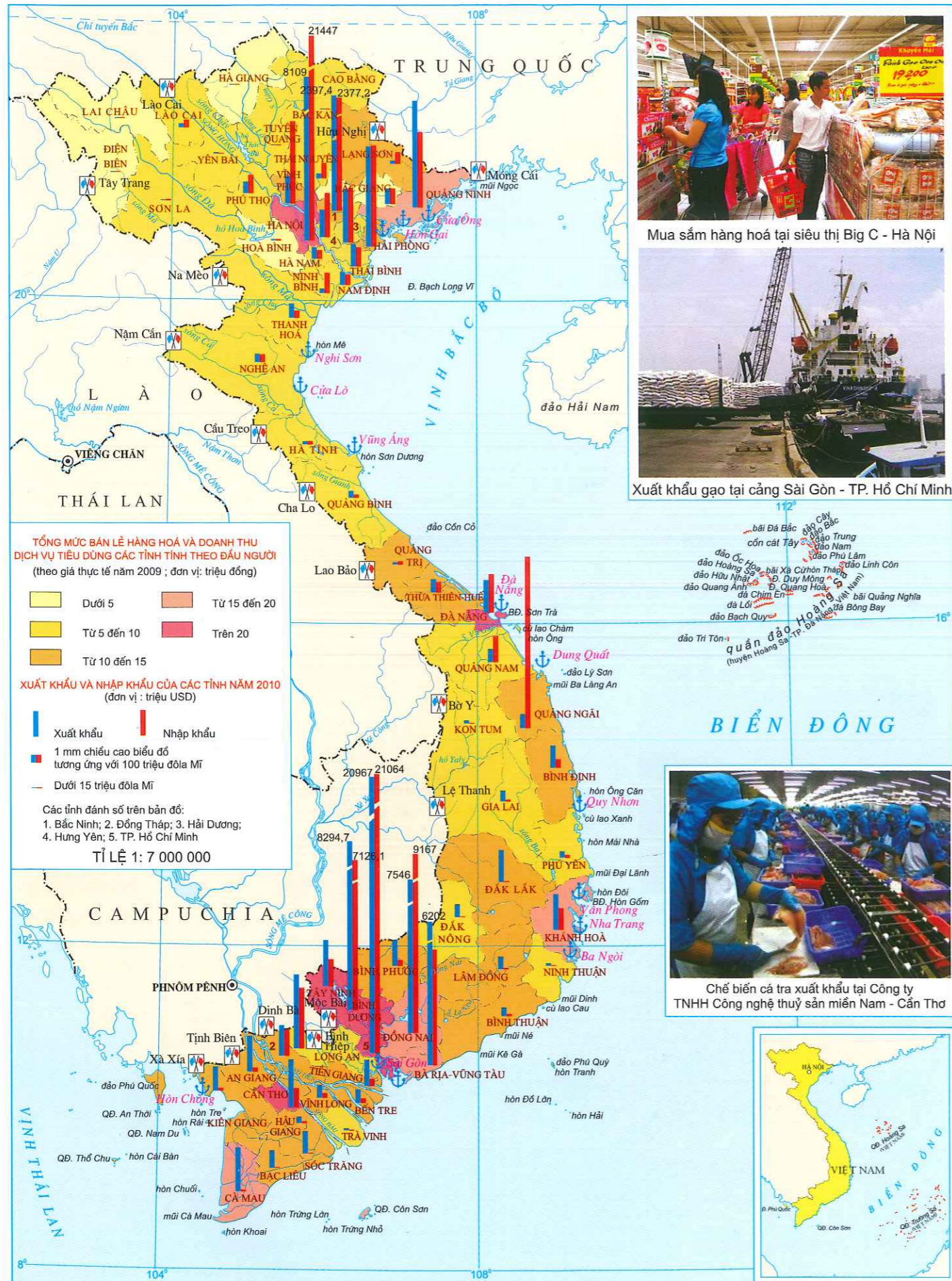


14 ? Dựa vào bản đồ, hãy trình bày sự phân bố của các nhà máy thủy điện. Giải thích nguyên nhân của sự phân bố đó.
 ? Dựa vào bản đồ, hãy trình bày sự phân bố của các nhà máy nhiệt điện. Giải thích nguyên nhân của sự phân bố đó.

GIAO THÔNG



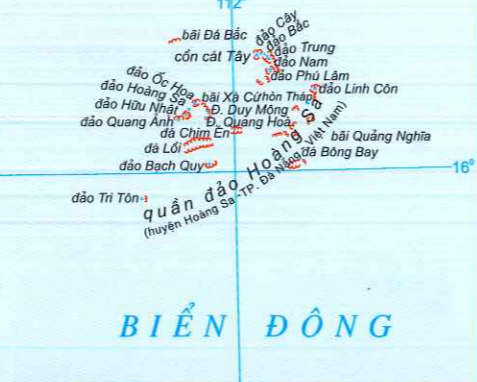
15 ? Hãy xác định các tỉnh, thành phố có sân bay quốc tế ở nước ta.
 ? Hãy kể tên các tỉnh, thành phố có đường quốc lộ dài nhất nước ta chạy qua.



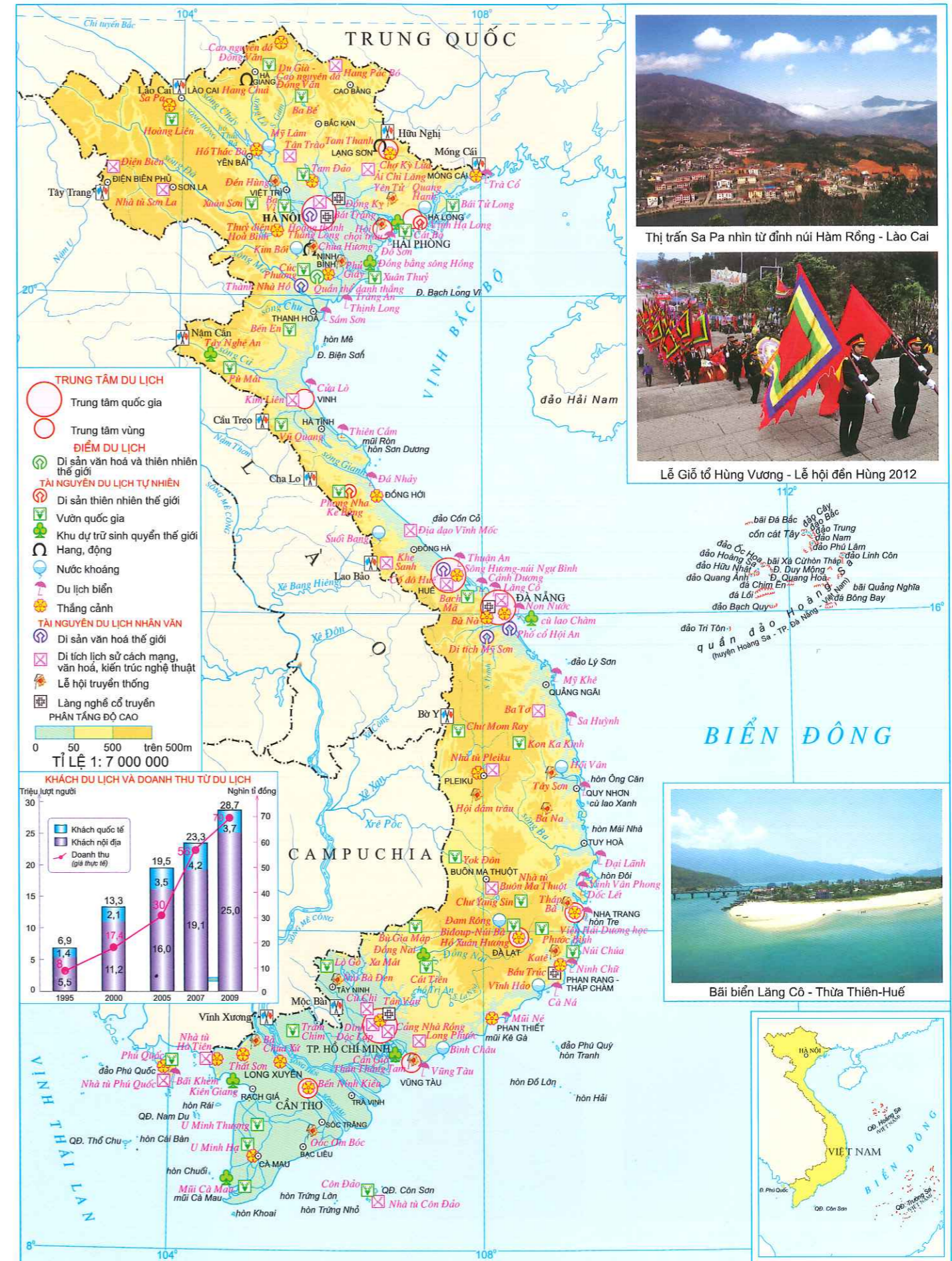
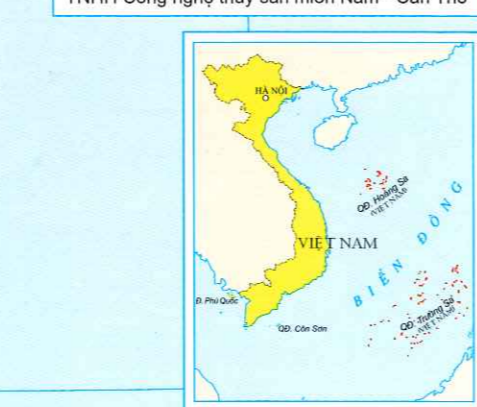
Mua sắm hàng hoá tại siêu thị Big C - Hà Nội



Xuất khẩu gạo tại cảng Sài Gòn - TP. Hồ Chí Minh




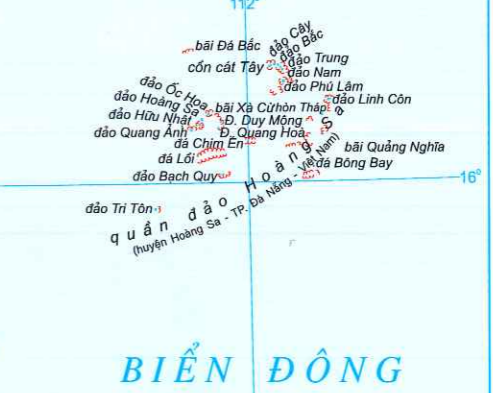
Chế biến cá tra xuất khẩu tại Công ty TNHH Công nghệ thủy sản miền Nam - Cần Thơ



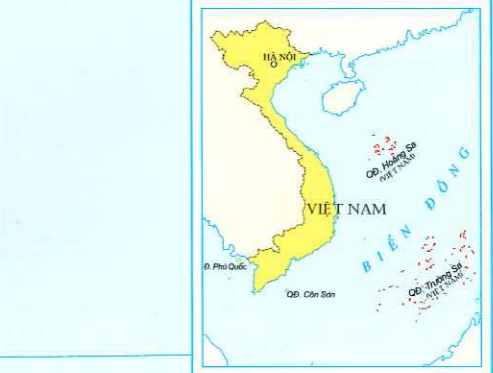
Thị trấn Sa Pa nhìn từ đỉnh núi Hàm Rồng - Lào Cai



Lễ Giỗ tổ Hùng Vương - Lễ hội đền Hùng 2012



Bãi biển Lăng Cô - Thừa Thiên-Huế



16 ? Hãy xác định các tỉnh có kim ngạch xuất khẩu và nhập khẩu lớn ở nước ta.
? Dựa vào bản đồ, hãy nhận xét hoạt động ngoại thương của nước ta.

? Hãy chỉ ra các trung tâm du lịch lớn của nước ta. Nếu các thế mạnh về tài nguyên để phát triển du lịch của các trung tâm này.
? Hãy kể tên các di sản thiên nhiên thế giới và các di sản văn hóa thế giới của nước ta.



Đi thuyền độc mộc trên hồ Ba Bể - Bắc Kạn



Núi đồi ở Quần Bạ - Hà Giang



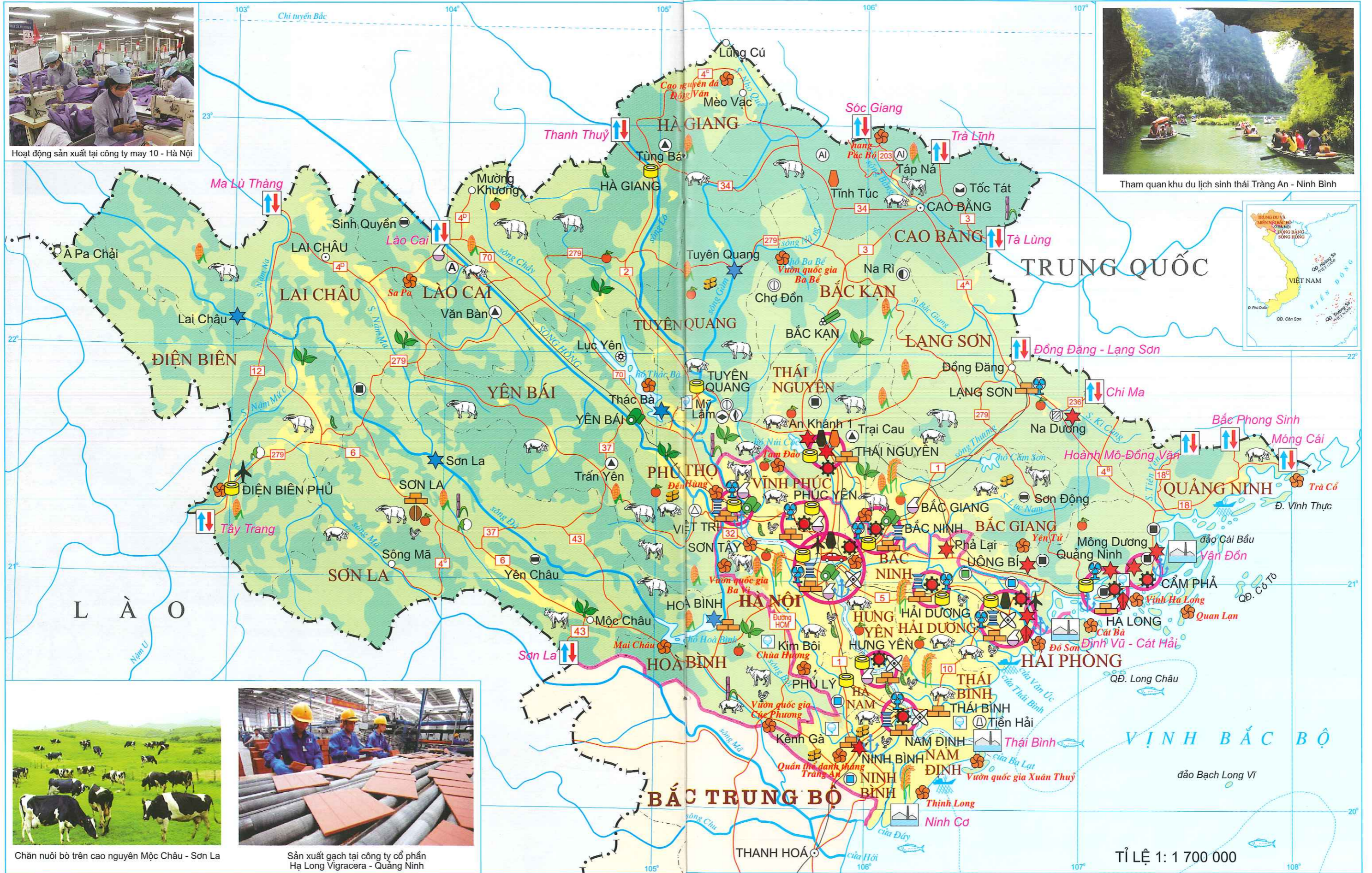
Dãy Hoàng Liên Sơn nhìn từ đỉnh Phanxipăng



Vịnh Hạ Long - Quảng Ninh, một trong 7 kì quan thiên nhiên mới của thế giới

18 ? Hãy nêu sự khác biệt về đặc điểm địa hình giữa hai tiểu vùng Tây Bắc và Đông Bắc của Trung du và miền núi Bắc Bộ.
 ? Dựa vào bản đồ, hãy phân tích thế mạnh về khai thác khoáng sản của Trung du và miền núi Bắc Bộ.

? Hãy nêu tên những tỉnh của Đồng bằng sông Hồng giáp biển.
 ? Hãy kể tên các Vườn quốc gia và Khu dự trữ sinh quyển thế giới của vùng Đồng bằng sông Hồng.



Hoạt động sản xuất tại công ty may 10 - Hà Nội



Tham quan khu du lịch sinh thái Tràng An - Ninh Bình



Chăn nuôi bò trên cao nguyên Mộc Châu - Sơn La



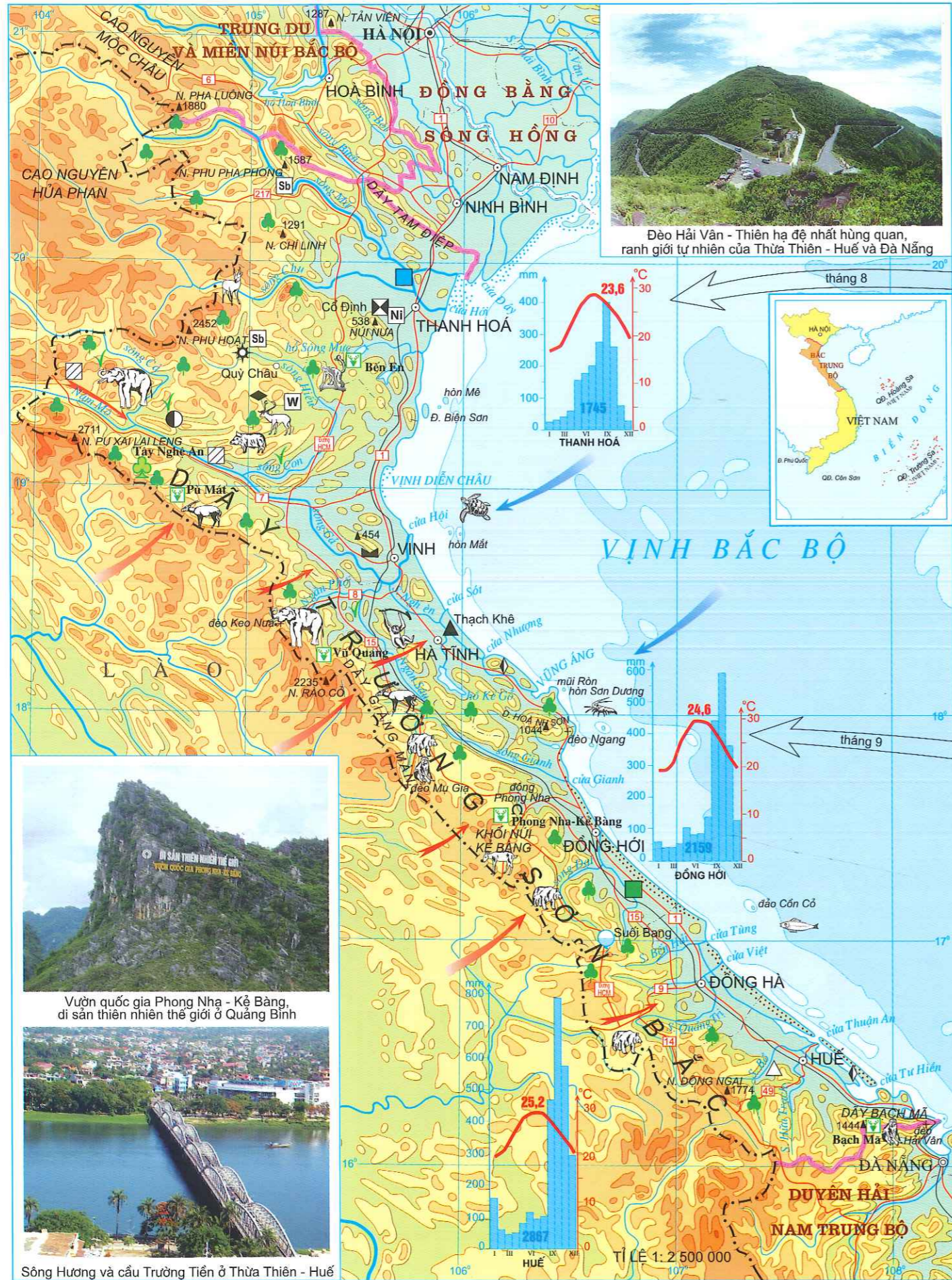
Sản xuất gạch tại công ty cổ phần Hạ Long Vigracera - Quảng Ninh

? Chè được trồng nhiều ở những tỉnh nào của vùng Trung du và miền núi Bắc Bộ?

? Hãy kể tên các khu kinh tế cửa khẩu của các tỉnh vùng Trung du và miền núi Bắc Bộ.

? Hãy xếp theo độ lớn các trung tâm công nghiệp của các tỉnh Đồng bằng sông Hồng và kể tên các ngành trong mỗi trung tâm.

? Dựa vào bản đồ, hãy kể tên một số điểm du lịch nổi tiếng của vùng Đồng bằng sông Hồng.



? Hãy kể tên các tỉnh và nêu vị trí địa lí, giới hạn lãnh thổ của vùng Bắc Trung Bộ.

? Dựa vào bản đồ, hãy xác định vị trí các quốc lộ 7, 8, 9 và nêu tầm quan trọng của các tuyến đường này.

? Phân tích ý nghĩa của hệ thống cảng biển ở Bắc Trung Bộ đối với sự phát triển kinh tế - xã hội của vùng.

? Trong các khu kinh tế cửa khẩu của vùng, những khu kinh tế cửa khẩu nào đang hoạt động có hiệu quả?



Cao nguyên Lâm Viên nhìn từ đỉnh Lang Biang



Chùa Cầu - một điểm tham quan của du khách khi đến với Hội An - Quảng Nam

24 ? Hãy kể tên các vịnh nổi tiếng (có gắn với tên tỉnh) của vùng Duyên hải Nam Trung Bộ.

? Dựa vào bản đồ, hãy nêu tên các cao nguyên lớn ở Tây Nguyên.

? Tại sao Duyên hải Nam Trung Bộ lại có thể mạnh đặc biệt là khai thác kinh tế biển?

? Kể tên và nêu vùng phân bố của những cây công nghiệp quan trọng nhất của Tây Nguyên.



Sếu đầu đỏ - loài chim quý hiếm của Vườn quốc gia Tràm Chim - Đồng Tháp



Một góc rừng ngập mặn Cần Giờ - TP. Hồ Chí Minh



Mũi Cà Mau - điểm cực Nam trên đất liền của Tổ quốc



Núi Bà Đen - ngọn núi cao nhất Nam Bộ, một điểm du lịch nổi tiếng ở tỉnh Tây Ninh



Rừng cao su nông trường Phú Riêng ở Bù Gia Mập - Bình Phước



Nhà máy đạm Phú Mỹ ở Bà Rịa - Vũng Tàu



Chợ nổi Cái Răng - Cần Thơ



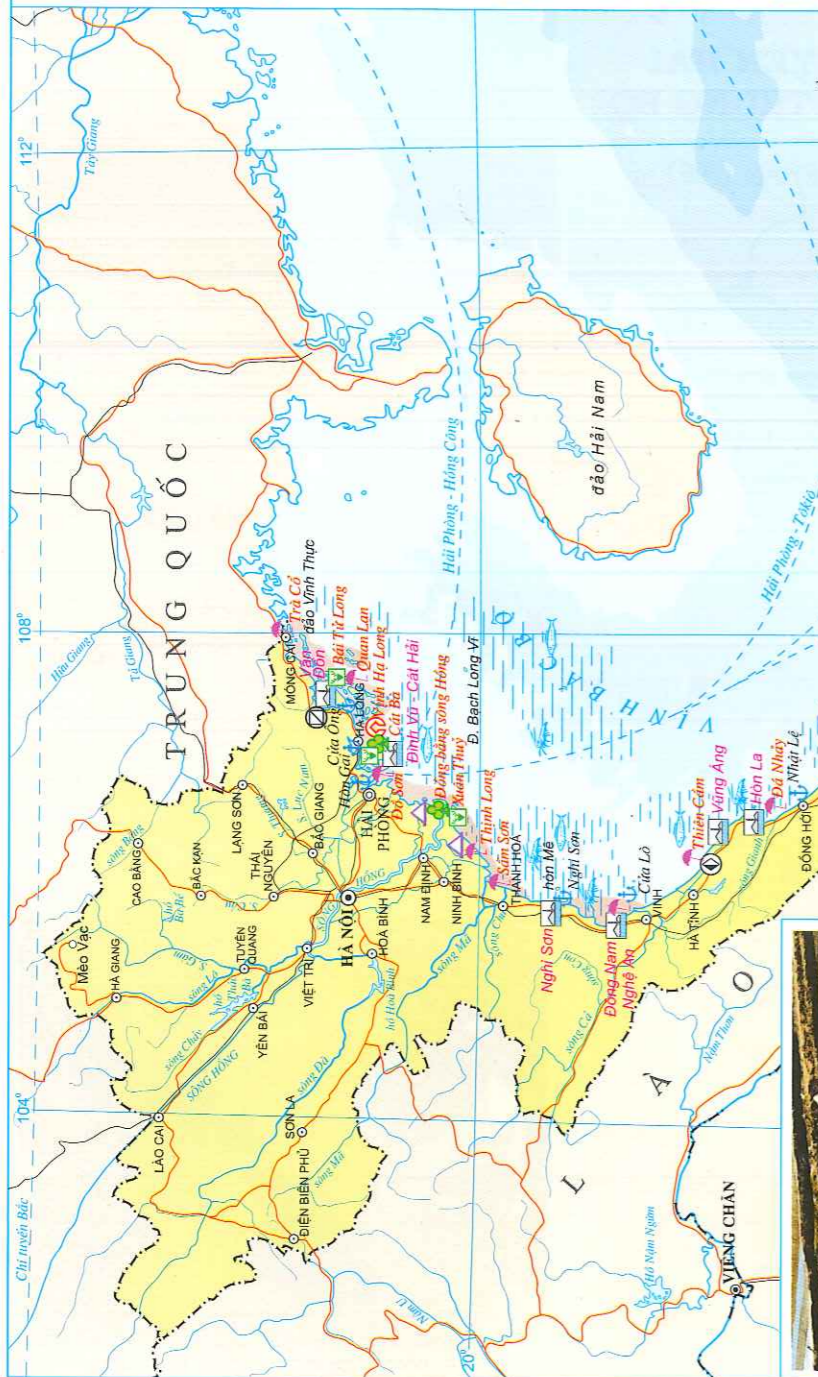

Cầu Cần Thơ - Cây cầu dây văng dài nhất Đông Nam Á nổi hai bờ sông Hậu



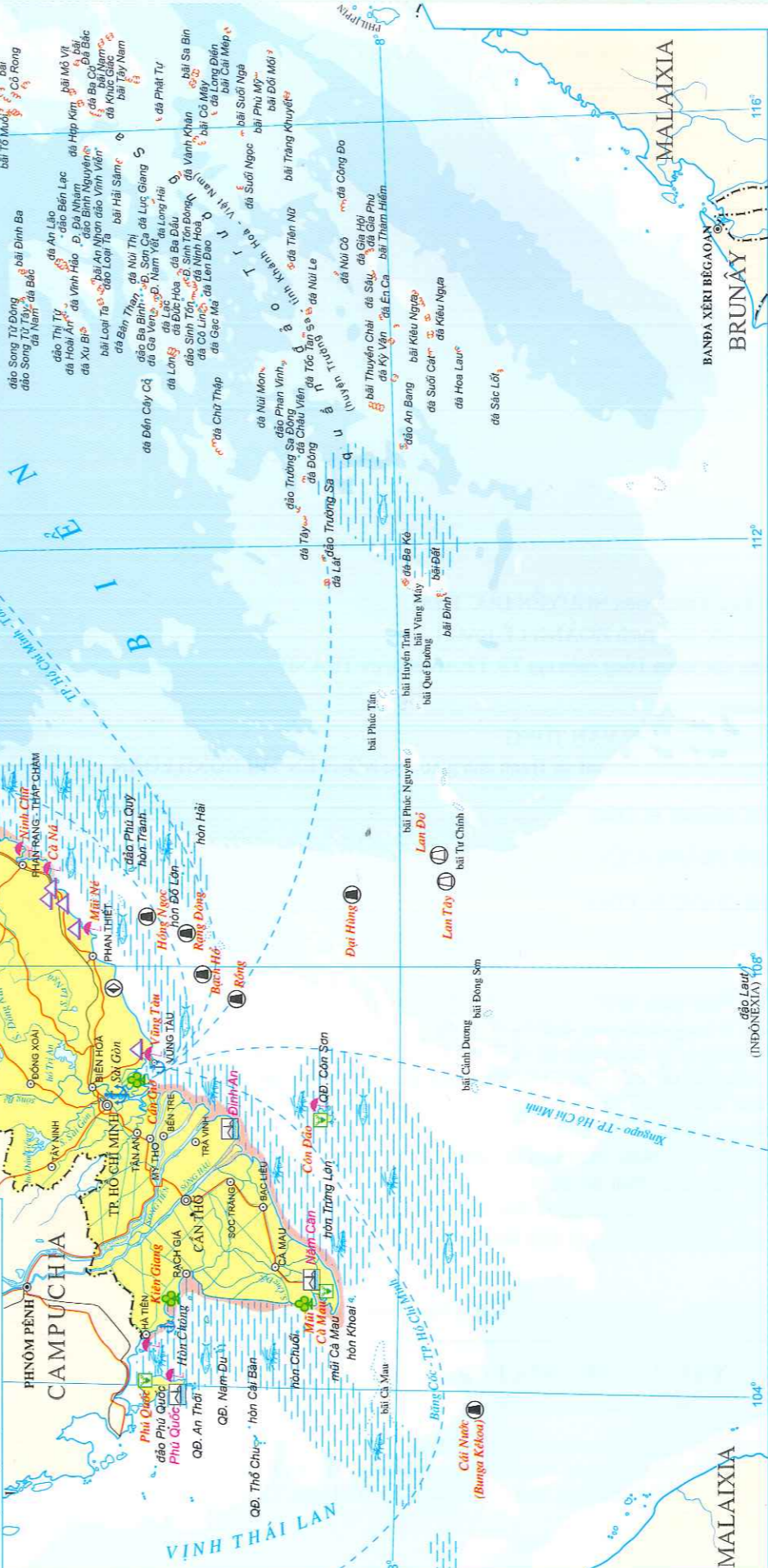
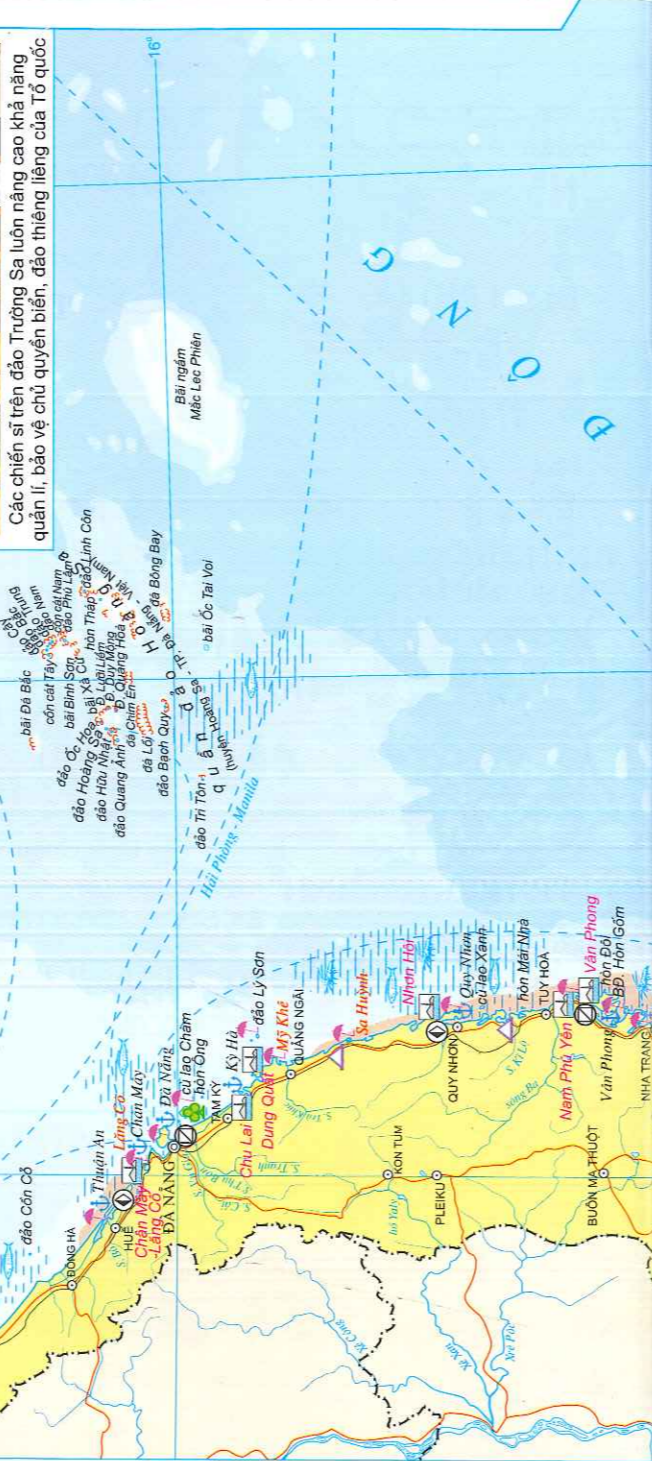
Dây chuyền lắp ráp động cơ và cabin xe tải 3,5 tấn tại công ty Hyundai - TP. Hồ Chí Minh



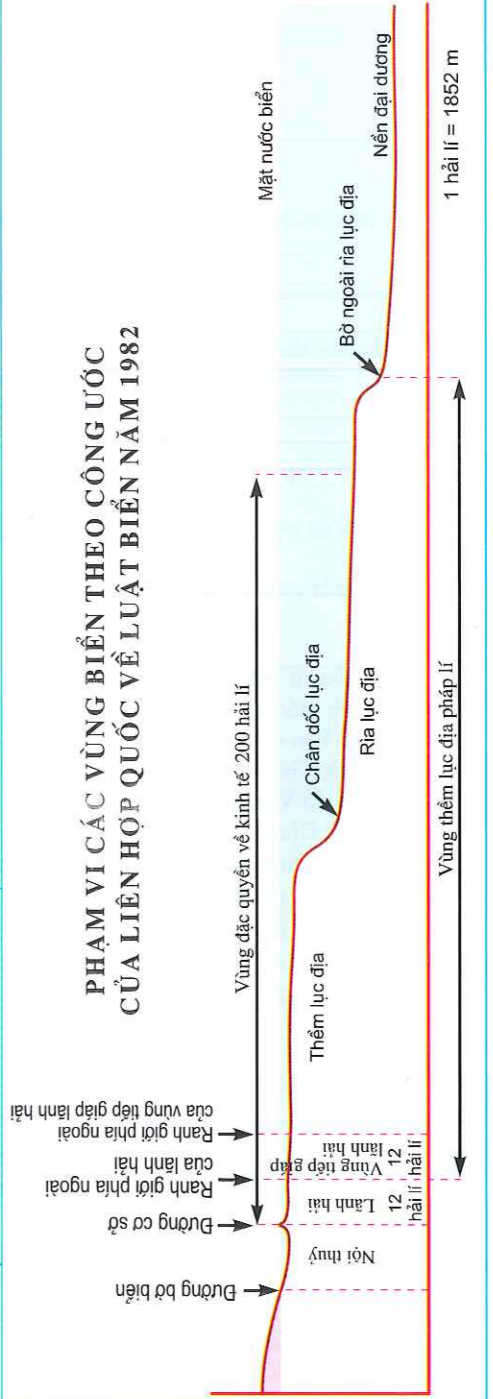
TỈ LỆ 1: 1 700 000



Nhà thùng sản xuất nước mắm của công ty Hưng Thịnh ở Phú Quốc - Kiên Giang



PHẠM VI CÁC VÙNG BIỂN THEO CÔNG ƯỚC CỦA LIÊN HỢP QUỐC VỀ LỤT BIỂN NĂM 1982



KHAI THÁC NGUỒN LỢI SINH VẬT BIỂN

- Ngư trường
- Cá biển
- Vùng có tiềm năng nuôi trồng hải sản
- Tôm biển

KHAI THÁC TÀI NGUYÊN DU LỊCH BIỂN - ĐẢO

- Di sản thiên nhiên thế giới
- Vườn quốc gia
- Khu dự trữ sinh quyển thế giới
- Du lịch biển

KHAI THÁC GIAO THÔNG VẬN TẢI BIỂN

- Hải cảng
- Đường biển

TỶ LỆ 1 : 6 500 000

PHÂN TĂNG ĐỘ SÂU: 0, 50, 200, Thềm 2000 m

30 ? Kể tên các Vườn quốc gia và các Khu dự trữ sinh quyển thế giới thuộc các đảo và quần đảo nước ta.
 ? Tại sao nói, nước ta có tiềm năng to lớn để phát triển nhiều ngành kinh tế biển ?

? Dựa vào bản đồ, hãy kể tên một số khu du lịch biển nổi tiếng của nước ta.
 ? Trình bày tiềm năng và sự phát triển của hoạt động khai thác dầu khí ở nước ta.