

BÀI 11

DÂN CƯ VÀ ĐẶC ĐIỂM KINH TẾ KHU VỰC NAM Á



NỘI DUNG BÀI HỌC

1

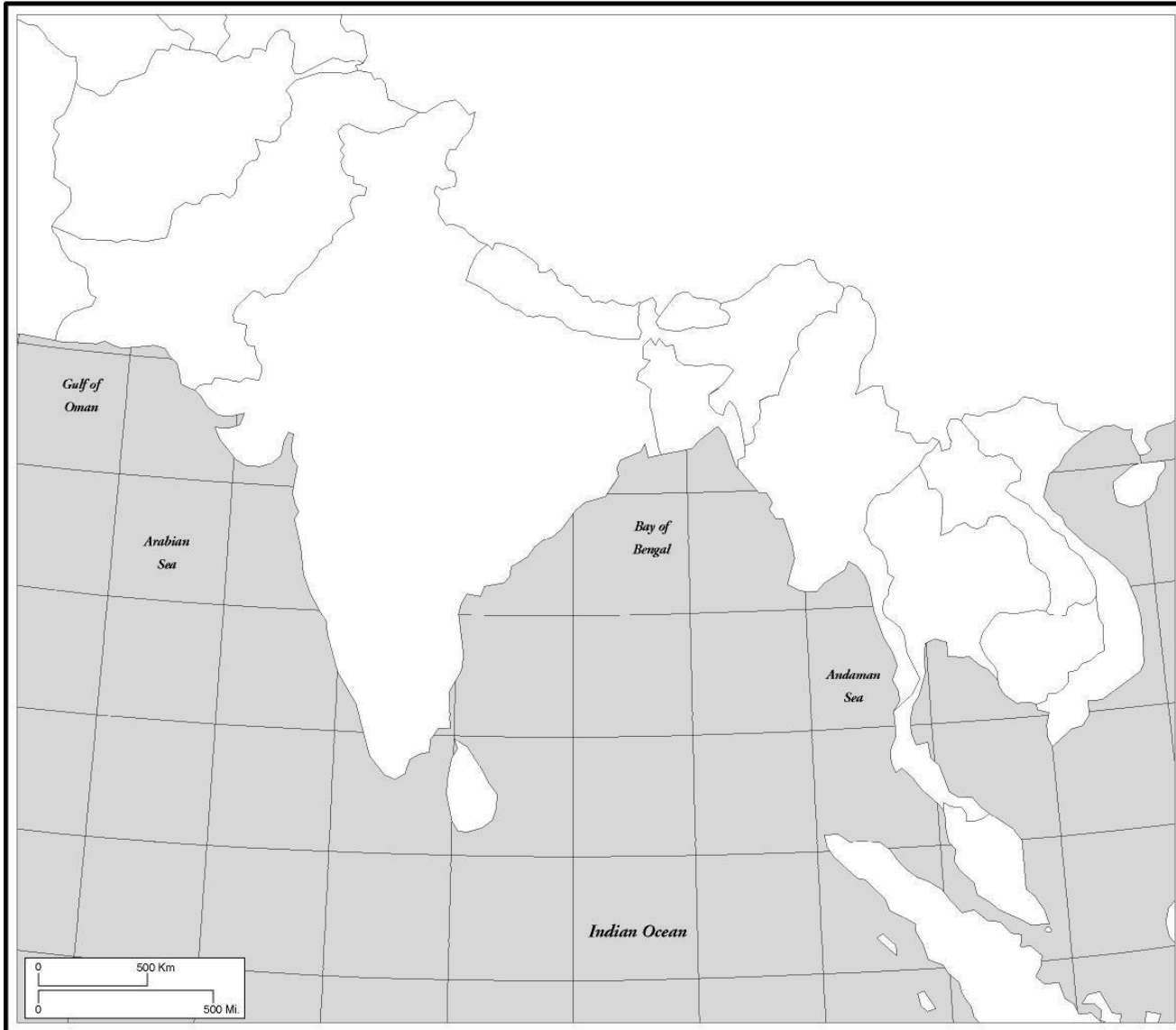
Dân cư

2

Đặc điểm kinh tế-xã hội

PHIẾU HỌC TẬP

SOUTH ASIA



1/Ấn Độ

a/ 827 750

2/Pakistan

b/ 29 996 397

3/ Maldives

c/ 168 360 049

4/Nepal

d/ 21 029 447

5/Buhtan

e/ 1 371 157 268

6/Srilanka

f/ 205 234 398

7/Bangladesh

g/ 452 913

*** Khu vực Nam Á
gồm 7 quốc gia:**

- Ấn Độ
- Pa-ki-xtan
- Băng-la-đét
- Nê-pan
- Bu-tan
- Xri Lan-ca
- Man-đi-vơ



Bản đồ hành chính các nước Nam Á

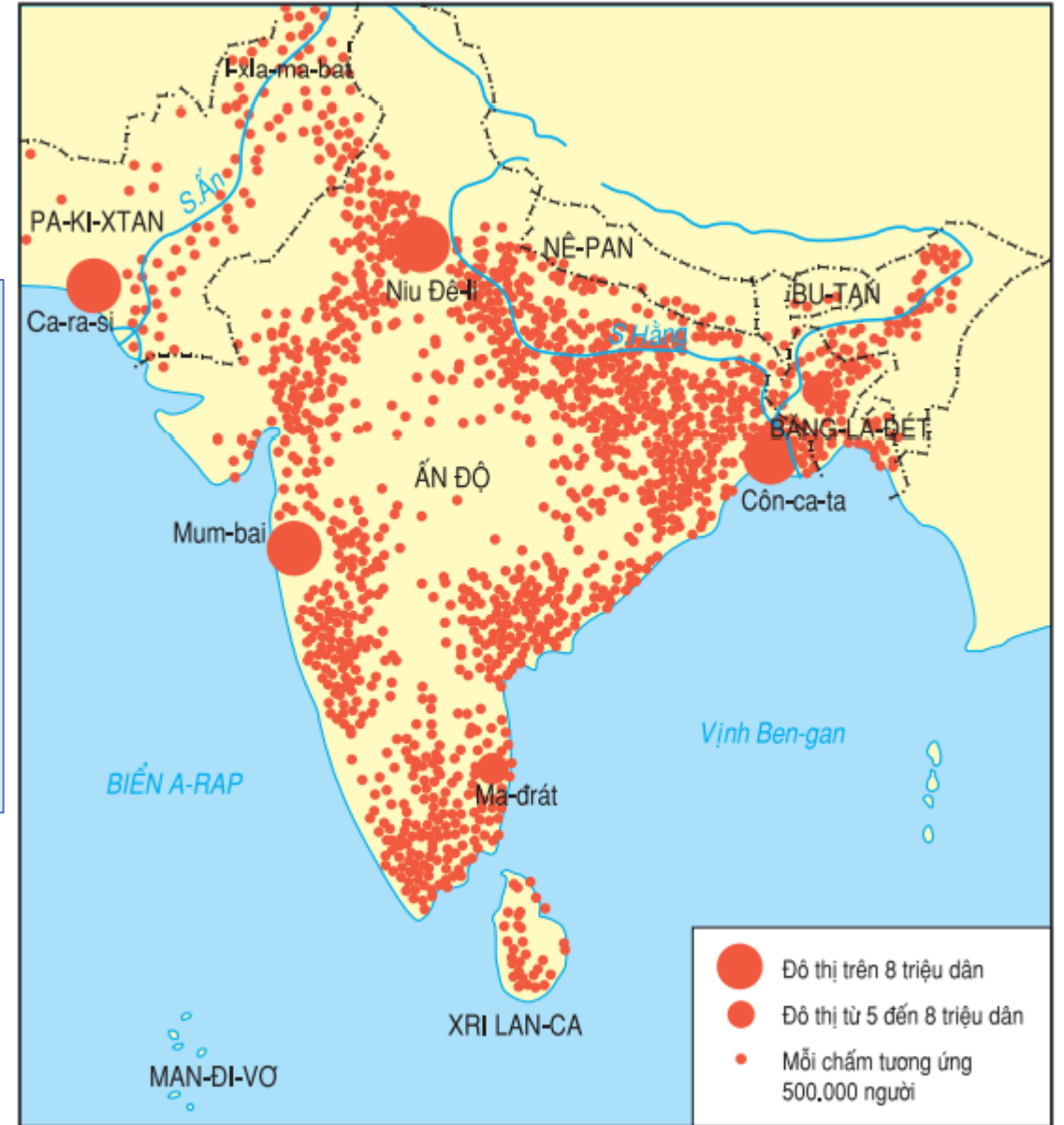
1

Dân cư

THẢO LUẬN NHÓM 4

04

- ✓ Đọc lược đồ phân bố dân cư Nam Á, xác định các khu vực đông dân và thưa dân?
- ✓ Dựa vào bảng 11.1, so sánh dân số của Nam Á với khu vực khác. Tính nhanh mật độ dân số và so sánh?
- ✓ Cho biết, tôn giáo chính của khu vực là gì?



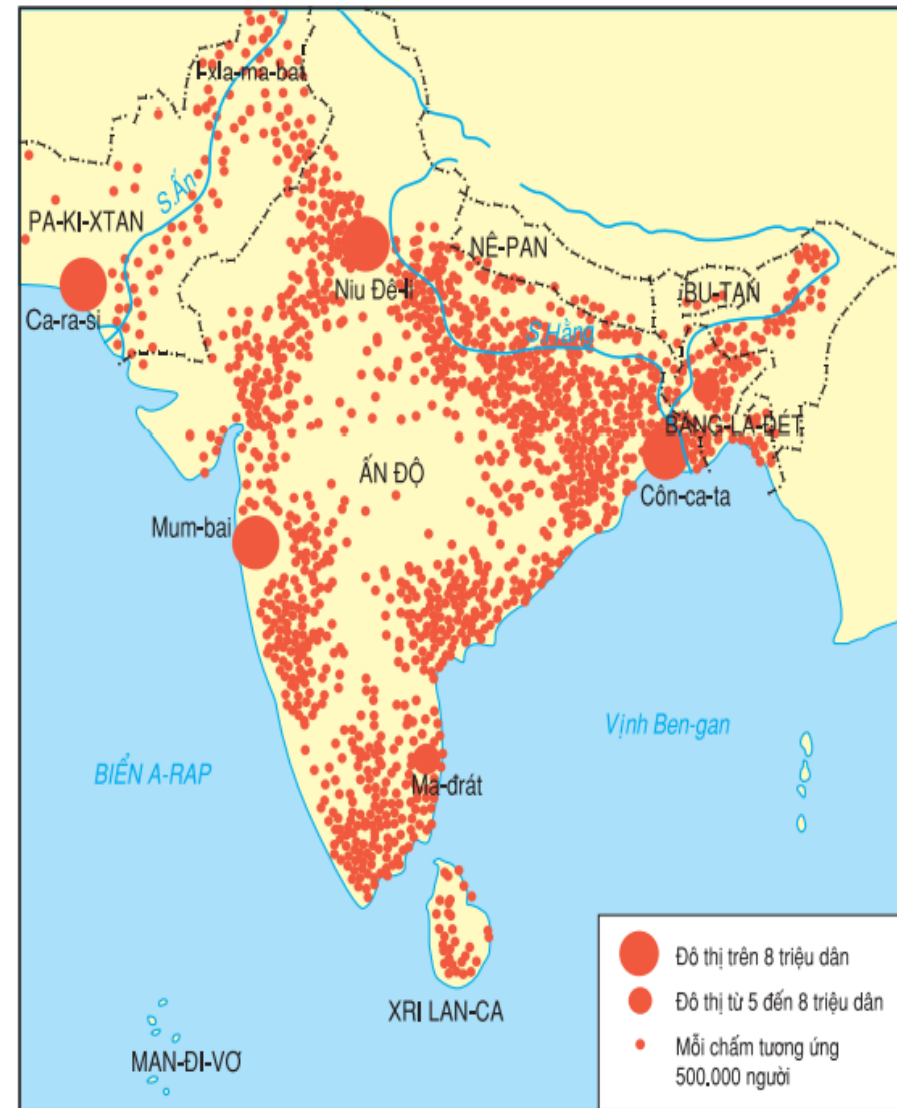
Hình 11.1. Lược đồ phân bố dân cư Nam Á

Phiếu học tập

Quan sát lược đồ bên và SGK rút ra nhận xét ngắn gọn về phân bố dân cư, tôn giáo Nam Á:

- Mật độ dân số:
- Phân bố dân cư:
- + Khu vực đông dân:
- + Khu vực thưa dân:
- + Siêu đô thị:
- + Tôn giáo:

Khu vực	Diện tích (nghìn km ²)	Số dân (triệu người)		Mật độ dân số Năm 2017 (người/km ²)
		Năm 2001	Năm 2017	
Đông Á	11762	1503	1625	
Nam Á	4489	1356	1885	
Đông Nam Á	4495	519	644	
Trung Á	4002	56	71	
Tây Nam Á	7016	286	269	



Hình 11.1. Lược đồ phân bố dân cư Nam Á

1

Dân cư

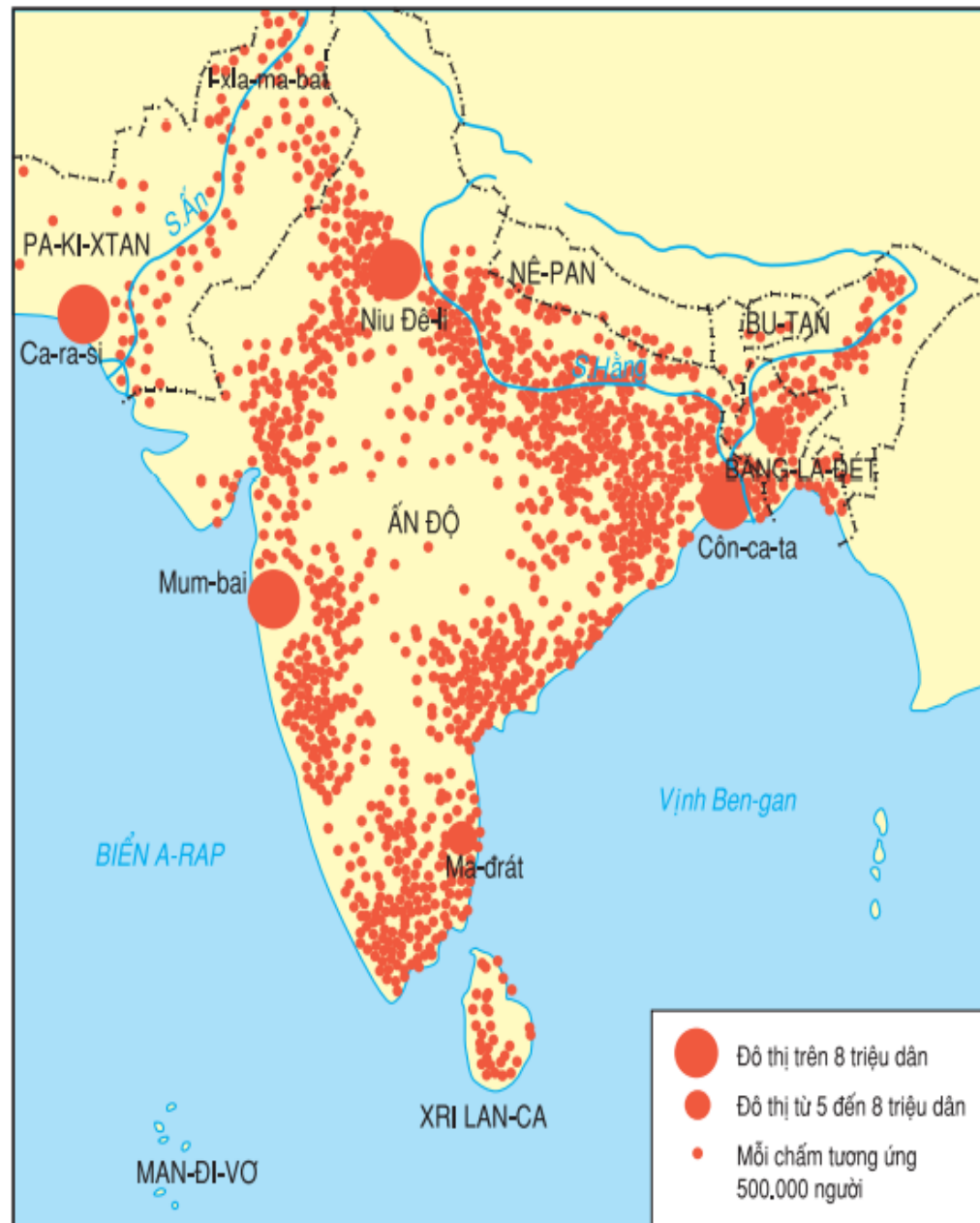
Khu vực	Diện tích (nghìn km ²)	Số dân (triệu người)		Mật độ dân số
		Năm 2001	Năm 2017	Năm 2017 (người/km ²)
Đông Á	11762	1503	1625	138
Nam Á	4489	1356	1885	419
Đông Nam Á	4495	519	644	143
Trung Á	4002	56	71	18
Tây Nam Á	7016	286	269	38

- ✓ Dân số cao thứ 2 Châu Á
- ✓ Mật độ dân số cao nhất Châu Á

1

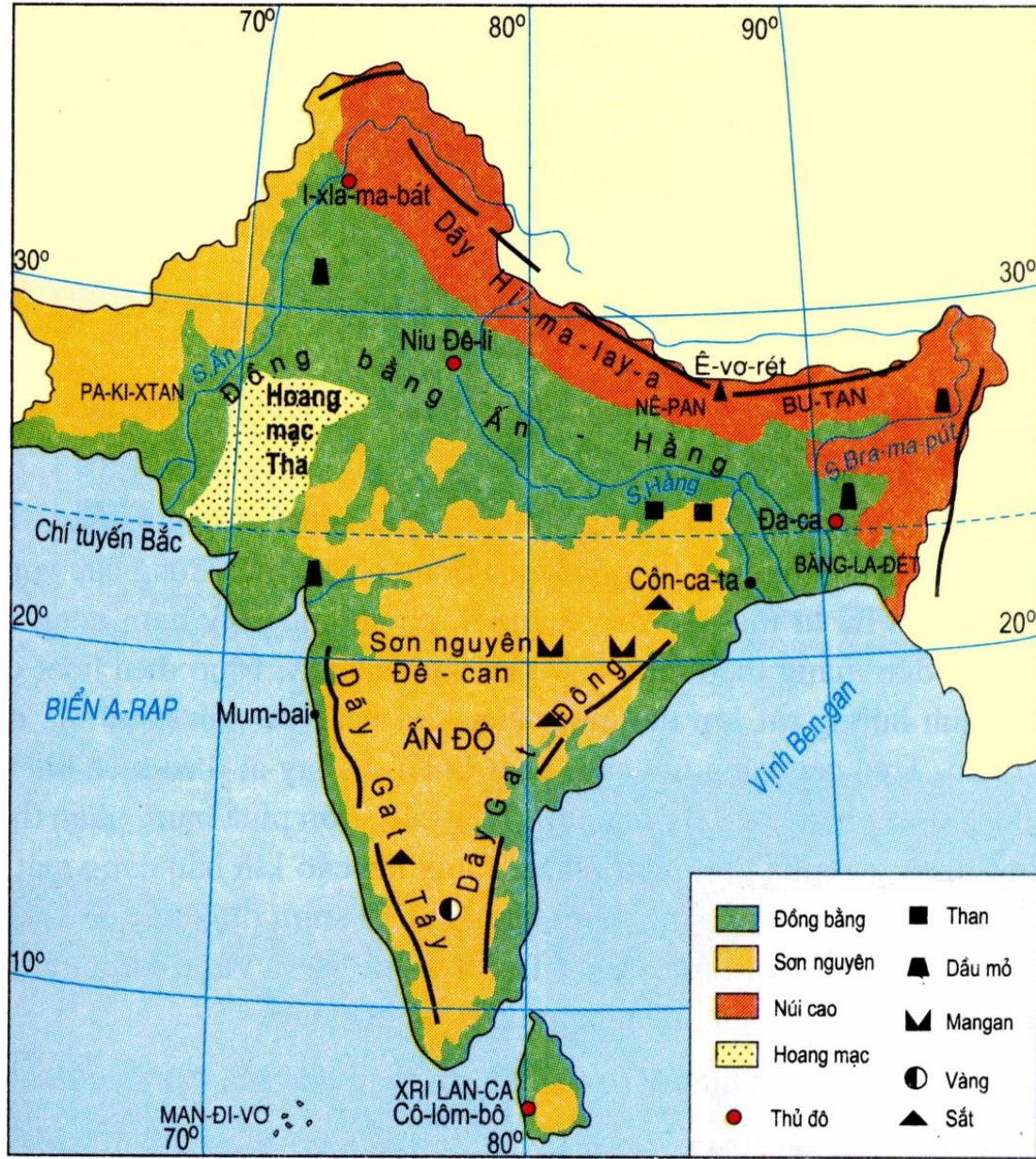
Dân cư

- ✓ Mật độ dân số cao nhất Châu Á
- ✓ Dân cư phân bố không đều, tập trung ven biển, cửa sông, đồng bằng

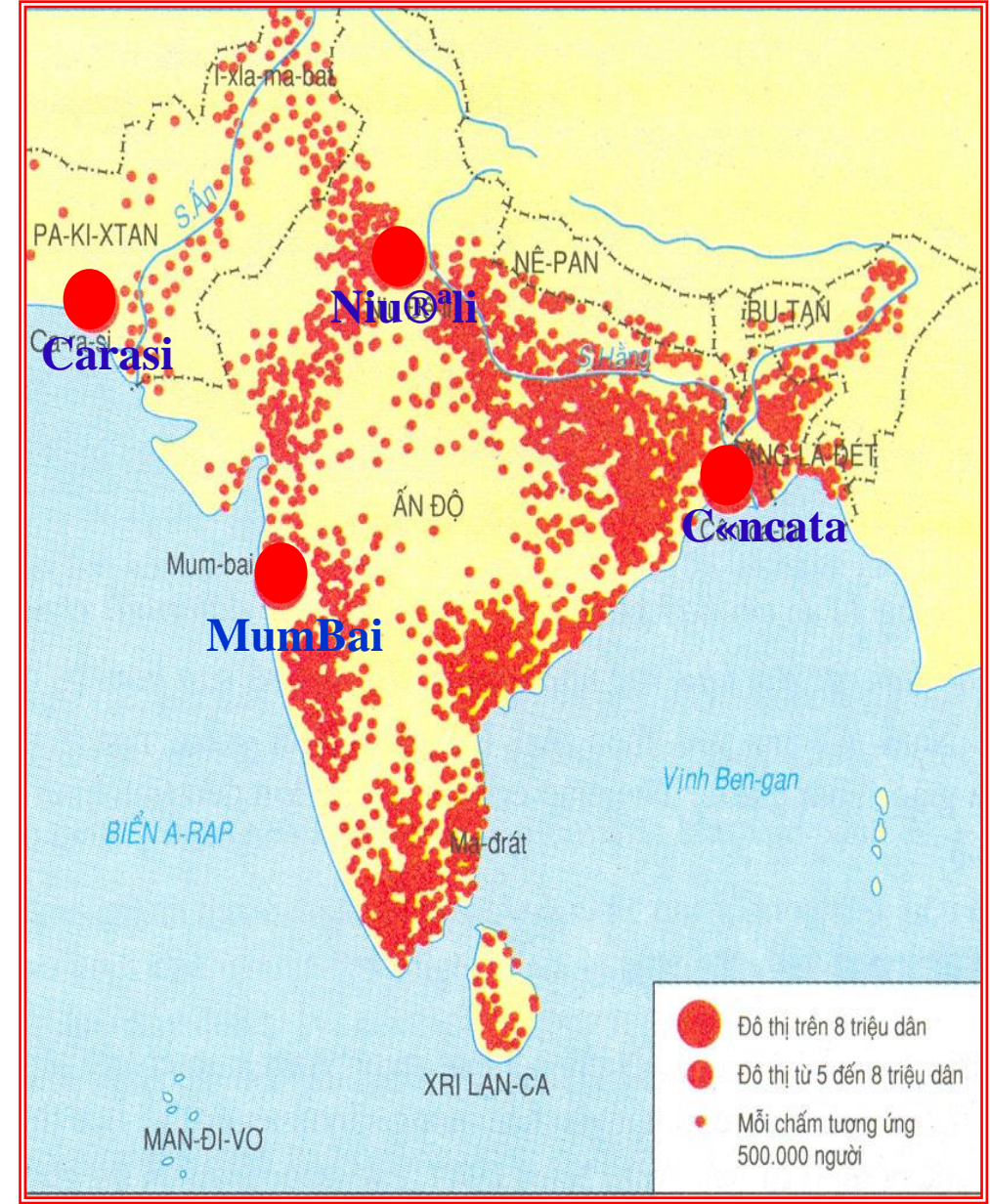


Hình 11.1. Lược đồ phân bố dân cư Nam Á

Các đô thị có trên 8 triệu dân

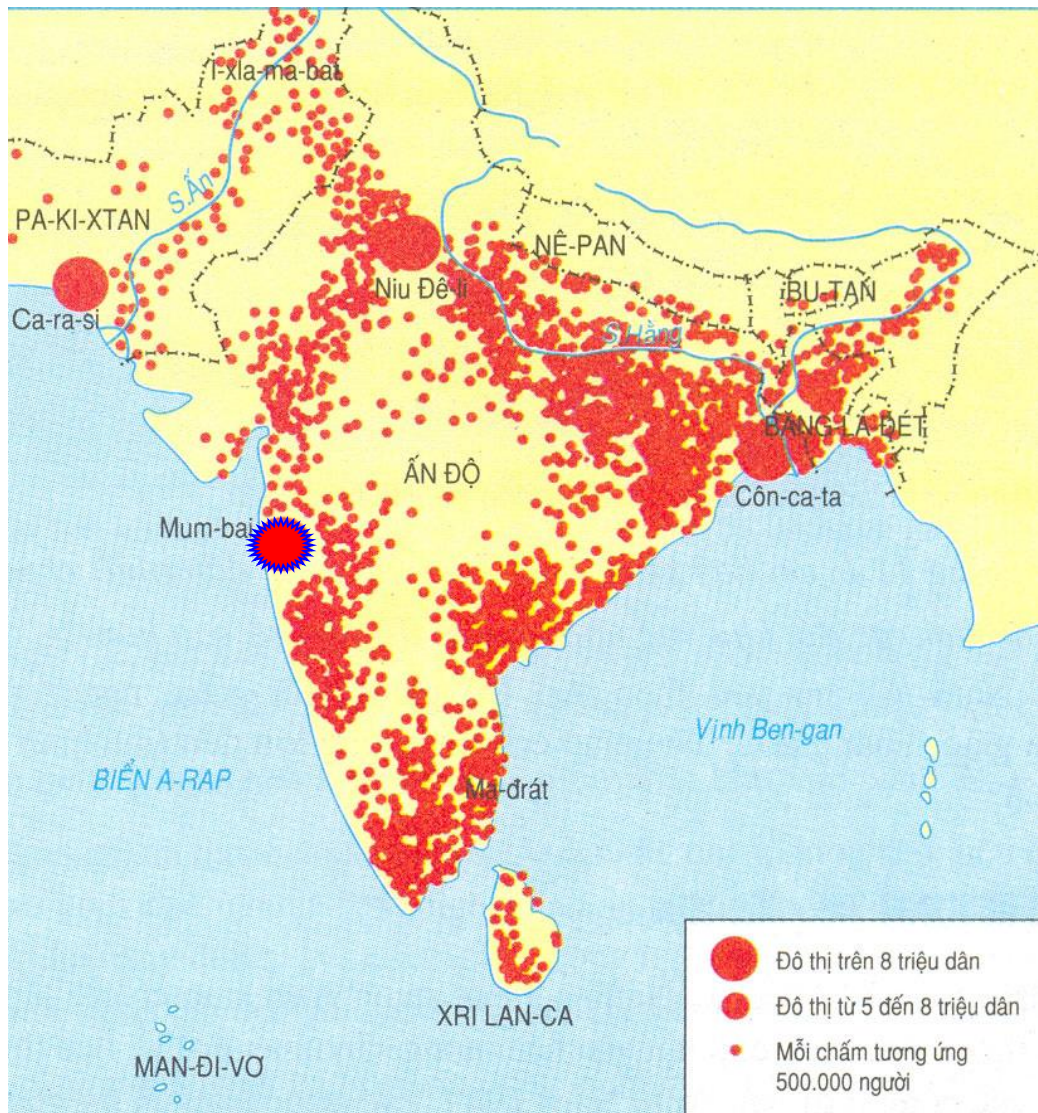


Hình 10.1. Lược đồ tự nhiên khu vực Nam Á



Hình 11.1 Lược đồ phân bố dân cư Nam Á

Các đô thị có trên 8 triệu dân



Hình 11.1 *Lược đồ phân bố dân cư Nam Á*



Thành phố Mum-bai (Ấn Độ)
Số dân: 20,6 triệu người (năm 2020)

1

Dân cư



Tôn giáo có ảnh hưởng như thế nào đến kinh tế xã hội ở khu vực Nam Á?

1

Dân cư

THẢO LUẬN NHÓM 4

Giải thích tại sao dân cư tập trung đông ở đồng bằng và ven biển?
Dân số quá đông ở Nam Á gây nên những tác động tiêu cực nào?



- ✓ Cá nhân suy nghĩ và trả lời trong giấy note thời gian 1 phút
- ✓ Nhóm thống nhất ý kiến vào bảng nhóm
- ✓ HS trả lời theo vòng tròn

1

Dân cư



- Khu vực đông dân thứ 2 ở châu Á, sau Đông Á
- Mật độ dân số cao, phân bố không đều. Dân cư tập trung đông vùng ven biển và đồng bằng Ấn Hằng.
- Các siêu đô thị như Mumbai, New Dehli, Calcutta, Karachi, Daska
- Dân số vẫn tăng nhanh, gây nên nhiều áp lực đến đời sống và xã hội
- Tôn giáo chính: Ấn giáo, Phật giáo, Hồi giáo...

2

Đặc điểm kinh tế-xã hội

Những trở ngại ảnh hưởng tới
sự phát triển kinh tế
của các nước Nam Á?



Hình 11.3. Một vùng nông thôn ở Nê-pan



Hình 11.4. Thu hái chè ở Xri Lan-ca

- + Đây là khu vực trước kia là thuộc địa
- + Kinh tế đang phát triển, ở trình độ thấp
- + Những rào cản về xã hội, tôn giáo khiến kinh tế còn trì trệ
- + Ấn Độ là quốc gia phát triển nhất trong khu vực

2

Đặc điểm kinh tế-xã hội



- Phần lớn các nước trong khu vực có nền kinh tế đang phát triển, hoạt động sản xuất nông nghiệp là chủ yếu.

2

Đặc điểm kinh tế-xã hội

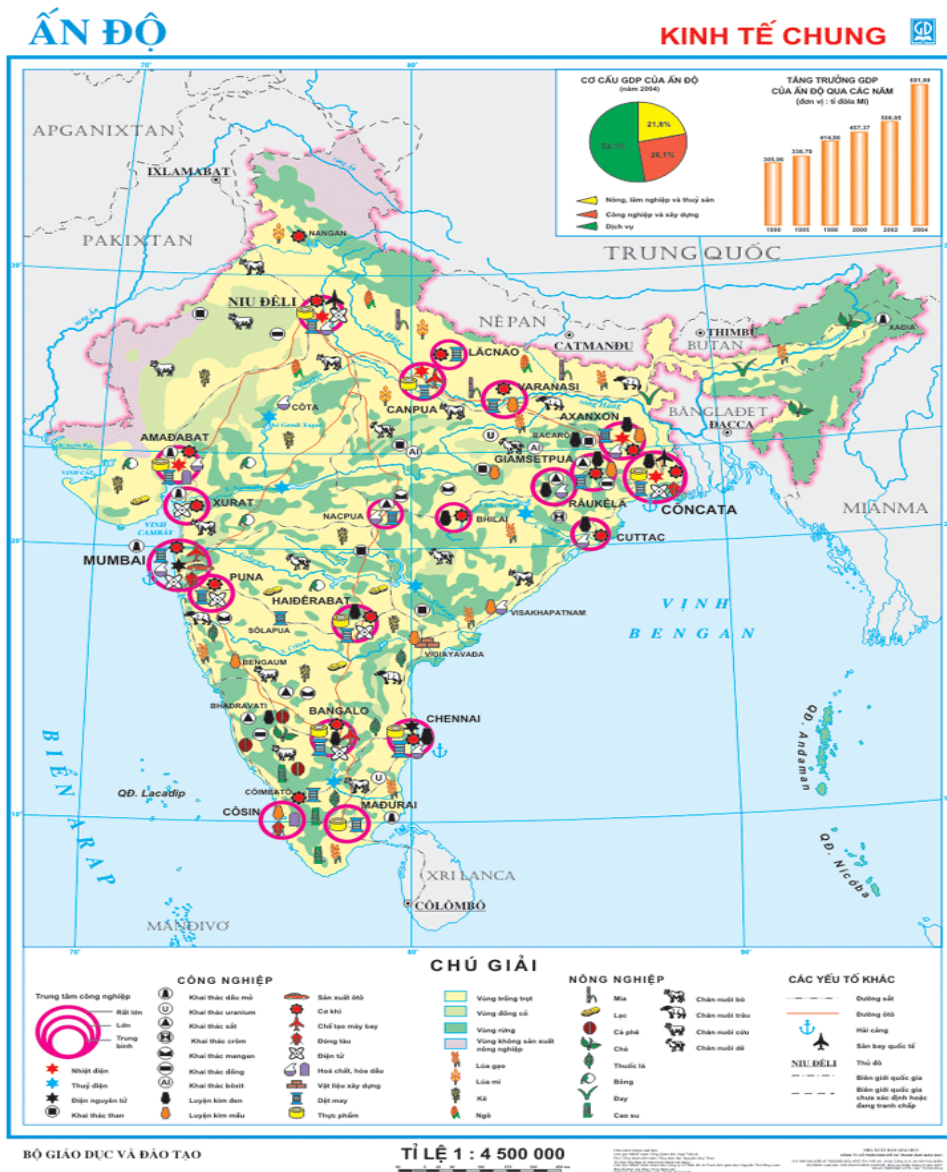
Cơ cấu tổng sản phẩm trong nước (GDP) phân theo ngành của Ấn Độ qua các năm [trang 39]

(Đơn vị: %)

Các ngành	Năm	1995	1999	2001	2014	2017
Nông - lâm - ngư nghiệp		28,4	27,7	25,0	17,4	17,2
Công nghiệp - xây dựng		27,1	26,3	27,0	30,0	29,2
Dịch vụ		44,5	46,0	48,0	52,6	53,6

Sự chuyển dịch đó phản ánh xu hướng phát triển kinh tế như thế nào của Ấn Độ?

CHIA SẺ VỀ THÀNH TỰU KINH TẾ ẤN ĐỘ

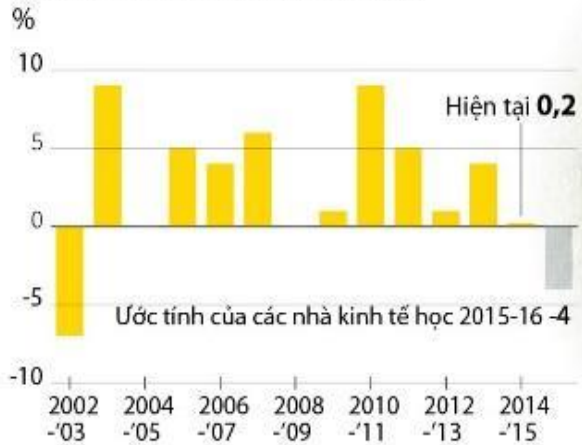


Quy mô GDP lớn. Tổng sản phẩm quốc nội (GDP) của Ấn Độ đạt 2.597 tỉ đô la Mỹ năm 2017 theo giá hiện hành, tăng 14% so với năm trước đó, theo số liệu của Ngân hàng thế giới (World Bank).

Kinh tế nông nghiệp của Ấn Độ

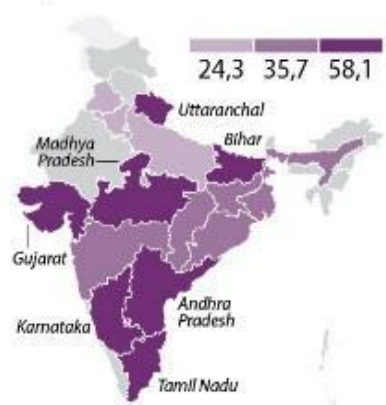
Lần đầu tiên lĩnh vực nông nghiệp của Ấn Độ có thể giảm sút trong hơn một thập kỷ khi nông dân phải chịu đợt hạn hán tồi tệ nhất kể từ năm 2009.

GDP NÔNG NGHIỆP CỦA ẤN ĐỘ



KHU VỰC CANH TÁC

Triệu hecta



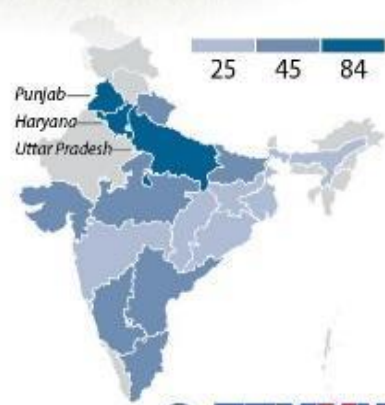
SẢN LƯỢNG

Tấn/hecta



PHẠM VI TƯỚI TIÊU

%



Nông nghiệp đạt được thành tựu to lớn đảm bảo lương thực, sữa (CM xanh và CM trắng trong trồng trọt và chăn nuôi)

Nguồn: Chính phủ Ấn Độ; Tập đoàn Axis Capital; Reuters

“Cách mạng xanh”: Tiến hành trong ngành trồng trọt:

Thay đổi giống cây trồng, cơ khí hoá, điện khí hoá nông nghiệp làm tăng sản lượng lương thực của Ấn Độ.

“Cách mạng trắng”: Tập trung vào ngành chăn nuôi làm tăng sản lượng sữa, món ăn ưa thích của người Ấn Độ.

Nhờ hai cuộc “cách mạng” này mà Ấn Độ không những cung cấp đủ nhu cầu lương thực, thực phẩm cho nhân dân mà còn dư thừa để xuất khẩu.

Mối quan hệ hợp tác phát triển kinh tế giữa Việt Nam- Ấn Độ



2

Đặc điểm kinh tế-xã hội

- Phần lớn các nước trong khu vực có nền kinh tế đang phát triển, hoạt động sản xuất nông nghiệp là chủ yếu.



- Ấn Độ có nền kinh tế phát triển nhất khu vực, có xu hướng chuyển dịch cơ cấu các ngành kinh tế.

LUYỆN TẬP VÀ VẬN DỤNG



TRÒ CHƠI Ô CHỮ

1					K	H	Ô	N	G	Đ	Ề	U				
2							T	A	T	M	A	H	A	N		
3					C	Á	C	H	M	A	N	G	X	A	N	H
4	Đ	A	N	G	P	H	Á	T	T	R	I	Ề	N			

?1 ?2 ?3 ?4 TỪ KHÓA

Ghi nhớ: Nam Á là một trong những khu vực có dân cư tập trung đông nhất châu Á, Một trong những cái nôi của nền văn minh Cổ đại và tôn giáo lớn trên thế giới. Các nước trong khu vực có nền kinh tế đang phát triển, hoạt động sản xuất nông nghiệp vẫn là chủ yếu, trong đó Ấn độ là nước có nền kinh tế phát triển nhất.

NẾU TÔI LÀ THỦ TƯỚNG ẤN ĐỘ

- ✓ Nam Á là khu vực đông dân, kinh tế còn chậm phát triển
- ✓ Nếu là Thủ tướng của một quốc gia trong khu vực (Ấn Độ), chúng ta cần tập trung vào giải pháp nào hàng đầu nhằm nâng cao hiệu quả phát triển kinh tế?



- + Giải quyết dân số: DS còn tăng nhanh
- + Giải quyết xã hội: Phân biệt tầng lớp còn phổ biến
- + Giải quyết về chính sách đầu tư (hạ tầng, kĩ thuật, công nghệ, giao thông...)....

Thank
you!



1

Xem lại bài đã học

2

Chuẩn bị bài 12: Đặc điểm tự
nhiên khu vực Đông Á

Dẫn
dò