


# BÀI 10

# ĐIỀU KIỆN TỰ NHIÊN KHU VỰC NAM Á



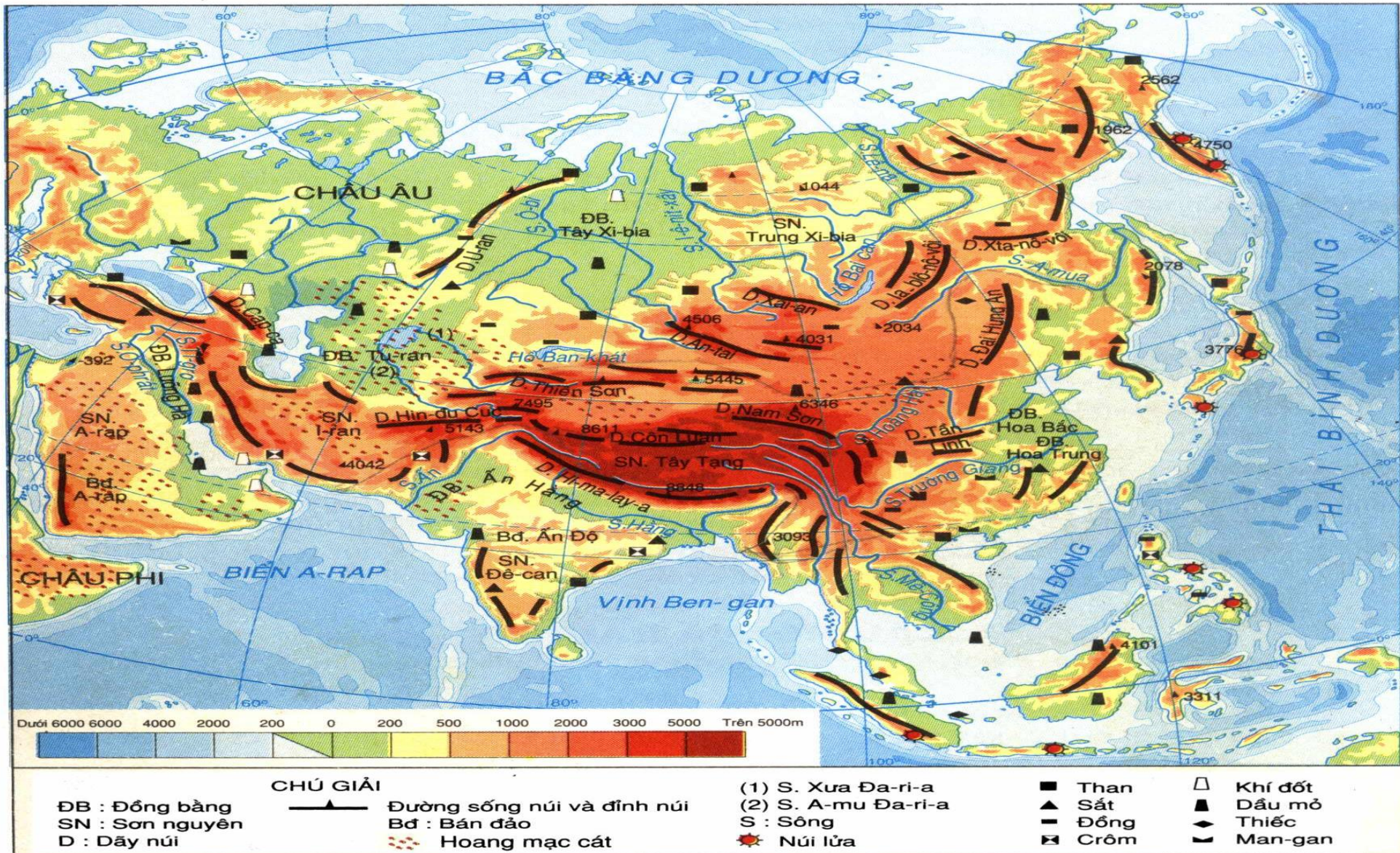
# NỘI DUNG BÀI HỌC

1

Vị trí địa lí và địa hình

2

Khí hậu, sông ngòi và cảnh quan tự nhiên



Hình 1.2. Lược đồ địa hình, khoáng sản và sông hồ châu Á

1

# Vị trí địa lí và địa hình

## a. Vị Trí địa lí

- Nằm ở rìa phía Nam của lục địa Á - Âu.

Xác định vị trí của Nam Á trên bản đồ tự nhiên Châu Á?



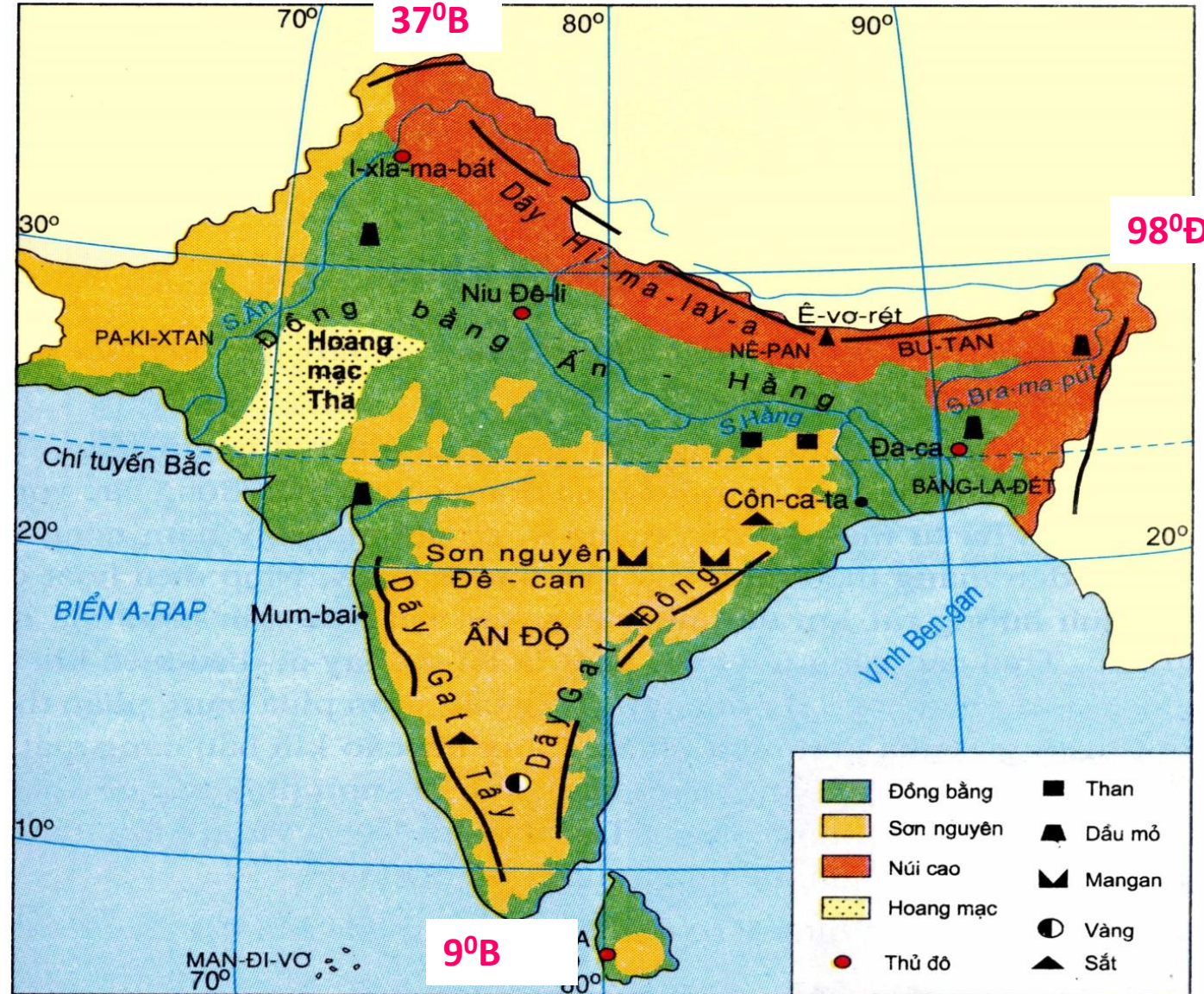
# 1

## Vị trí địa lí và địa hình

### a. Vị Trí địa lí

- Nằm ở rìa phía Nam của lục địa Á - Âu.
- Trong khoảng từ  $9^{\circ}\text{B}$  đến  $37^{\circ}\text{B}$  và  $62^{\circ}\text{Đ}$  đến  $98^{\circ}\text{Đ}$

Nam á nằm trong  
Khoảng kinh độ,  
vĩ độ nào?

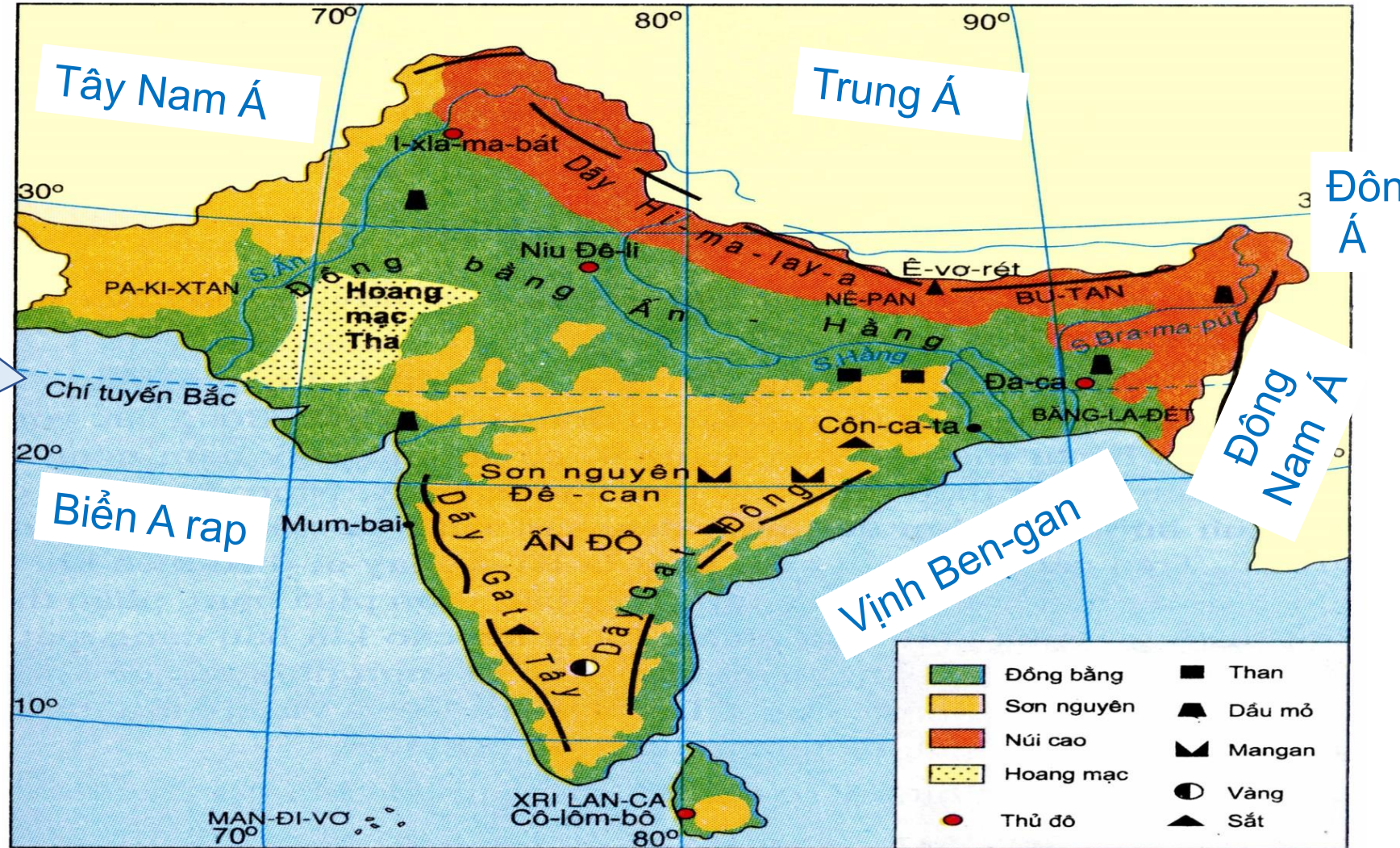


1

# Vị trí địa lí và địa hình

## a. Vị Trí địa lí

Nam á tiếp giáp với vịnh, biển và khu vực nào?



1

## Vị trí địa lí và địa hình

### a. Vị Trí địa lí



- Nằm ở rìa phía nam của lục địa Á - Âu.
- Trong khoảng từ  $9^{\circ}\text{B}$  đến  $37^{\circ}\text{B}$  và  $62^{\circ}\text{Đ}$  đến  $98^{\circ}\text{Đ}$ .
- Tiếp giáp :
  - + Vịnh Bengan
  - + Biển Arap
  - + Khu vực Tây Nam Á, Trung Á, Đông Nam Á

1

## Vị trí địa lí và địa hình

### b. Địa hình

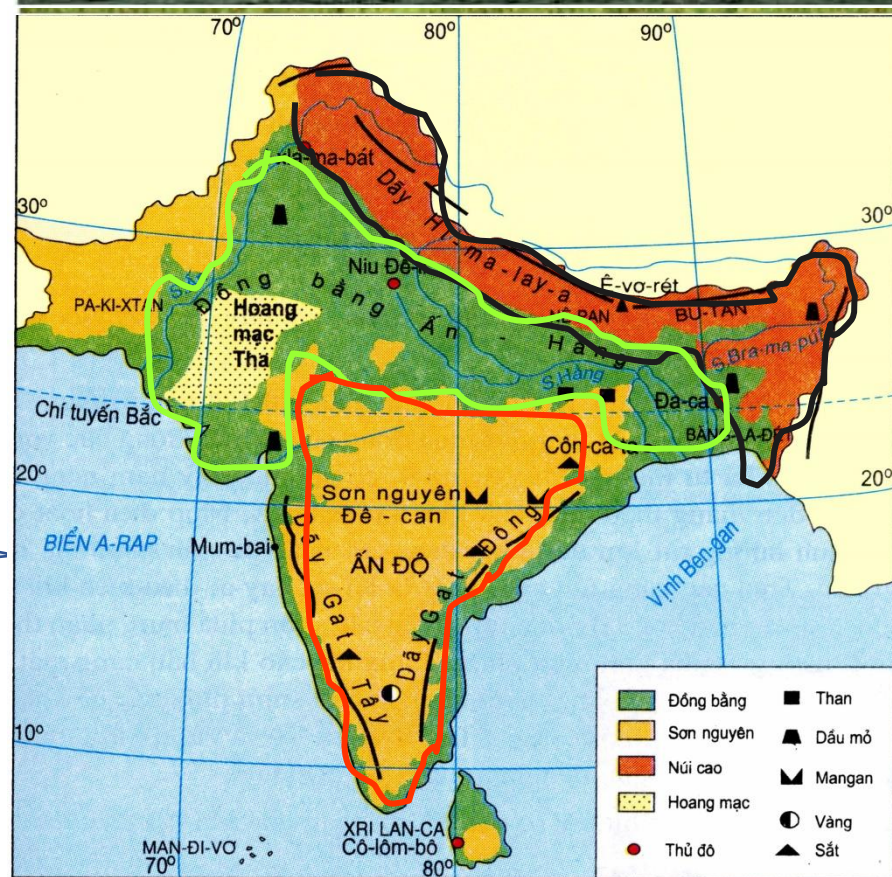
Gồm 3 miền:

- Phía Bắc là núi Himalaya.
- Ở giữa là đồng bằng Ấn Hằng.
- Phía Nam là sơn nguyên Đê can.

Địa hình khu vực  
Nam chia làm mấy  
Miền? Kể tên  
các miền địa hình?



Sơn nguyên Đê-can



Hình 10.1. Lược đồ tự nhiên khu vực Nam Á

## THẢO LUẬN NHÓM 4

Tìm hiểu đặc điểm các miền địa hình của Nam Á?

### PHIẾU HỌC TẬP

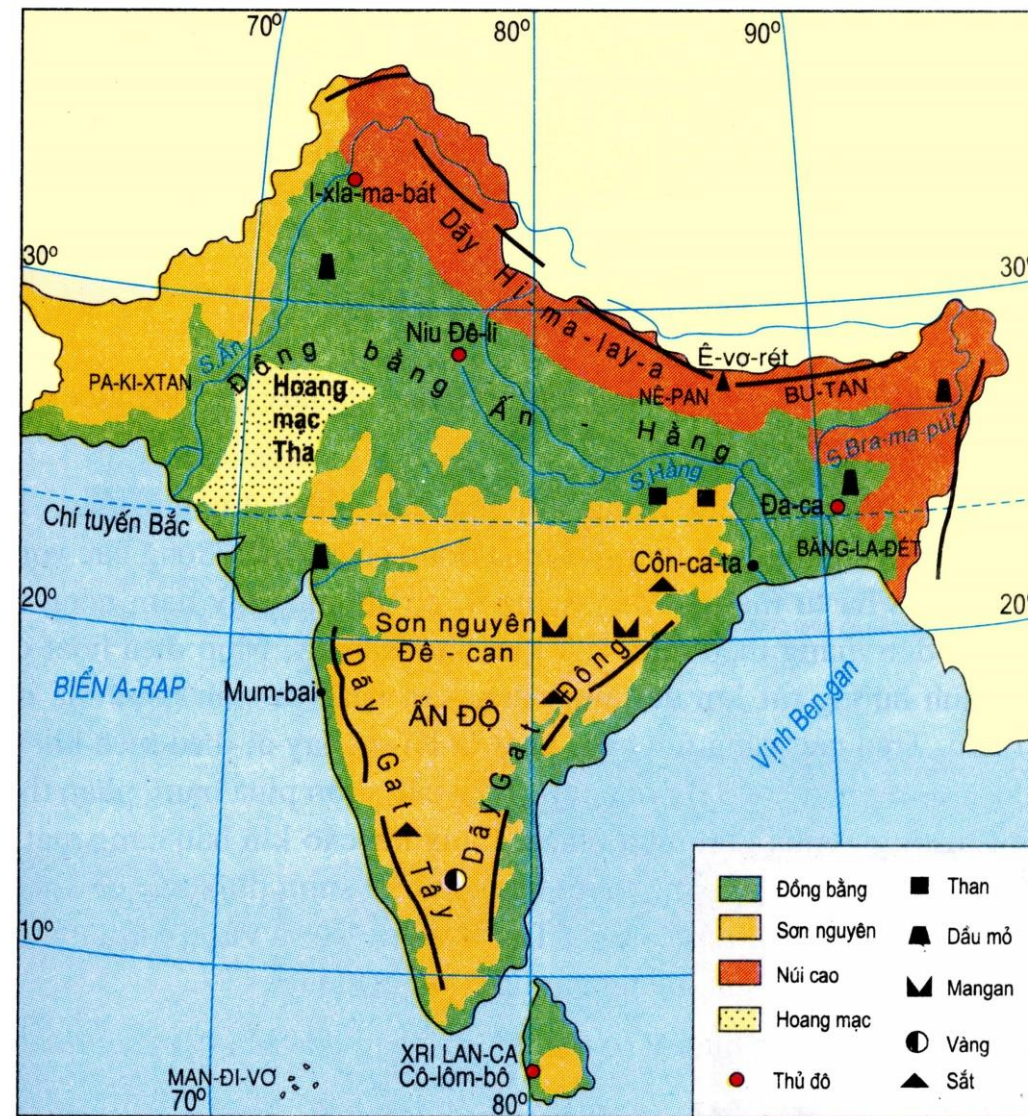
Miền địa hình	Đặc điểm
Núi Hi-ma-lay-a	Nhóm 1,2
Đồng bằng Ấn Hằng	Nhóm 3,4
Sơn nguyên Đê-can	Nhóm 5,6

# 1

## Vị trí địa lí và địa hình

### PHIẾU HỌC TẬP

Miền địa hình	Đặc điểm
Núi Hi-ma-lay-a	<ul style="list-style-type: none"> <li>- Cao, đồ sộ</li> <li>- Hướng Tây Bắc - Đông Nam</li> <li>- Dài 2600 Km,</li> <li>- Rộng 320 - 400Km</li> </ul>
Đồng bằng Ấn Hằng	<ul style="list-style-type: none"> <li>- Rộng và bằng phẳng</li> <li>- Dài 3000Km,</li> <li>- Rộng 250-350Km</li> </ul>
Sơn nguyên Đê-can	<ul style="list-style-type: none"> <li>- Thấp và bằng phẳng</li> <li>- Rìa phía Tây và phía Đông có dãy Gát Tây và Gát Đông</li> </ul>



Hình 10.1. Lược đồ tự nhiên khu vực Nam Á

1

## Vị trí địa lí và địa hình



Gồm 3 miền:

- Phía Bắc là dãy núi Himalaya cao và đồ sộ nhất.
- Trung tâm là đồng bằng Ấn Hằng rộng và bằng phẳng.
- Phía Nam là sơn nguyên Đê can với 2 dãy Gát Tây và Gát Đông.

# 2

## Khí hậu, sông ngòi và cảnh quan tự nhiên

### a. Khí hậu

- Đại bộ phận lãnh thổ Nam Á có khí hậu nhiệt đới gió mùa.

Khí hậu  
núi cao

Khí hậu  
nhiệt  
đới khô

Khí hậu  
nhiệt đới  
gió mùa

Cho biết Nam Á có những kiểu khí hậu nào? Kiểu khí hậu nào nổi bật?



Hình 2.1. Lược đồ các đới khí hậu châu Á

## 2

## Khí hậu, sông ngòi và cảnh quan tự nhiên

## THẢO LUẬN NHÓM 4

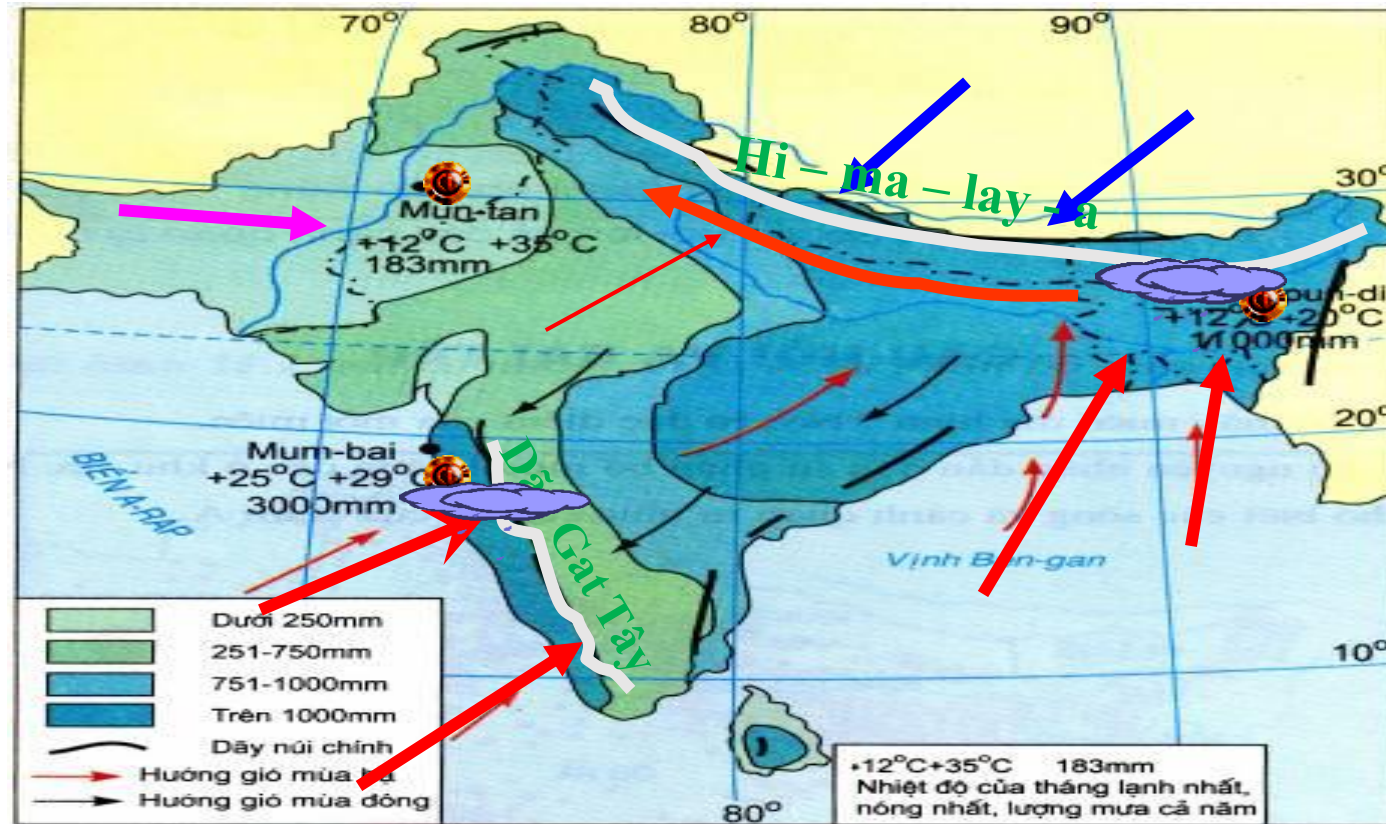
Đọc và nhận xét số liệu khí hậu 3 địa điểm Muntan, Sa-ra-pun-di, Mumbai ở H10.2, giải thích đặc điểm lượng mưa của 3 địa điểm trên ?

## PHIẾU HỌC TẬP

Điểm	Nhiệt độ		Lượng mưa cả năm	Nhận xét lượng mưa	Phân bố lượng mưa
	Lạnh nhất	Nóng nhất			
Mun-tan					
Se-ra-pun-di					
Mum-bai					

# THẢO LUẬN NHÓM 4

Đọc và nhận xét số liệu khí hậu 3 địa điểm Muntan, Sa-ra-pun-di, Mumbai ở H10.2, giải thích đặc điểm lượng mưa của 3 địa điểm trên ?



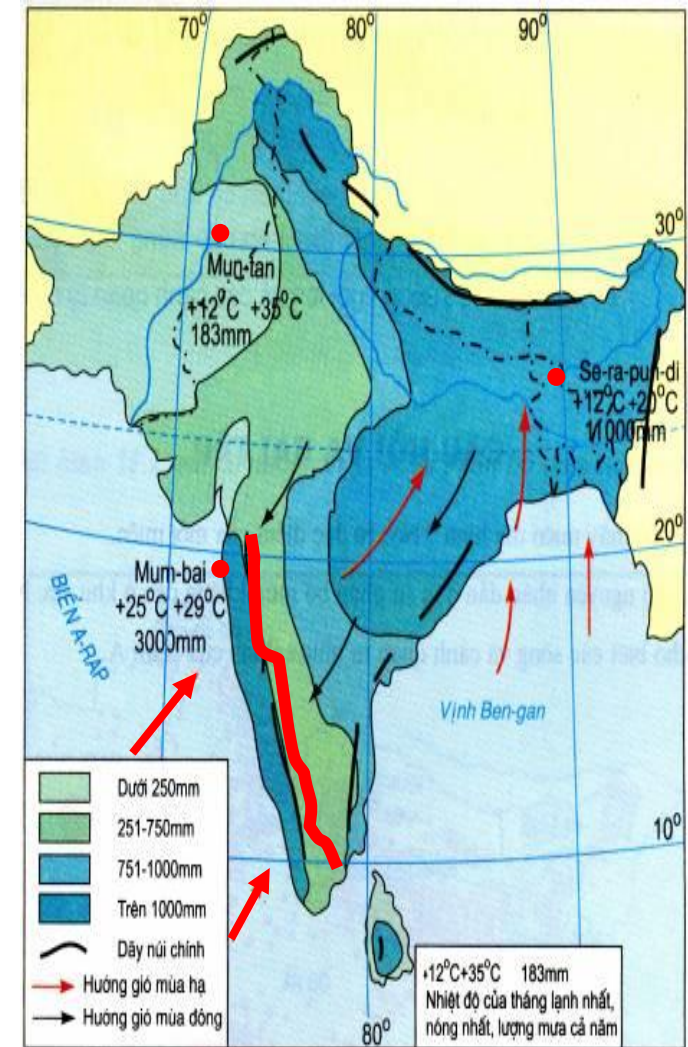
Hình 10.2. Lược đồ phân bố mưa ở Nam Á



# 2

## Khí hậu, sông ngòi và cảnh quan tự nhiên

Mum - bai do ảnh hưởng của dãy Gat Tây là sườn đón gió Tây Nam, mưa nhiều (3.000mm )

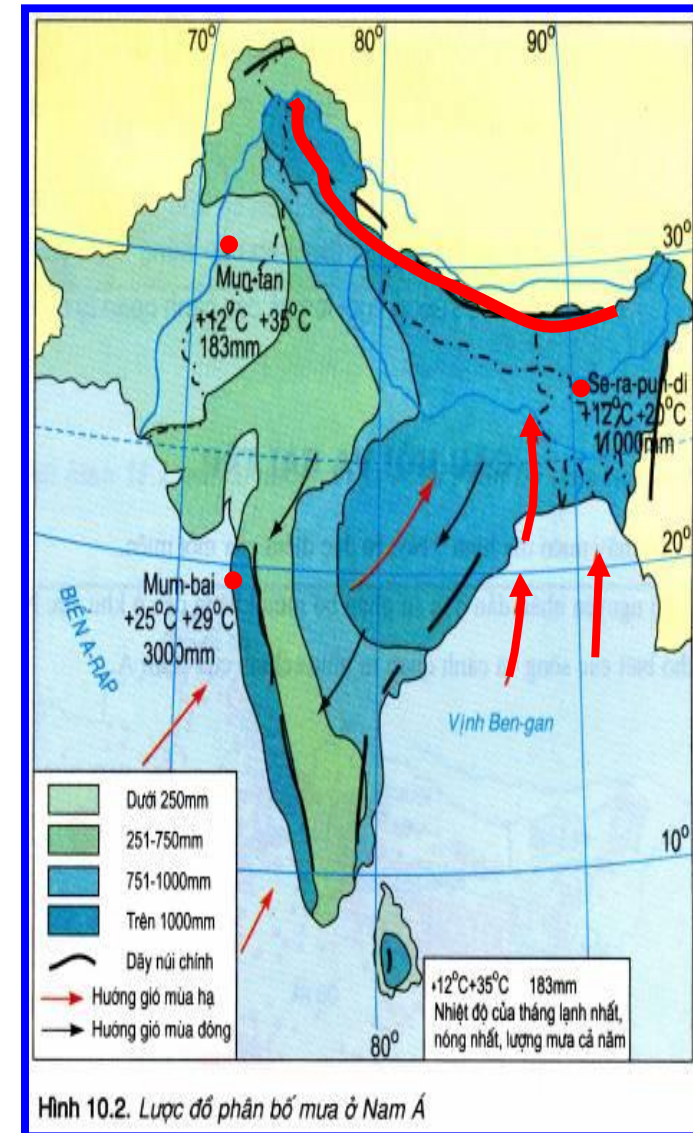


Hình 10.2. Luợc đồ phân bố mưa ở Nam Á

## 2

## Khí hậu, sông ngòi và cảnh quan tự nhiên

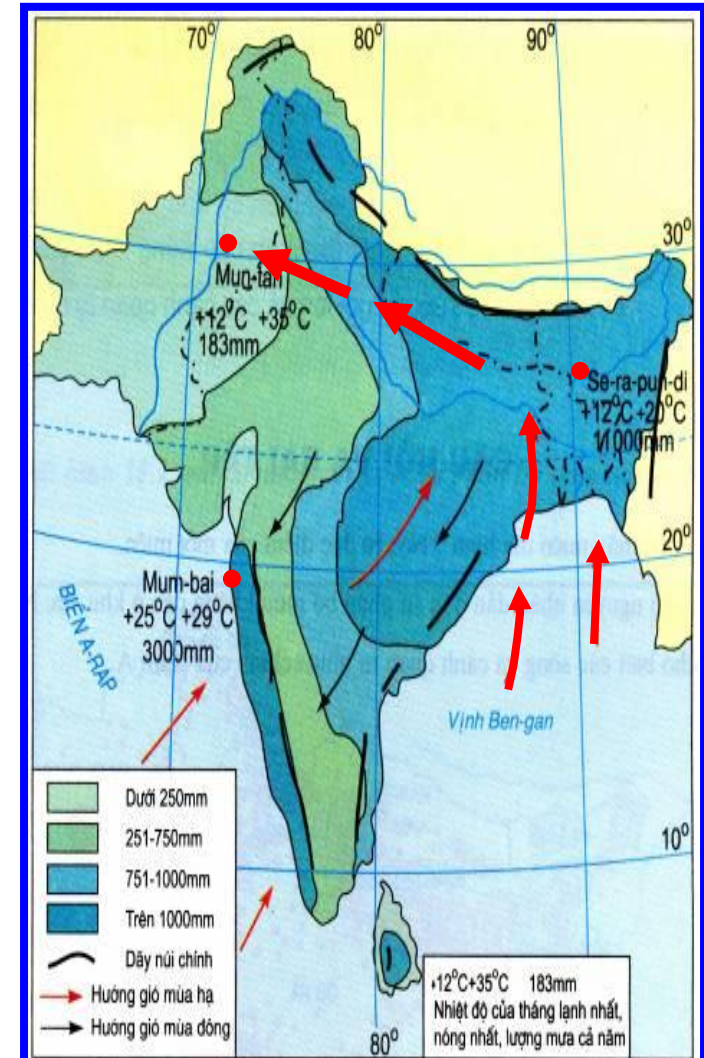
Sê-ra-pun-đi nằm ở hành lang đón gió Tây Nam từ biển vào, dãy Himalaia chắn gió Tây Nam nên mưa trút ở sườn nam gây mưa lớn ở Sê-ra-pun-đi.



## 2

## Khí hậu, sông ngòi và cảnh quan tự nhiên

Mun-tan nằm đới khí hậu nhiệt đới khô, gió mùa Tây Nam từ vịnh Ben Gan vào gặp dãy Himalaya gây mưa ở Sê ra pun di sau đó chuyển hướng về phía tây vượt qua sơn nguyên Iran thổi tới nên khô nóng và mưa rất ít



Hình 10.2. Lược đồ phân bố mưa ở Nam Á

# PHIẾU HỌC TẬP

Điểm	Nhiệt độ		Lượng mưa cả năm	Nhận xét lượng mưa	Phân bố lượng mưa
	Lạnh nhất	Nóng nhất			
Mun-tan	12 <sup>0</sup> C	35 <sup>0</sup> C	183 mm	Lượng mưa ít	Lượng mưa phân bố không đều: Sườn đón gió mưa nhiều hơn sườn khuất gió. Lượng mưa thay đổi từ phía đông sang phía tây
Se-ra-pun-di	12 <sup>0</sup> C	20 <sup>0</sup> C	11000 mm	Lượng mưa rất lớn	
Mum-bai	25 <sup>0</sup> C	29 <sup>0</sup> C	3000 mm	Lượng mưa lớn	

## 2

# Khí hậu, sông ngòi và cảnh quan tự nhiên

## a. Khí hậu



- Đại bộ phận lãnh thổ Nam Á có khí hậu nhiệt đới gió mùa.
- Nam Á có lượng mưa nhiều trên thế giới và phân bố không đều


**Nhân tố nào ảnh hưởng rõ rệt đến sự phân bố lượng mưa ở Nam Á ?**

Qua các bức tranh vừa xem, và kiến thức ở sgk em hãy cho biết yếu tố nào ảnh hưởng đến nhịp điệu hoạt động sản xuất và sinh hoạt của nhân dân ở Nam Á ?



# Đảm bảo vấn đề thủy lợi

Vòi tưới nước trong nông nghiệp




Trạm bơm nước



**FARAKKA BARRAGE**



Xây dựng giếng nước tưới ruộng

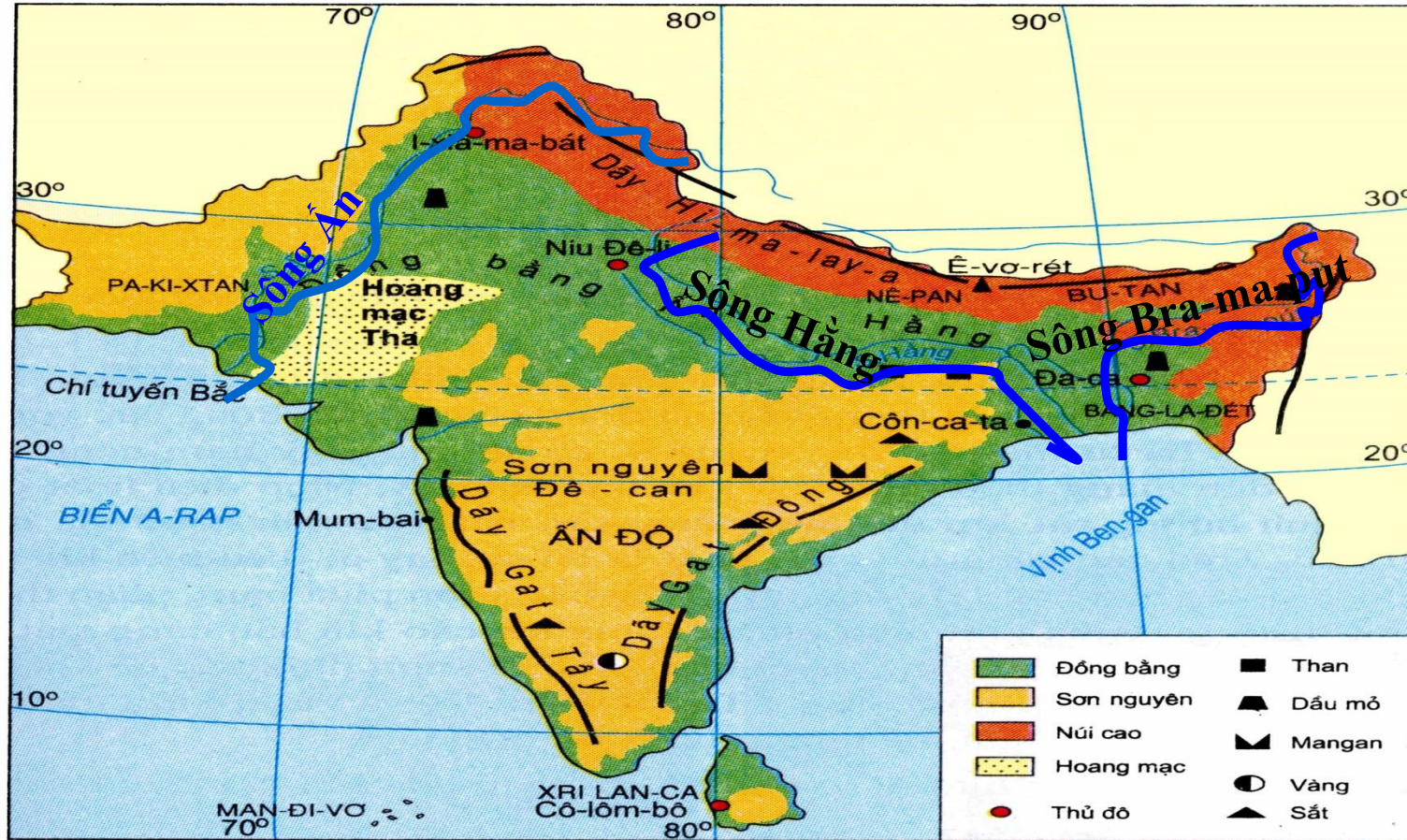


A project of international importance, being the terminal barrage on the river Ganga, located in the state of West Bengal, completed in 1974, serves the purpose of flushing the channels of Calcutta Port, as well as to augment water supply to Calcutta city.

Đập PaRaKKA trên sông Hằng

## b. Sông ngòi

Quan sát lược đồ cho biết Nam Á có những hệ thống sông lớn nào?



- Có nhiều hệ thống sông lớn: Sông Ấn, sông Hằng, sông Bra-ma-put



**Sông Ấn**



**Sông Hằng**



Sông Hằng dài 2.510 km và cung cấp 40% lượng nước cho Ấn Độ, sông Hằng là con sông quan trọng nhất của tiểu lục địa Ấn Độ. Tuy nhiên, con sông này đang dần chết mòn bởi hơn 200 con đập lớn nhỏ được xây dựng ở thượng nguồn đã rút cạn nước sông, làm bùng lên một cuộc khủng hoảng nước tại hàng nghìn ngôi làng dọc bờ sông. Mặt khác, việc phát triển nhanh chóng về dân số và các ngành công nghiệp tại lưu vực này khiến sông Hằng phải nhận hàng tỉ lít nước thải mỗi ngày, biến dòng sông được coi là linh thiêng và huyền bí trở thành dòng sông ô nhiễm nhất thế giới.



Sông Hằng là dòng sông linh thiêng nhất . Nơi mà nếu được tắm mình trong đó, dù chỉ một lần trong đời (khi sống hay chết) thì mọi tội lỗi của con người sẽ được gột rửa và họ sẽ tìm được con đường ngắn nhất lên thiên đàng. Vì vậy mỗi ngày có tới 50.000 người đến tắm ở sông Hằng.

## b. Sông ngòi

**Sông ngòi khu vực Nam á có giá trị gì ?**



## c. Cảnh quan


- Đa dạng: có rừng nhiệt đới ẩm, xa van, hoang mạc và cảnh quan núi cao.




Rừng Nhiệt đới ẩm



Xa van



Hoang mạc Tha



Núi cao

## 2

## Khí hậu, sông ngòi và cảnh quan tự nhiên

### a. Khí hậu

- Đại bộ phận lãnh thổ Nam Á có khí hậu nhiệt đới gió mùa.
- Nam Á có lượng mưa nhiều trên thế giới và phân bố không đều

### b. Sông ngòi

- Có nhiều hệ thống sông lớn: Sông Ấn, sông Hằng, sông Bra-  
ma-put

### c. Cảnh quan

- Đa dạng: có rừng nhiệt đới ẩm, xa van, hoang mạc và cảnh quan núi cao.

# LUYỆN TẬP VÀ VẬN DỤNG



# LUYỆN TẬP

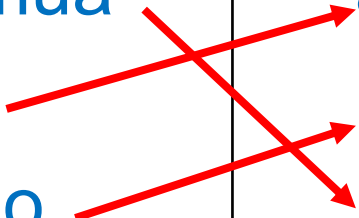
Câu 1. Hãy chọn ý ở cột A và ý ở cột B sao cho thích hợp:

A	B
1. Phía bắc 2. Phía nam 3. Ở giữa	a. Đồng bằng Ấn Hằng b. Dãy Himalaya c. Sơn nguyên Đê-can

# LUYỆN TẬP

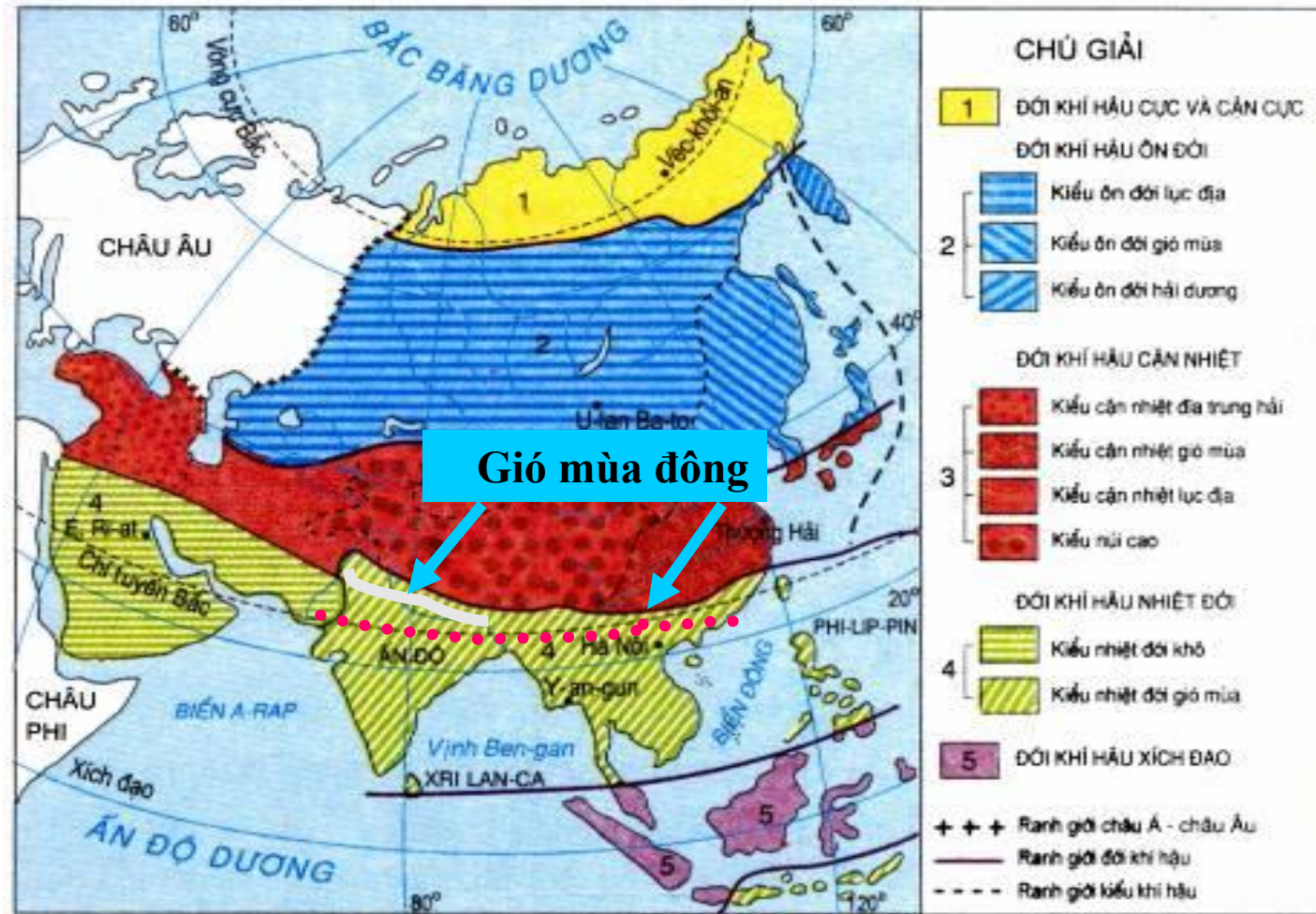
2. Hãy nối ý ở cột A (khí hậu) và ý ở cột B (cảnh quan) sao cho thích hợp:

A (Khí hậu)	B (Cảnh quan)
1. Nhiệt đới gió mùa 2. Nhiệt đới khô 3. Khí hậu núi cao	a. Hoang mạc và bán hoang mạc b. Núi cao c. Rừng nhiệt đới ẩm



# VẬN DỤNG

Tại sao cùng vĩ độ với miền bắc Việt Nam mà khu vực Nam Á có mùa đông ấm hơn ?



Hình 2.1. Lược đồ các đới khí hậu châu Á

Thank  
you!



1

Xem lại bài đã học

2

Chuẩn bị bài 11: Dân cư và đặc  
điểm kinh tế khu vực Nam Á

DẶN  
DÒ