

PHIẾU HƯỚNG DẪN HỌC SINH TỰ HỌC MÔN TIN HỌC 7

TUẦN 1

(Đối với học sinh không thể học tập trực tuyến)

NỘI DUNG	GHI CHÚ
Bài 1: Chương trình bảng tính là gì?	
<p>Hoạt động 1: Đọc tài liệu và thực hiện các yêu cầu.</p> <p>1. Bảng và nhu cầu xử lý thông tin dạng bảng</p> <p>Thể nào là chương trình bảng tính ? Trả lời:.....</p> <p>Cho ví dụ? Trả lời:.....</p> <p>Chương trình bảng tính được sử dụng phổ biến hiện nay có tên là gì? Trả lời:.....</p> <p>2. Màn hình làm việc của Excel</p> <p>Các thành phần trên màn hình làm việc của Excel là? Trả lời:.....</p> <p>Thể nào là trang tính, địa chỉ ô tính? Trả lời:.....</p>	<p>Xem sách giáo khoa Tin học 7</p>

.....
.....
Em hãy cho biết chức năng của thanh công thức, các dải lệnh Formulas (công thức) và Data(dữ liệu)?

Trả lời:.....
.....
.....
.....
.....
.....

2. Nhập dữ liệu vào trang tính

Nêu các bước nhập và sửa dữ liệu trên trang tính?

Trả lời:

Nhập dữ liệu	Sửa dữ liệu
.....
.....
.....
.....

Có mấy cách di chuyển trên trang tính?

Trả lời:.....
.....
.....

**Hoạt động 2: Kiểm tra, đánh giá quá trình tự học.
- Hoàn thành phiếu học tập**

**Phiếu
học tập
và bài
tập**

Trường:

Lớp:

Họ tên học sinh

Câu hỏi cần trao đổi với giáo viên bộ môn:.....

.....

.....

PHIẾU HỌC TẬP
BÀI 1. CHƯƠNG TRÌNH BẢNG TÍNH LÀ GÌ?

Họ và tên:.....Lớp:.....

A. TRẮC NGHIỆM (10 câu)

Câu 1: Chương trình bảng tính có tính năng đặc biệt là:

- A. Xử lý những văn bản lớn. C. Chuyên thực hiện các tính toán.
B. Chứa nhiều thông tin. D. Chuyên lưu trữ hình ảnh.

Câu 2: Chương trình bảng tính, ngoài chức năng tính toán còn có chức năng:

- A. Tạo biểu đồ. B. Tạo trò chơi. C. Tạo video D. Tạo nhạc.

Câu 3: Đây là biểu tượng dùng để khởi động chương trình bảng tính Excel?

- A.  B.  C.  D. 

Câu 4: Để khởi động chương trình bảng tính excel, ta thực hiện:

- A. Nháy chuột lên biểu tượng Excel.
B. Nháy chuột phải lên biểu tượng Excel.
C. Nháy đúp chuột lên biểu tượng Excel.
D. Nháy đúp chuột phải lên biểu tượng Excel.

Câu 5: Trong màn hình Excel, ngoài bảng chọn File và các dải lệnh giống Word thì màn hình Excel còn có:

- A. Trang tính, thanh công thức.
B. Thanh công thức, các dải lệnh Formulas.
C. Các dải lệnh Formulas và bảng chọn Data.
D. Trang tính, thanh công thức, các dải lệnh Formulas và bảng chọn Data.

Câu 6: Trên trang tính, muốn nhập dữ liệu vào ô tính, đầu tiên ta thực hiện thao tác:

- A. Nháy chuột chọn hàng cần nhập. B. Nháy chuột chọn cột cần nhập.
C. Nháy chuột chọn khối ô cần nhập. D. Nháy chuột chọn ô cần nhập.

Câu 7: Trên trang tính, sau khi gõ dữ liệu từ bàn phím xong, ta nhấn phím:

- A. Enter B. Shift C. Alt D. Capslock

Câu 8: Trên trang tính, các ký tự chữ cái A,B,C,...được gọi là:

- A. Tên hàng. B. Tên ô. C. Tên cột. D. Tên khối

Câu 9: Trên trang tính, dãy số thứ tự 1, 2, 3,được gọi là:

- A. Tên khối. B. Tên ô. C. Tên cột. D. Tên hàng.

Bài 10: Giao của một hàng và một cột được gọi là:

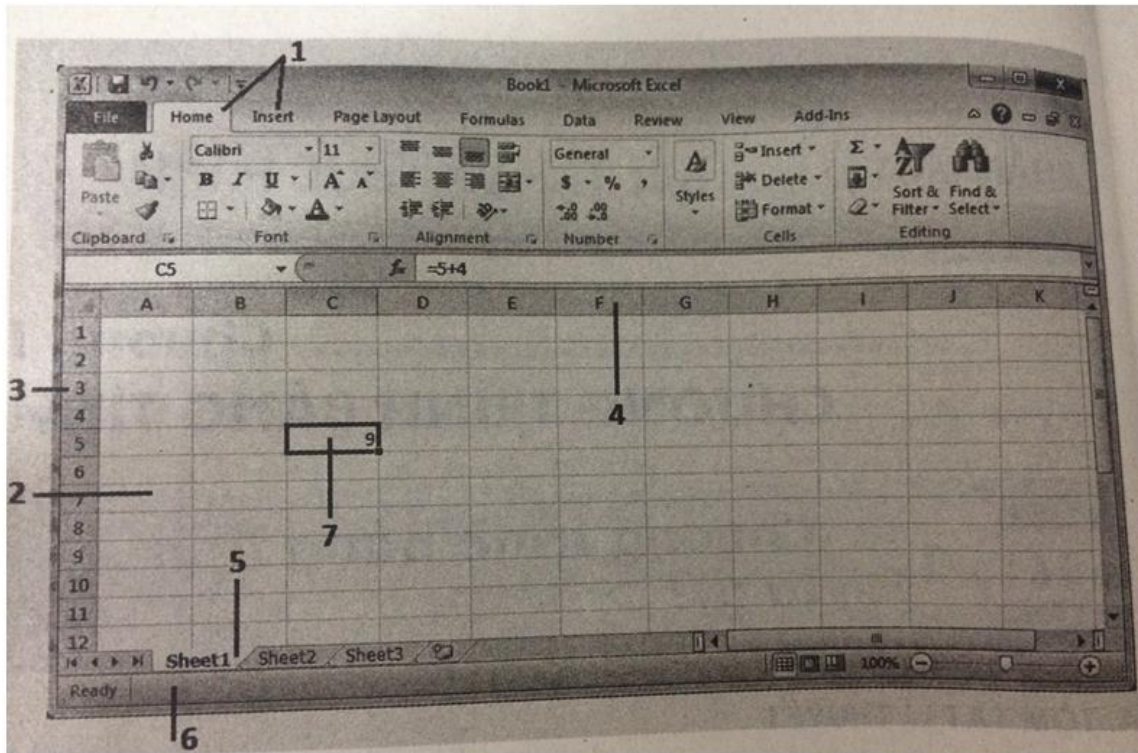
- A. Khôi B. Hàng C. Ô D. Cột.

Đáp án:

1	2	3	4	5	6	7	8	9	10

B. TỰ LUẬN

Bài 1: Hãy nêu tên các đối tượng trên màn hình Excel (hình 1.1) bằng cách chọn từ hoặc cụm từ thích hợp trong danh sách: *tên các dải lệnh, ô tính đang được chọn, tên hàng, tên cột, trang tính, thanh trạng thái, tên trang tính.*



Hình 1.1

Trả lời: 1-.....2-.....
 3-.....4-.....5-.....
 6-.....7-.....

Bài 2. Em biết gì về màn hình của chương trình bảng tính Excel? Hãy điền vào chỗ trống trong các câu dưới đây bằng cách chọn từ hoặc cụm từ thích hợp trong danh sách : **Dải lệnh, Thanh công thức, Ô tính đang được chọn.**

- a) Tương tự như trên màn hình Word, chứa các lệnh để xử lý dữ liệu và trang tính.
- b) là thanh công cụ đặc trưng của chương trình bảng tính, được sử dụng để nhập, hiển thị dữ liệu và công thức trong ô tính
- c) có viền đậm xung quanh để phân biệt với các ô tính khác.

Bài 3: Dưới đây liệt kê các thành phần trên cửa sổ Excel. Các thành phần này cũng có trên cửa sổ của phần mềm soạn thảo văn bản Word. Đúng hay sai? Cho biết ý kiến của em bằng cách đánh dấu (x) vào (Đúng hay Sai) tương ứng.

Các thành phần	Đúng	Sai
a) Dải lệnh		
b) Ô tính		
c) Trang tính		
d) Các thanh cuộn		
e) Thanh trạng thái		
f) Thanh công thức		

Bài 4: Trong các dải lệnh của Excel có những lệnh nào đặc biệt dùng để thực hiện các phép tính với các số và xử lý dữ liệu?

Trả lời:.....

Bài 5: Hãy nối mỗi thành phần cột A với mỗi thành phần tương ứng ở cột B trong bảng sau để tạo thành một câu đúng đối với Excel.

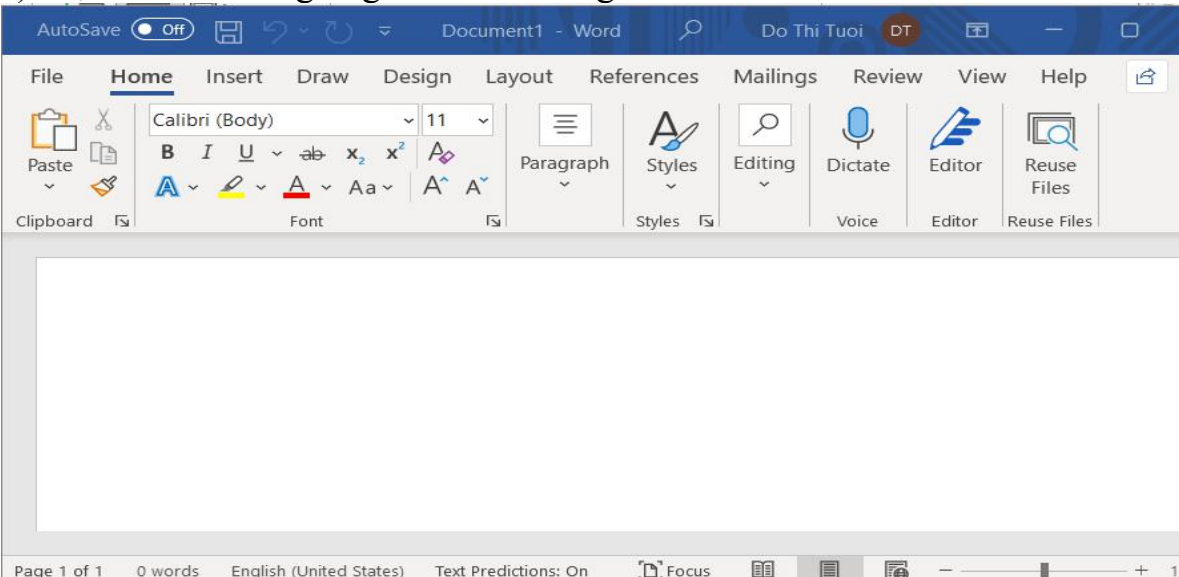
A	B
1) Các cột	a) Được đánh số thứ tự bằng các số, bắt đầu từ 1, 2, ...
2) Địa chỉ một ô	b) Được đánh số thứ tự bằng chữ cái, bắt đầu từ A, B,...
3) Để kích hoạt ô	c) Được chia thành các cột và các hàng .
4) Các hàng	d) Có thể nháy chuột vào ô đó.
5) Trang tính	e) Là cặp tên cột và tên hàng mà ô nằm trên đó.

Trả lời: 1 -, 2 -, 3 -, 4 -, 5 -

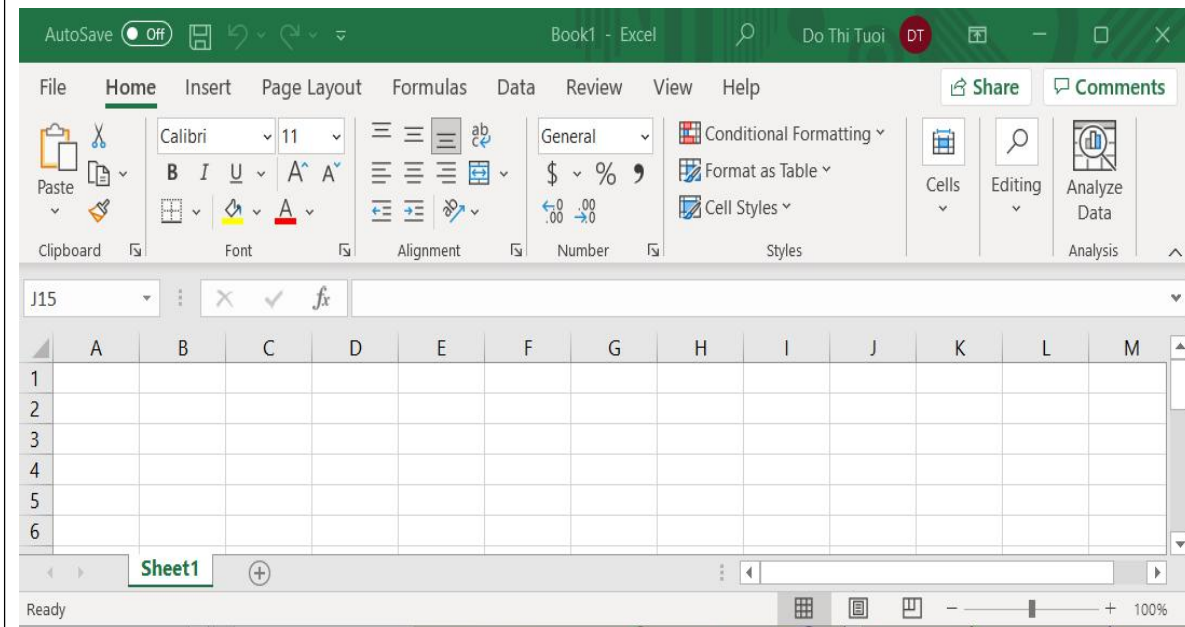
PHIẾU HƯỚNG DẪN HỌC SINH TỰ HỌC MÔN TIN HỌC 7

TUẦN 2

(Đối với học sinh không thể học tập trực tuyến)

NỘI DUNG	GHI CHÚ
Bài thực hành 1: LÀM QUEN VỚI EXCEL	
<p>Hoạt động 1: Đọc tài liệu và thực hiện các yêu cầu.</p> <p>1. Khởi động</p> <p>Hãy cho biết cách khởi động Excel? Trả lời:.....</p> <p>.....</p> <p>.....</p> <p>Muốn lưu kết quả Excel ta làm thế nào? Trả lời:.....</p> <p>.....</p> <p>.....</p> <p>.....</p> <p>Muốn thoát khỏi Excel ta làm thế nào? Trả lời:.....</p> <p>.....</p>	Xem sách giáo khoa Tin học 7
<p>2. Thực hành</p> <p>Bài tập 1 (SGK)</p> <p>a) Liệt kê các điểm giống và khác nhau giữa màn hình Word và Excel.</p> 	

Màn hình Word



Màn hình Excel

Trả lời:.....
.....
.....
.....
.....
.....
.....
.....
.....

- b) Mở một vài dải lệnh và quan sát các lệnh trên các dải lệnh đó.
- c) Kích hoạt một ô tính và thực hiện di chuyển trên trang tính bằng chuột và bằng bàn phím. Quan sát sự thay đổi các ô tên hàng(cột bên trái) và tên cột(hàng trên cùng).

Bài tập 2 (SGK). Điền các từ, cụm từ sau vào chỗ (...): vừa nháy chuột, A2, B2, liền kề.

a) Nhập dữ liệu tùy ý vào ô A2, hãy dùng phím Enter để kết thúc việc nhập dữ liệu trong ô đó và quan sát ô được kích hoạt tiếp theo.

Trả lời: Ô được kích hoạt tiếp theo là ô.....

b) Dữ liệu được nhập vào ô A2.Nếu thực hiện các thao tác sau thì:

- Nhấn phím Tab thì kích hoạt ô.....

- Nhấn các phím mũi tên kích hoạt ôtheo chiều mũi tên

- Nhấn phím ESC thì dữ liệu trong ô bị xóa, ô được kích hoạt vẫn là ô
- Nháy chuột trên một ô khác thì kích hoạt ô

Bài tập 3: Khởi động Excel, nhập dữ liệu theo mẫu

	A	B	C	D
1	Bảng điểm lớp 7A			
2	STT	Họ và tên		
3		1 Đinh Văn Hoàng An		
4		2 Lê Thị Hoài An		
5		3 Lê Thái Anh		
6		4 Phạm Như Thanh		
7		5 Vũ Việt Anh		
8		6 Phạm Thanh Bình		
9		7 Trần Quốc Bình		
10		8 Nguyễn Linh Chi		
11		9 Vũ Xuân Cường		
12		10 Trần Quốc Đạt		
13		11 Nguyễn Anh Duy		
14		12 Nguyễn Trung Dũng		

Hình 1.10

1. Quan sát hình 1.10. Danh sách lớp em. Em hãy cho biết các nội dung sau đây được nhập vào ô nào?

- Bảng điểm lớp em được nhập vào ô.....
- STT được nhập vào ô.....
- Họ và tên được nhập vào ô.....
- Đinh Văn Hoàng An được nhập vào ô.....

2. Nhập hoàn chỉnh nội dung. Lưu bảng tính với tên **Danh_sach_lop_em** và thoát khỏi Excel

Hoạt động 2: Kiểm tra, đánh giá quá trình tự học.

Câu 1: Em hãy sắp xếp các bước thực hiện việc lưu bảng tính

1. Gõ tên tệp bảng tính

2. Chọn thư mục để lưu
3. Nháy Save
4. Mở bảng chọn File, chọn Save

- A. 1-2-3-4
- B. 4-3-2-1
- C. 3-2-4-1
- D. 4-2-1-3

Câu 2: Để thoát khỏi Excel, em nháy chuột vào biểu tượng nào sau đây:

- A. 
- B. 
- C. 
- D. 

Câu 3: Bạn Trường nhập họ và tên của bạn ấy vào ô C3, sau đó bạn nhấn phím mũi tên xuống dưới. Em hãy cho biết ô nào được kích hoạt tiếp theo?

- A. C3
- B. C4
- C. D3
- D. D4

Câu 4: Bạn Trường nhập họ và tên của bạn ấy vào ô C3, sau đó bạn nhấn phím Tab. Em hãy cho biết ô nào được kích hoạt tiếp theo?

- A. C3
- B. C4
- C. D3
- D. D4

Trường:

Lớp:

Họ tên học sinh

Câu hỏi cần trao đổi với giáo viên bộ môn:.....
.....
.....
.....
.....
.....
.....