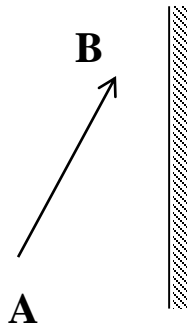


## ĐÁP ÁN ÔN TẬP VẬT LÝ 7 – TUẦN 9

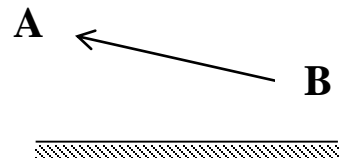
**Câu hỏi:** Vật sáng AB đặt trước gương phẳng như hình vẽ

a. Hãy vẽ ảnh A'B' của vật AB qua gương.

b. Giữ nguyên vật AB. Để khoảng cách từ A' đến gương bằng khoảng cách từ B' đến gương (ảnh A'B' song song với vật AB) ta phải đặt gương như thế nào? Vẽ hình.



Hình 1

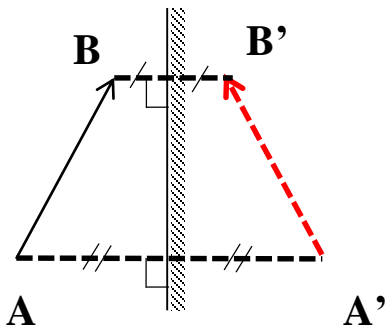


Hình 2

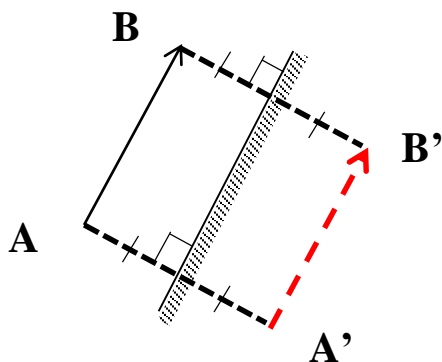
**Đáp án:**

\* **Hình 1:**

a.



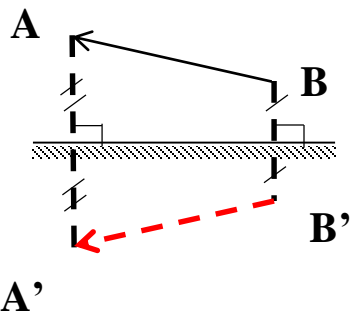
b.



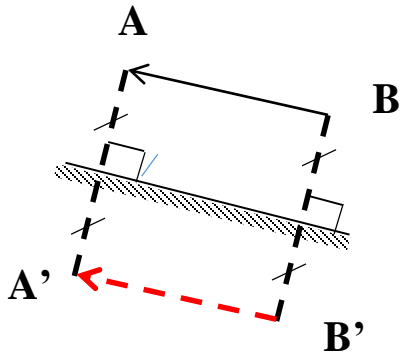
Ta phải đặt gương song song với vật AB.

\* Hình 2:

a.



b.



Ta phải đặt gương song song với vật AB.