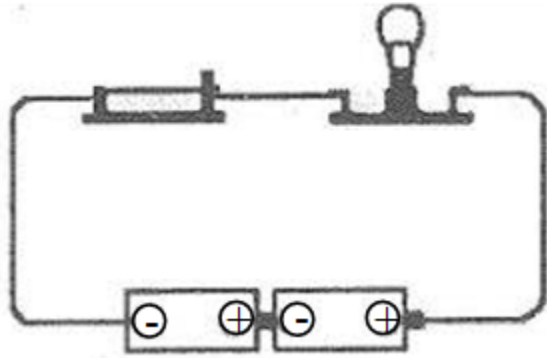
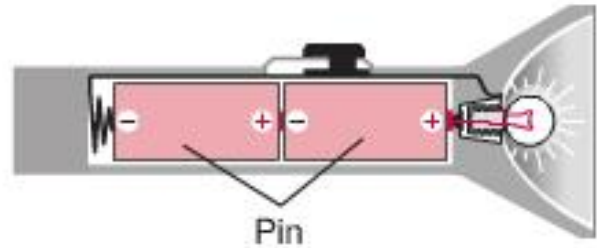


VẬT LÝ 7 - ĐỀ ÔN TẬP TUẦN 28


Hãy vẽ sơ đồ mạch điện theo đúng vị trí các bộ phận trong mạch điện và dùng mũi tên xác định chiều dòng điện.



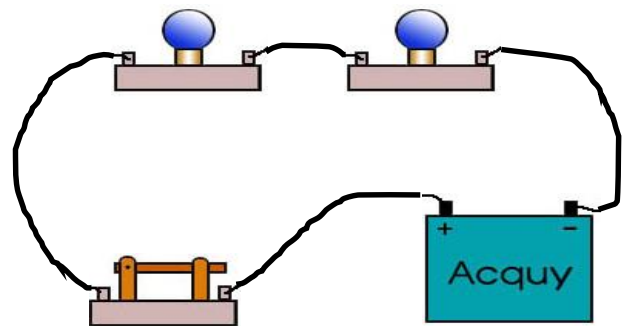
Hình 1



Hình 2



Hình 3



Hình 4