


ĐỀ ÔN TẬP TUẦN 30 - VẬT LÝ 7

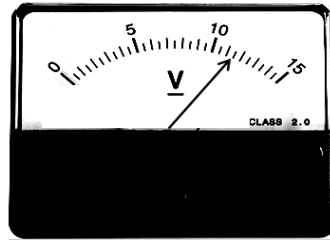
Câu 1: Hình bên dưới có hai dụng cụ đo là a và b.

a) Dụng cụ đo điện a và b có tên gọi là gì?

b) Hãy cho biết giới hạn đo và độ chia nhỏ nhất của mỗi dụng cụ đo điện. Kim trên mỗi mặt số đang chỉ giá trị là bao nhiêu?



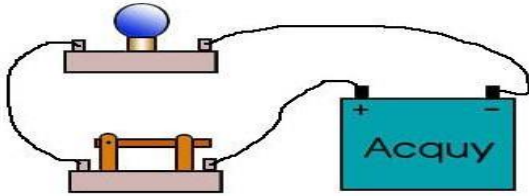
a)



b)

Câu 2: Hãy vẽ sơ đồ mạch điện đúng vị trí như hình vẽ, trong đó có vẽ thêm ampe kế để đo cường độ dòng điện qua bóng đèn và có vẽ thêm vôn kế để đo hiệu điện thế giữa hai đầu bóng đèn.

Hình 1



Hình 2

