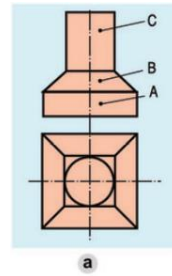


BÀI TẬP VẬN DỤNG PHẦN I: VẼ KỸ THUẬT

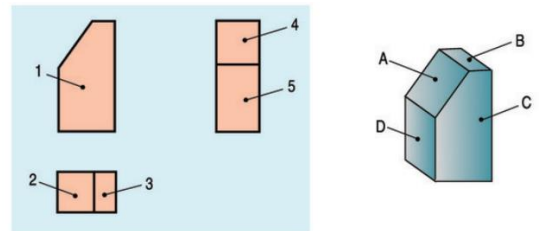
Câu 1: Quan sát hình chiếu của vật thể a, hãy cho biết A, B, C là những khối hình học nào?

- A. A là hình hộp, B là hình chóp, C là hình trụ
- B. A là hình hộp, B là hình chóp cụt, C là hình trụ
- C. A là hình trụ, B là hình chóp cụt, C là hình hộp
- D. A là hình trụ, B là hình chóp, C là hình hộp



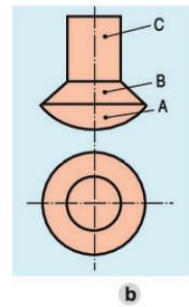
Câu 2: Chọn mối tương quan đúng giữa hình chiếu và các mặt của vật thể?

- A. 1-A, 2-B, 3-C, 4-D, 5-A
- B. 1-C, 2-B, 3-A, 4-D, 5-A
- C. 1-C, 2-A, 3-B, 4-A, 5-D
- D. 1-C, 2-D, 3-B, 4-D, 5-A

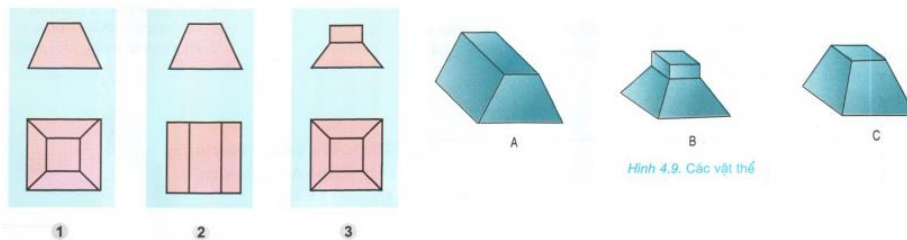


Câu 3: Quan sát hình chiếu của vật thể b, hãy cho biết A, B, C là những khối hình học nào?

- A. A hình chòm cầu, B là hình nón, C là hình trụ
- B. A hình cầu, B là hình nón, C là hình tròn
- C. A hình chòm cầu, B là hình nón cụt, C là hình trụ
- D. A hình chòm cầu, B là hình nón, C là hình lăng trụ



Câu 4: Chọn mối tương quan đúng giữa hình chiếu và các vật thể tương ứng



- A. 1_B, 2_A, 3_C
- B. 1_C, 2_A, 3_B
- C. 1_B, 2_C, 3_A
- D. 1_C, 2_B, 3_A

Câu 5. Hình chiếu trên mặt phẳng song song với trục quay của hình nón là:

- A. Tam giác
- B. Tam giác cân
- C. Tam giác vuông
- D. Đáp án khác

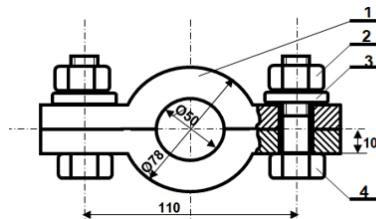
Câu 6: Trong bản vẽ nhà, kí hiệu này là gì?

- A. Cửa sổ đơn
- B. Cửa sổ kép
- C. Cửa đi một cánh
- D. Cửa đi đơn 2 cánh



Câu 7: Quan sát hình biểu diễn của bản vẽ lắp, với các chi tiết có ký hiệu lần lượt là 1_2_3_4. Em hãy cho biết trình tự tháo của sản phẩm ?

- A. 1-2-3-4
- B. 4-3-2-1
- C. 1-3-2-4
- D. 2-3-4-1



Câu 8: Muốn biểu diễn các bộ phận và kích thước của ngôi nhà theo chiều cao, ta sử dụng hình biểu diễn nào?

- A. Mặt bằng
- B. Mặt đứng
- C. Mặt cắt
- D. Mặt phẳng chiếu

Câu 9: Khẳng định nào sau đây là đúng khi nói đến nội dung mặt bằng trong bản vẽ nhà:

- A. Mặt bằng là hình chiếu vuông góc các mặt ngoài của ngôi nhà
- B. Mặt bằng là hình cắt có mặt phẳng cắt song song với mặt phẳng chiếu bằng
- C. Mặt bằng là hình cắt có mặt phẳng cắt vuông góc với mặt phẳng chiếu bằng
- D. Mặt bằng là hình cắt thể hiện kích thước ngôi nhà theo chiều cao.

Câu 10 : hãy vẽ hình cắt (ở vị trí hình chiếu đứng) và hình chiếu bằng của các chi tiết A, B, C với các kích thước đã cho trong hình.

