

TUẦN 9

TIẾT 25: ÔN TẬP

PHÂN MÔN LỊCH SỬ

HS làm một số bài tập sau để củng cố kiến thức:

Câu 1. Chọn các dữ kiện điền vào chỗ trống.

- | | |
|---------------|--------------|
| a. quy luật | b. quan sát |
| c. dương lịch | d. một năm |
| e. âm lịch | f. thời gian |
| g. một tháng | h. một vòng |
| i. Trái Đất | |

Dựa vàovà tính toán, người xưa đã phát hiện
di chuyển của Mặt Trăng,, Mặt Trời để tính
và làm ra lịch.

.....là cách tính thời gian theo chu kì Mặt Trăng quay xung quanh
Trái Đất. Thời gian Mặt Trăng chuyển động hếtquanh Trái Đất
là.....

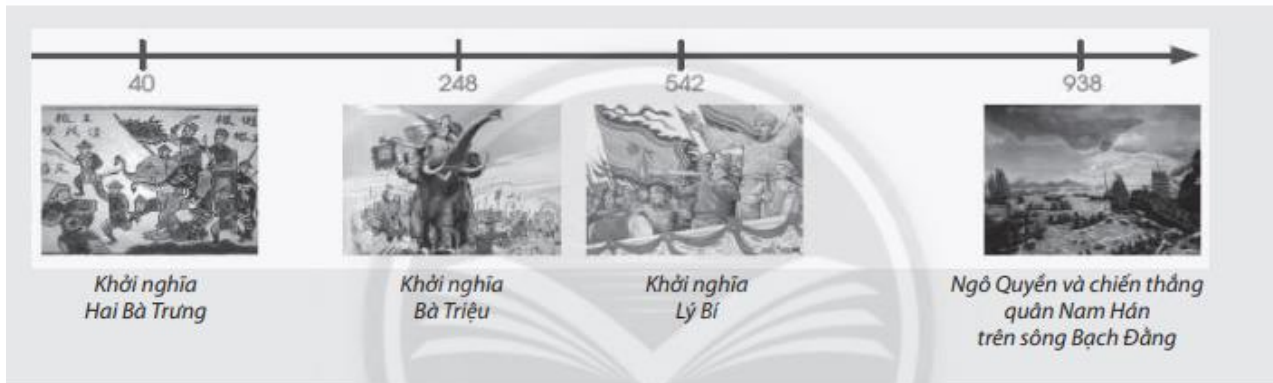
.....là cách tính thời gian theo chu kì Trái Đất quay xung
quanh Mặt Trời. Thời gian Trái Đất chuyển động hết một vòng quanh Mặt Trời
là.....

Câu 2: Năm 179 TCN, Triệu Đà xâm lược nước ta. Em hãy tính khoảng thời gian theo
thế kỉ, theo năm của sự kiện so với năm 2021.

- A. Năm 179 TCN thuộc thế kỉ II TCN, Triệu Đà xâm lược nước ta cách nay 2,102 năm
- B. Năm 179 TCN thuộc thế kỉ II TCN, Triệu Đà xâm lược nước ta cách nay 2,200 năm
- C. Năm 179 TCN thuộc thế kỉ III TCN, Triệu Đà xâm lược nước ta cách nay 3,000 năm
- D. Năm 179 TCN thuộc thế kỉ II TCN, Triệu Đà xâm lược nước ta cách nay 2,000 năm

Câu 3. Để có được một bức tranh toàn cảnh về quá khứ, chúng ta cần đặt những sự kiện đã xảy ra theo một trình tự thời gian – từ sự kiện sớm nhất đến sự kiện gần đây nhất – gọi là sơ đồ dòng thời gian.

Ví dụ dưới đây cho chúng ta thấy cách thiết kế sơ đồ dòng thời gian các giai đoạn lịch sử khác nhau và những đặc điểm căn bản nhất của một sơ đồ dòng thời gian.



Em hãy tính khoảng thời gian (theo thế kỉ và theo năm) của các sự kiện ghi trên sơ đồ so với thời điểm hiện tại.

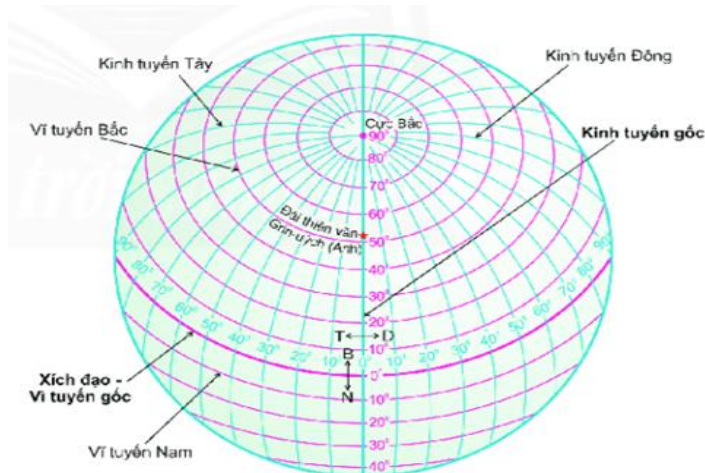
Câu 4: Em hãy nối các dữ kiện ở các cột A, B, C với nhau để thể hiện các giai đoạn tiến triển của xã hội nguyên thủy.

Cột A	Cột B	Cột C
Bảy người nguyên thủy	Gồm vài gia đình sinh sống cùng nhau	Đứng đầu là tộc trưởng
Công xã thị tộc	Gồm các gia đình có quan hệ huyết thống sinh sống cùng nhau	Nhiều thị tộc sống cạnh nhau, có quan hệ họ hàng và gắn bó với nhau hợp thành bộ lạc
		Có sự phân công giữa lao động nam và nữ

PHÂN MÔN ĐỊA LÍ

Câu 1: Quan sát hình 1.1 và xác định:

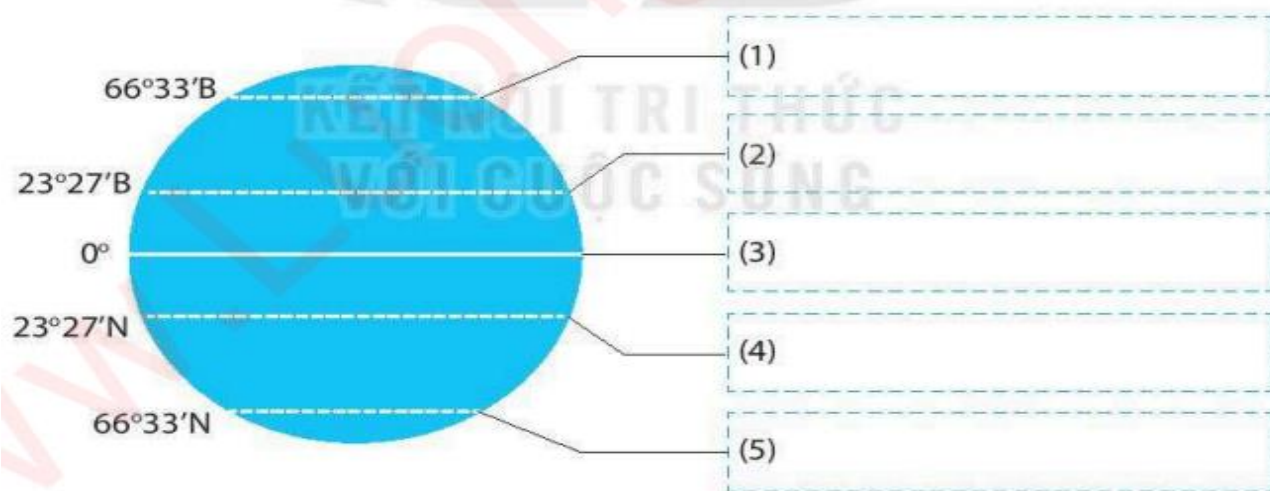
- + Kinh tuyến gốc, các kinh tuyến Đông, các kinh tuyến Tây.
- + Vĩ tuyến gốc (xích đạo), vĩ tuyến Bắc, vĩ tuyến Nam.
- + Bán cầu Bắc, bán cầu Nam



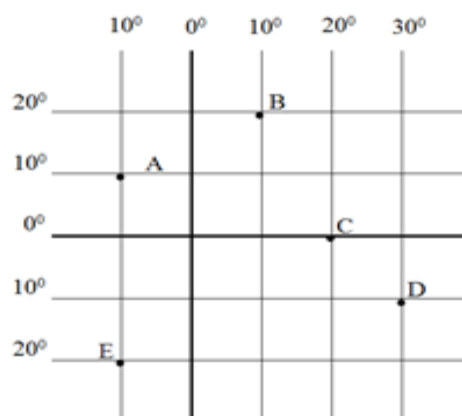
Hình 1.1. Kinh tuyến và vĩ tuyến trên quả Địa Cầu.

Câu 2:

Hãy chú thích cho hình sau dựa vào các dữ liệu: Xích đạo, chí tuyến Bắc, chí tuyến Nam, vòng cực Bắc, vòng cực Nam.



Câu 3: Quan sát hình bên, hãy xác định tọa độ địa lí các điểm A, B, C, D, E.

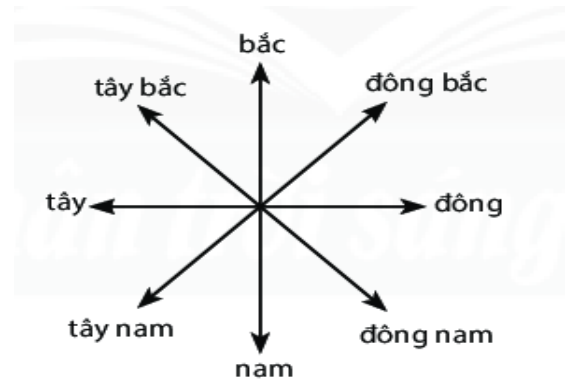


Câu 4: Quan sát hình 2.1, em hãy cho biết các kí hiệu a, b, c, d tương ứng với nội dung các hình nào (1,2,3,4)?



Hình 2.1. Một số đối tượng địa lí và kí hiệu quy ước của chúng trên bản đồ.

Câu 5: Xác định các hướng chính và hướng trung gian ở hình 3.1.



Hình 3.1. Các hướng chính và hướng trung gian.

TIẾT 26 + 27: KIỂM TRA GIỮA KÌ I

* Thời gian kiểm tra: TUẦN 9 (theo lịch kiểm tra của nhà trường)

* Nội dung ôn tập:

- **Phân môn Lịch sử:** Bài 2, Bài 4, Bài 5.

- **Phân môn Địa lí:** Bài 1, Bài 2, Bài 3, Bài 4.