

ỦY BAN NHÂN DÂN QUẬN 7
TRƯỜNG TRUNG HỌC CƠ SỞ
TRẦN QUỐC TUẤN

ÔN TẬP

Môn: Tin học 7

Tuần 13

Câu 1: Trên trang tính, muốn thực hiện thao tác điều chỉnh độ rộng của cột khi:

- A. cột chứa đủ dữ liệu.
- B. cột không chứa hết dữ liệu hoặc dữ liệu quá ít.
- C. cột chứa dữ liệu số.
- D. cột chứa dữ liệu kí tự.

đáp án

Trên trang tính, ngầm định các cột có độ rộng bằng nhau và các hàng có độ cao bằng nhau. Nhưng khi dữ liệu quá nhiều hoặc quá ít cần điều chỉnh độ rộng của cột cho thích hợp.

Đáp án: B

Câu 2: Trên trang tính, để điều chỉnh độ rộng của cột, trước tiên ta phải

- A. đưa chuột đến đường biên bên dưới của tên cột.
- B. đưa chuột đến đường biên bên trái của tên cột.
- C. đưa chuột đến đường biên bên phải của tên cột.
- D. đưa chuột đến đường biên bên trên của tên cột.

đáp án

Trên trang tính, để điều chỉnh độ rộng của cột, trước tiên ta phải đưa chuột đến đường biên bên phải của tên cột và sau đó kéo thả chuột sang trái hoặc phải để điều chỉnh độ rộng.

Đáp án: C

Câu 3: Trên trang tính, muốn thực hiện thao tác điều chỉnh độ cao của hàng khi

- A. hàng chứa đủ dữ liệu.
- B. hàng không chứa hết dữ liệu hoặc dữ liệu quá ít.
- C. hàng chứa dữ liệu số.

D. hàng chứa dữ liệu kí tự.

đáp án

Trên trang tính, muốn thực hiện thao tác điều chỉnh độ cao của hàng khi hàng không chứa hết dữ liệu hoặc dữ liệu quá ít. Các bước thực hiện:

- B1: đưa con trỏ chuột vào biên dưới tên hàng
- B2: kéo thả chuột để tăng độ cao

Đáp án: B

Câu 4: Trên trang tính, để điều chỉnh độ rộng của cột vừa khít với dữ liệu, ta thực hiện:

- A. đưa chuột đến đường biên bên dưới của tên cột và nhấp đúp chuột.
- B. đưa chuột đến đường biên bên phải của tên cột và nhấp đúp chuột.
- C. đưa chuột đến đường biên bên trái của tên cột và nhấp đúp chuột.
- D. đưa chuột đến đường biên bên trên của tên cột và nhấp đúp chuột.

đáp án

Trên trang tính, để điều chỉnh độ rộng của cột vừa khít với dữ liệu, ta thực hiện đưa chuột đến đường biên bên phải của tên cột và nhấp đúp chuột trên vạch phân cách cột.

Đáp án: B

Câu 5: Trên trang tính, để điều chỉnh độ cao của hàng vừa khít với dữ liệu, ta thực hiện:

- A. đưa chuột đến đường biên bên trái của tên hàng và nhấp đúp chuột.
- B. đưa chuột đến đường biên bên phải của tên hàng và nhấp đúp chuột.
- C. đưa chuột đến đường biên bên dưới của tên hàng và nhấp đúp chuột.
- D. đưa chuột đến đường biên bên trên của tên hàng và nhấp đúp chuột.

đáp án

Trên trang tính, để điều chỉnh độ cao của hàng vừa khít với dữ liệu, ta thực hiện đưa chuột đến đường biên bên dưới của tên hàng và nhấp đúp chuột trên vạch phân cách hàng.

Đáp án: C

Câu 6: Trên trang tính, muốn chèn thêm một cột trống trước cột E, ta thực hiện:

- A. nháy chuột chọn cột D và chọn lệnh Insert/Cells/Home.
- B. nháy chuột chọn cột D và chọn lệnh Delete trong nhóm Cells trên dải lệnh Home.
- C. nháy chuột chọn cột E và chọn lệnh Delete trong nhóm Cells trên dải lệnh Home.
- D. nháy chuột chọn cột E và chọn lệnh Insert trong nhóm Cells trên dải lệnh Home.

đáp án

Trên trang tính, muốn chèn thêm một cột trống trước một cột, ta thực hiện nháy chuột chọn cột E và chọn lệnh Insert trong nhóm Cells trên dải lệnh Home. Cột trống sẽ được chèn bên trái cột được chọn.

Câu 7: Trên trang tính, muốn xóa một cột trước cột E, ta thực hiện:

- A. nháy chuột chọn cột D và chọn lệnh Insert/Cells/Home.
- B. nháy chuột chọn cột D và chọn lệnh Delete trong nhóm Cells trên dải lệnh Home.
- C. nháy chuột chọn cột E và chọn lệnh Delete trong nhóm Cells trên dải lệnh Home.
- D. nháy chuột chọn cột E và chọn lệnh Insert trong nhóm Cells trên dải lệnh Home.

đáp án

Trên trang tính, muốn xóa một cột trước cột E, ta thực hiện nháy chuột chọn cột E và chọn lệnh Delete trong nhóm Cells trên dải lệnh Home. Nếu chỉ muốn xóa dữ liệu trong ô chỉ cần chọn và bấm phím Delete trên bàn phím.

Đáp án: C



Câu 8: Trên trang tính, thao tác sao chép và di chuyển nội dung ô tính có mục đích

- A. khó thực hiện tính toán.
- B. tốn thời gian và công sức.
- C. dễ mất dữ liệu và khó thực hiện.
- D. giúp tiết kiệm thời gian và công sức.

đáp án

Trên trang tính, thao tác sao chép và di chuyển nội dung ô tính có mục đích giúp tiết kiệm thời gian và công sức. Các bước thực hiện:

- B1: chọn ô hoặc các ô có dữ liệu em muốn sao chép

- B2: chọn lệnh copy  hoặc dùng tổ hợp phím Ctrl + C
- B3: chọn ô muốn lưu dữ liệu đó
- B4: chọn lệnh paste  hoặc dùng tổ hợp phím Ctrl + V

Đáp án: D

Câu 9: Trên trang tính, để sao chép hay di chuyển dữ liệu em sử dụng các lệnh:

- A. Copy hoặc Cut và Paste trong nhóm lệnh Clipboard trên dải lệnh Home.
- B. Copy hoặc Cut và Paste trong nhóm lệnh Cells trên dải lệnh Home.
- C. Copy hoặc Cut và Paste trong nhóm lệnh Clipboard trên dải lệnh Insert.
- D. Copy hoặc Cut và Paste trong nhóm lệnh Cells trên dải lệnh Insert.

đáp án

Các bước thực hiện để sao chép hay di chuyển dữ liệu:

- B1: chọn ô hoặc các ô có dữ liệu em muốn sao chép hoặc di chuyển
- B2: chọn lệnh copy hoặc cut
- B3: chọn ô muốn lưu dữ liệu đó
- B4: chọn lệnh paste hoặc dùng tổ hợp phím Ctrl + V

Đáp án: A

Câu 10: Trên trang tính, tại ô A1=5;B1=10; tại C1=A1+B1, sao chép công thức tại ô C1 sang ô D1, thì công thức tại ô D1 là:

- A. A1+B1
- B. B1+C1
- C. A1+C1
- D. C1+D1

đáp án

Trên trang tính, khi sao chép một ô có nội dung là công thức chứa địa chỉ, các địa chỉ sẽ được điều chỉnh để giữ nguyên vị trí tương đối giữa các ô chứa công thức (C1 \diamond D1) và ô địa chỉ trong công thức (A1+B1 \diamond B1+C1).

Đáp án: B





Câu 11

Hãy cho biết hình 2 nhận được từ hình 1 bằng cách chọn phần văn bản rồi dùng nút lệnh nào trong các nút lệnh dưới đây:

Hình 1

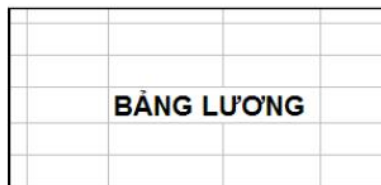
	A	B	C	D	E	F	G
1	Danh sách học sinh lớp 7A						
2	STT	Họ và tên	Toán	Lí	Ngữ văn	Tin học	Điểm TB
3	1	Nguyễn Tiến Dũng	9	7	6	8	7.5
4	2	Hồ Quang Đạt	7	4	6	6	5.8
5	3	Nguyễn Thanh Hải	6	7	8	8	7.3

Hình 2

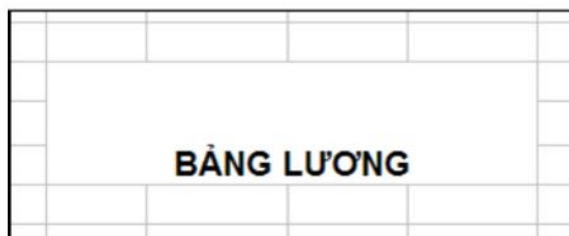
- A. 
- B. 
- C. 
- D. 

Câu 12:

Hãy cho biết Hình b nhận được từ Hình a bằng cách chọn phần văn bản rồi dùng nút lệnh nào trong các nút lệnh sau đây?



Hình a



Hình b

- A.
- B.
- C.
- D.

Câu 13:

Văn bản ở dòng 16 sẽ có định dạng như thế nào?

	A	B	C	D	E	F	G
15	Bảng điểm lớp 7A						
16	Stt	Họ và tên	Toán	Vật lí	Ngữ văn	Tin học	Điểm TB
17	1	Đinh Văn Hoàng An	8	7	8	8	7.8
18	2	Lê Thị Hoài An	8	8	8	8	8.0
19	3	Lê Thái Anh	8	8	7	8	7.8

- A. Văn bản ở dòng 16 sẽ đậm lên
- B. Văn bản ở dòng 16 sẽ nghiêng
- C. Văn bản ở dòng 16 vừa đậm vừa nghiêng
- D. Văn bản ở dòng 16 không thay đổi

Câu 14:

Kết quả của việc thực hiện các thao tác trên như thế nào?




	A	B	C	D	E	F	G
1	Bảng điểm lớp 7A						
2	Stt	Họ và tên	Toán	Vật lí	Ngữ văn	Tin học	Điểm TK
3	1	Đinh Vạn Hoàng An	8	7	8	8	
4	2	Lê Thị Hoài An	8	8	8	8	
5	3	Lê Thái Anh	8	8	7	8	
6	4	Phạm Như Anh	9	10	10	10	
7	5	Vũ Việt Anh	8	6	8	8	


- A. Văn bản sẽ căn giữa
- B. Các ô từ A đến G sẽ hòa trộn thành 1 ô và văn bản sẽ căn giữa
- C. Các ô từ A đến G sẽ hòa trộn thành 1 ô và văn bản sẽ căn phải
- D. Không có thay đổi nào


Câu 15:

Để định dạng màu nền cho ô tính ta sử dụng nút lệnh:



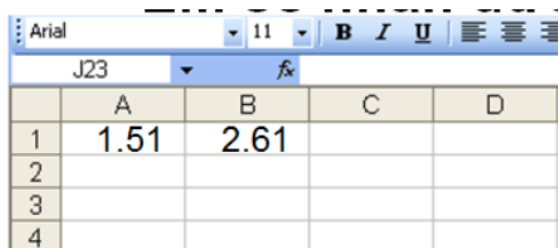
Câu 16:

Ô A1 của trang tính có số 1.753. Sau khi chọn ô A1, nháy chuột 1 lần vào nút Decrease Decimal . Kết quả hiển thị ở ô A1 sẽ là:

- A. 1.753
 - B. 1.75
 - C. 1.76
 - D. Một kết quả khác
- D. 
- C. Ô A3 có nền vàng, phông chữ màu đen
 - D. Ô A3 có nền vàng, phông chữ màu đỏ

Câu 17

Nếu trong ô C1 có công thức $= A1 + B1$. Em sẽ nhận được kết quả gì trong ô đó khi ô C1 định dạng kiểu nguyên?



	A	B	C	D
1	1.51	2.61		
2				
3				
4				

- A. Ô C1 có giá trị là 4
- B. Ô C1 có giá trị là 4.0
- C. Ô C1 có giá trị là 4.1
- D. Ô C1 có giá trị là 4.12